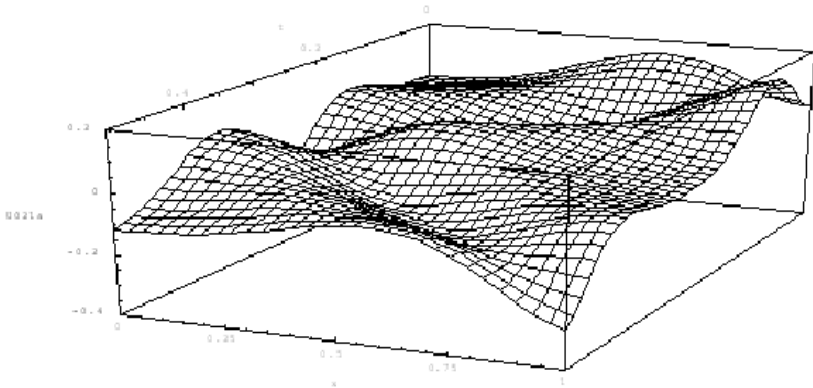


**Е.Г. Глушко А.П. Дубровская**

# **ЭЛЕМЕНТЫ ТЕОРИИ ФУНКЦИЙ КОМПЛЕКСНОГО ПЕРЕМЕННОГО**

**Учебное пособие**



Воронеж 2011

ГОУВПО  
«Воронежский государственный технический  
университет»

Е.Г. Глушко А.П. Дубровская

ЭЛЕМЕНТЫ ТЕОРИИ ФУНКЦИЙ  
КОМПЛЕКСНОГО ПЕРЕМЕННОГО

Утверждено Редакционно-издательским  
советом университета в качестве  
учебного пособия

Воронеж 2011

УДК 517.9

Элементы теории функций комплексного переменного: учеб. пособие/ Е.Г. Глушко, А.П. Дубровская.- Воронеж: ГОУВПО «Воронежский государственный технический университет», 2011. 167 с.

В учебном пособии содержится изложение теоретического материала по разделу “Элементы теории функций комплексного переменного и операционное исчисление” курса высшей математики. Теоретический материал иллюстрируется примерами. В конце каждой темы приводятся задачи для самостоятельного решения.

Издание соответствует требованиям Государственного образовательного стандарта высшего профессионального образования для студентов специальностей 230104 «Системы автоматизированного проектирования», 230101 «Вычислительные машины, комплексы, системы и сети», дисциплине «Математический анализ».

Учебное пособие предназначено для студентов очной формы обучения.

Учебное пособие подготовлено в электронном виде в текстовом редакторе MS Word и содержится в файле «ТФКП1.doc».

Ил. 27. Библиогр.: 5 назв.

Научный редактор д-р физ.-мат. наук, проф. И.Л. Батаронов

Рецензенты: кафедра алгебры и топологических методов

Воронежского государственного университета;

канд. физ.-мат. наук, доц. В.В. Ломакин

© Глушко Е.Г., Дубровская А.П., 2011

© Оформление. ГОУВПО «Воронежский государственный технический университет», 2011

## ВВЕДЕНИЕ

### КОМПЛЕКСНЫЕ ЧИСЛА И ДЕЙСТВИЯ НАД НИМИ

#### 1. Алгебраическая форма комплексных чисел

Комплексными числами называются упорядоченные пары  $x, y$  действительных чисел  $x$  и  $y$ , для которых введены понятия равенства и операции сложения и умножения:

$$x_1, y_1 = x_2, y_2, \text{ если } x_1 = x_2, y_1 = y_2, \quad (1)$$

$$x_1, y_1 + x_2, y_2 = x_1 + x_2, y_1 + y_2, \quad (2)$$

$$x_1, y_1 \cdot x_2, y_2 = x_1 x_2 - y_1 y_2, x_1 y_2 + x_2 y_1. \quad (3)$$

Из формул (2) и (3) вытекают, в частности, соотношения

$$x_1, 0 + x_2, 0 = x_1 + x_2, 0; \quad x_1, 0 \cdot x_2, 0 = x_1 x_2, 0,$$

которые показывают, что операции над комплексными числами вида  $x, 0$  совпадают с операциями над действительными числами  $x$ . Поэтому комплексные числа вида  $x, 0$  отождествляются с действительными числами:  $x, 0 = x$ .

Особую роль играет число  $i = 0, 1$ , которое называется мнимой единицей.

Из формул (2), (3) вытекают также равенства

$$i^2 = i \cdot i = 0, 1 \cdot 0, 1 = -1, 0 = -1,$$

$$0, y = 0, 1 \cdot y, 0 = yi,$$

$$x, y = x, 0 + 0, y = x + iy.$$

Итак, каждое комплексное число  $x, y$  можно представить в виде  $x + iy$ . Такая запись комплексного числа называется **алгебраической формой** комплексного числа. Число  $x$  называется действительной частью, а  $y$  — мнимой частью комплексного числа  $z = x + iy$ . Для этих частей приняты следующие обозначения:

$$x = \operatorname{Re} z, y = \operatorname{Im} z.$$

Комплексное число  $\bar{z} = x - iy$  называется сопряженным с комплексным числом  $z = x + iy$ .

Число  $|z| = \sqrt{x^2 + y^2}$  называется модулем комплексного числа  $z = x + iy$ . Очевидно,  $|z| \geq 0$ , причем,  $|z| = 0$ , тогда и только тогда, когда  $z = 0$ . Модуль действительного числа совпадает с абсолютной величиной этого числа.

Отметим две формулы:  $|z| = |\bar{z}|$ ,  $z \cdot \bar{z} = |z|^2$ , которые вытекают из определений  $|z|$ ,  $\bar{z}$  и равенства

$$z \cdot \bar{z} = (x + iy)(x - iy) = x^2 + y^2.$$

Вычитание и деление комплексных чисел являются действиями, обратными соответственно сложению и умножению. Если  $z_1 = x_1 + iy_1$ ,  $z_2 = x_2 + iy_2$ , то

$$z_1 - z_2 = (x_1 + iy_1) - (x_2 + iy_2) = (x_1 - x_2) + i(y_1 - y_2);$$

$$\frac{z_1}{z_2} = \frac{x_1 + iy_1}{x_2 + iy_2} = \frac{x_1 + iy_1}{x_2 + iy_2} \cdot \frac{x_2 - iy_2}{x_2 - iy_2} = \frac{x_1 x_2 + y_1 y_2}{x_2^2 + y_2^2} + i \frac{x_2 y_1 - x_1 y_2}{x_2^2 + y_2^2}$$

Пример 1. Найти сумму, разность, произведение и частное двух комплексных чисел  $z_1 = 2 - 3i$ ,  $z_2 = 5 + 4i$ .

$$\text{Решение. } z_1 + z_2 = 2 - 3i + 5 + 4i = 2 + 5 + i(-3 + 4) = 7 + i,$$

$$z_1 - z_2 = 2 - 3i - (5 + 4i) = 2 - 5 + i(-3 - 4) = -3 - 7i,$$

$$z_1 \cdot z_2 = (2 - 3i)(5 + 4i) = 2 \cdot 5 + 2 \cdot 4i - 3i \cdot 5 - 3i \cdot 4i =$$

$$= 10 + 8i - 15i - 12i^2 = 10 - 7i - 12 \cdot (-1) = 22 - 7i,$$

$$\frac{z_1}{z_2} = \frac{2 - 3i}{5 + 4i} = \frac{2 - 3i}{5 + 4i} \cdot \frac{5 - 4i}{5 - 4i} = \frac{10 - 8i - 15i + 12i^2}{25 - 20i + 20i - 16i^2} = \frac{-2 - 23i}{41} = -\frac{2}{41} - \frac{23}{41}i.$$

## 2. Геометрическая интерпретация комплексных чисел

Комплексное число как упорядоченная пара вещественных чисел определяет точку  $M(x, y)$  на плоскости или вектор  $\overline{OM}$  (рис. 1).

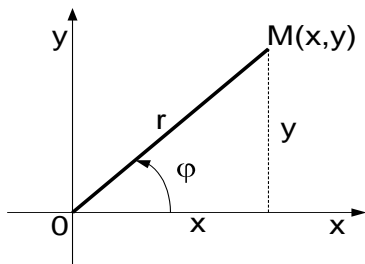


Рис. 1

Плоскость, на которой изображаются комплексные числа, называется комплексной плоскостью. Положение точки  $z = x + iy$  на комплексной плоскости однозначно определяется не только декартовыми координатами  $x, y$ , но и полярными координатами  $r, \varphi$ , где  $r = |z|$  – длина вектора  $\overline{OM}$ , а  $\varphi$  – угол между действительной осью и вектором  $\overline{OM}$ , отсчитываемый от положительного направления действительной оси. При этом, если отсчет ведется против часовой стрелки, то величина угла считается положительной, а если по часовой стрелке – отрицательной. Этот угол называется аргументом комплексного числа  $z, z \neq 0$  и обозначается так:  $\varphi = \text{Arg } z$ . Для числа  $z = 0$  аргумент не определяется, поэтому во всех дальнейших рассуждениях, связанных с понятием аргумента, предполагается, что  $z \neq 0$ .

Угол  $\varphi$  определяется с точностью до  $2\pi k$ , где  $k$  – целое

число. Значение аргумента, заключенное между  $-\pi$  и  $\pi$ , называется его главным значением и обозначается  $\arg z$ . Таким образом,  $Arg z = \arg z + 2\pi k$ .

При этом

$$\arg z = \begin{cases} \operatorname{arctg} \frac{y}{x}, & \text{при } x > 0, \\ \operatorname{arctg} \frac{y}{x} + \pi, & \text{при } x < 0, y \geq 0, \\ \operatorname{arctg} \frac{y}{x} - \pi, & \text{при } x < 0, y < 0, \\ \pi/2, & \text{при } x = 0, y > 0, \\ -\pi/2, & \text{при } x = 0, y < 0. \end{cases}$$

Из рис.1 видно, что

$$x = r \cos \varphi, \quad y = r \sin \varphi.$$

Следовательно, любое комплексное число  $z \neq 0$  можно представить в виде:

$$z = r \cos \varphi + i \sin \varphi. \quad (4)$$

Запись комплексного числа в виде (4) называется **тригонометрической формой** комплексного числа.

Если  $|z| = r = 1$ , то по формуле (4) имеем  $z = \cos \varphi + i \sin \varphi$ .

Комплексное число  $\cos \varphi + i \sin \varphi$  обозначается символом  $e^{i\varphi}$ , т.е. функция  $e^{i\varphi}$  для любого вещественного числа  $\varphi$  определяется формулой Эйлера:

$$e^{i\varphi} = \cos \varphi + i \sin \varphi \quad (5)$$

Подставляя (5) в (4), получаем **показательную форму** комплексного числа:

$$z = re^{i\varphi}.$$

Пример 2. Записать в показательной и тригонометрической формах число  $z = -1 - i$ .

Решение. Здесь  $x = -1$ ,  $y = -1$ ;

$$r = |z| = \sqrt{x^2 + y^2} = \sqrt{1^2 + 1^2} = \sqrt{2}.$$

Так как точка  $z = -1 - i$  лежит в третьей четверти и

$$\operatorname{tg} \varphi = \frac{-1}{-1} = 1, \text{ то } \arg z = \varphi = -\frac{3}{4}\pi.$$

$$z = \sqrt{2} \cos -\frac{3}{4}\pi + i \sin -\frac{3}{4}\pi = \sqrt{2}e^{-i3/4\pi}.$$

Пример 3. Найти  $e^{2\pi i}$ ,  $e^{\pi i}$ ,  $e^{\pi i/2}$ ,  $e^{-i\pi/2}$ .

Решение.  $e^{2\pi i} = \cos 2\pi + i \sin 2\pi = 1$ ,

$$e^{\pi i} = \cos \pi + i \sin \pi = -1,$$

$$e^{i\pi/2} = \cos \pi/2 + i \sin \pi/2 = i,$$

$$e^{-i\pi/2} = \cos -\pi/2 + i \sin -\pi/2 = -i.$$

Из (5) заменой  $\varphi$  на  $-\varphi$  получается равенство:

$$e^{-i\varphi} = \cos -\varphi + i \sin -\varphi = \cos \varphi - i \sin \varphi. \quad (6)$$

Сложением и вычитанием равенств (5) и (6) получаются формулы Эйлера:

$$\cos \varphi = \frac{1}{2} e^{i\varphi} + e^{-i\varphi}, \quad \sin \varphi = \frac{1}{2i} e^{i\varphi} - e^{-i\varphi},$$

с помощью которых тригонометрические функции выражаются через показательную функцию.

Функция  $e^{i\varphi}$  обладает обычными свойствами показательной функции, как если бы число  $i$  было действительным.

Отметим основные из них:



$$e^{i\varphi_1} \cdot e^{i\varphi_2} = e^{i(\varphi_1 + \varphi_2)}, \quad (7)$$

$$\frac{e^{i\varphi_1}}{e^{i\varphi_2}} = e^{i(\varphi_1 - \varphi_2)}, \quad (8)$$

$$e^{i\varphi n} = e^{in\varphi}, \quad n = 0, \pm 1, \pm 2, \dots \quad (9)$$

Из (9) и (5) вытекает формула Муавра:

$$\cos \varphi + i \sin \varphi^n = \cos n\varphi + i \sin n\varphi, \quad n = 0, \pm 1, \pm 2, \dots$$

С помощью (7), (8) легко получаются формулы умножения и деления комплексных чисел, записанных в показательной форме:

$$z_1 \cdot z_2 = r_1 \cdot e^{i\varphi_1} \cdot z_2 e^{i\varphi_2} = r_1 \cdot r_2 e^{i(\varphi_1 + \varphi_2)},$$

$$\frac{z_1}{z_2} = \frac{r_1 e^{i\varphi_1}}{r_2 e^{i\varphi_2}} = \frac{r_1}{r_2} e^{i(\varphi_1 - \varphi_2)}.$$

Пример 4. Найти  $z_1 \cdot z_2$  и  $\frac{z_1}{z_2}$ , если  $z_1 = 4e^{i\pi/3}$ ,  $z_2 = 2e^{-i\pi/6}$ .

Решение.  $z_1 \cdot z_2 = 4e^{i\pi/3} \cdot 2e^{-i\pi/6} = 8e^{i(\pi/3 - \pi/6)} = 8e^{i\pi/6}$ ;

$$\frac{z_1}{z_2} = \frac{4}{2} e^{i(\pi/3 + \pi/6)} = 2e^{i\pi/2}.$$

Пример 5. Найти  $(1 - i\sqrt{3})^{24} \cdot (1 + i)^2$ .

Решение. Пусть  $z_1 = 1 - i\sqrt{3}$ . Тогда  $r_1 = \sqrt{1+3} = 2$ .

$$\varphi_1 = \arctg \frac{-\sqrt{3}}{1} = -\pi/3; \quad z_1 = 1 - i\sqrt{3} = 2e^{-i\pi/3};$$

$$\begin{aligned} (1 - i\sqrt{3})^{24} &= 2e^{-i\pi/3}^{24} = 2^{24} \cdot e^{-i\pi/3 \cdot 24} = 2^{24} \cdot e^{-i8\pi} = \\ &= 2^{24} \cos -8\pi + i \sin -8\pi = 2^{24}; \end{aligned}$$

$$1+i^2 = \sqrt{2} \cdot e^{i\pi/4}^2 = 2e^{i\pi/2} = 2i;$$

$$1-i\sqrt{3}^{24} \cdot 1+i^2 = 2^{24} \cdot 2i = 2^{25} \cdot i.$$

Корень из комплексного числа  $z = re^{i\varphi}$  имеет  $n$  различных значений и находится по формуле:

$$\sqrt[n]{z} = \sqrt[n]{r} \cdot e^{i\frac{\varphi+2k\pi}{n}} = \sqrt[n]{r} \left( \cos \frac{\varphi+2k\pi}{n} + i \sin \frac{\varphi+2k\pi}{n} \right),$$

где  $k = 0, 1, \dots, n-1$ .

Пример 6. Найти значение  $\sqrt[3]{-2-2i}$ .

Решение. Запишем подкоренное комплексное число в показательной форме:  $-2-2i = \sqrt{8}e^{-i3/4\pi}$ . Тогда  $\sqrt[3]{-2-2i} = \sqrt[3]{\sqrt{8}} \cdot e^{i-3/4\pi+2k\pi/3}$ ,  $k = 0, 1, 2$ .

При  $k = 0$  получаем  $w_0 = \sqrt{2}e^{-i\pi/4}$ ; при  $k = 1$   $w_1 = \sqrt{2}e^{i5/12\pi}$ ; при  $k = 2$   $w_2 = \sqrt{2}e^{i13/12\pi}$ .

## § 1. ЛИНИИ И ОБЛАСТИ НА КОМПЛЕКСНОЙ ПЛОСКОСТИ

1.1. Комплекснозначные функции действительного переменного

Если каждому значению  $t$  из интервала  $(a, b)$  поставить в соответствие комплексное число  $z(t) = x(t) + i \cdot y(t)$ , где  $x(t) = \operatorname{Re}z(t)$ , а  $y(t) = \operatorname{Im}z(t)$ , то мы будем говорить, что на интервале  $(a, b)$  задана комплекснозначная функция  $z(t)$  действительного переменного  $t$ . Для комплекснозначных функций действительного переменного естественным образом определяются понятия предела, непрерывности, производной, интеграла. Именно, полагаем

$$\lim_{t \rightarrow t_0} z(t) = \lim_{t \rightarrow t_0} x(t) + i \lim_{t \rightarrow t_0} y(t); z'(t) = x'(t) + iy'(t)$$

$$\int_a^b z(t) dt = \int_a^b x(t) dt + i \int_a^b y(t) dt .$$

## 1.2. Линии

Пусть дана комплекснозначная функция  $z(t)$ , непрерывная на  $[a, b]$ . Когда точка  $t$  пробегает отрезок  $[a, b]$ , точка  $z(t)$  пробегает некоторое множество в комплексной плоскости. Это множество вместе с указанием порядка, в котором проходятся его точки называется **непрерывной кривой**, а уравнение  $z = z(t)$  - **параметрическим уравнением** этой кривой. Если у кривой существует хотя бы одно параметрическое уравнение  $z = z(t)$ ,  $t \in [a, b]$ , обладающее тем свойством, что функция  $z(t)$  принимает различные значения при различных значениях  $t$ , то эта кривая называется **простой кривой**. Кривая называется **замкнутой**, если ее начало совпадает с ее концом, т.е. если она имеет параметрическое уравнение  $z = z(t)$ ,  $a \leq t \leq b$ , для которого  $z(a) = z(b)$ . Если кривая имеет хотя бы одно параметрическое уравнение  $z = z(t)$ ,  $t \in [a, b]$ , где функция  $z(t)$  имеет на  $[a, b]$  непрерывную и отличную от нуля производную, то кривая называется **гладкой кривой**.

Непрерывная кривая называется **кусочно-гладкой** кривой, если ее можно разбить на конечное число частей, каждая из которых является гладкой кривой.

## 1.3. Области

Множество  $D$  точек комплексной плоскости или расширенной комплексной плоскости называется **областью**, если

- 1) вместе с каждой точкой, принадлежащей этому множеству, ему принадлежит и некоторая окрестность этой точки;
- 2) вместе с каждой парой точек, принадлежащих этому множеству, ему принадлежит и некоторая ломаная, соединяющая эти точки.

**Граничной точкой области  $D$**  называется точка, в любой окрестности которой есть точки, принадлежащие  $D$ , и точки, не принадлежащие  $D$ .

Совокупность всех граничных точек области называется ее **границей**.

Граница области – замкнутое множество.

Область, дополненная ее границей, называется **замкнутой областью** и обозначается  $\bar{D}$ .

Область  $D \subset C$  называется **ограниченной**, если существует такое число  $R > 0$ , что  $|z| < R$  при всех  $z \in D$ . Геометрически это означает, что множество  $D$  лежит внутри некоторого круга с центром в начале координат.

Мы будем считать в дальнейшем, что граница области состоит из конечного числа изолированных точек и конечного числа замкнутых кусочно-гладких кривых. Направление кривых будем считать выбранным таким образом, что при движении по граничной кривой область  $D$  остается **слева**.

Область  $D$ , ограниченная замкнутой несамопересекающейся линией  $\Gamma$ , называется **односвязной**. Примером односвязной области в комплексной плоскости может служить круг с центром в некоторой точке  $z_0$  радиуса  $r$ , задаваемый неравенством  $|z - z_0| < r$  (рис.1).

Если область  $D$  ограничена двумя замкнутыми, не пересекающимися и не самопересекающимися линиями  $r_1$  и  $r_2$ , то она называется **двусвязной**. Область является двусвязной и в том случае, если внутренняя линия вырождается в точку или дугу непрерывной линии. Двусвязной областью является, например, кольцо с центром в точке  $z_0$ , задаваемое неравенствами  $r < |z - z_0| < R$  (рис.2).

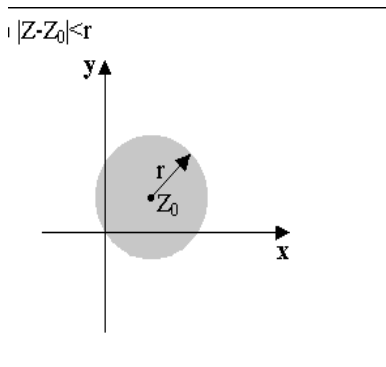


Рис.1.

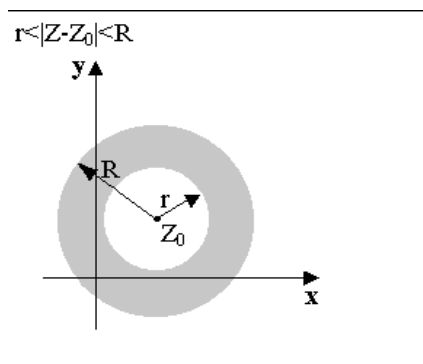


Рис.2.

### Решение типовых задач.

Задача 1. Написать уравнение следующих линий в комплексно-параметрической форме:

а) 
$$\begin{cases} x = 2 + 4t \\ y = 5 + 3t \end{cases} ; \quad \text{б) } (x-3)^2 + (y-2)^2 = 36 .$$

Решение. а) Так как  $z(t) = x(t) + iy(t)$ , то  $z = 2 + 5i + (4 + 3i)t$ .

б) Окружность  $(x-3)^2 + (y-2)^2 = 36$  имеет центр в точке  $(3,2)$  и радиус, равный 6.

Запишем уравнение окружности в параметрической форме:

$$\begin{cases} x = 3 + 6 \cos t \\ y = 2 + 6 \sin t \end{cases} ,$$

а затем в комплексно-параметрической форме:

$$\begin{aligned} z(t) &= 3 + 6 \cos t + i(2 + 6 \sin t) = 3 + 2i + 6(\cos t + i \sin t) = \\ &= 3 + 2i + 6e^{it}, \quad 0 \leq t \leq 2\pi. \end{aligned}$$

Задача 2. Какие линии заданы уравнениями,  $t$  - действительный параметр: а)  $z = 4e^{it}$ , б)  $z = t^2 + \frac{i}{t^2}$ .

Решение. а) Так как  $e^{it} = \cos t + i \sin t$ , то  $z(t) = x(t) + iy(t) = 4 \cos t + 4i \sin t$ . Приравнявая действительные

и мнимые части, получим: 
$$\begin{cases} x = 4 \cos t \\ y = 4 \sin t \end{cases}$$

Исключив параметр  $t$ , получим  $x^2 + y^2 = 16$ . Данная линия – окружность с центром в начале координат радиуса 4 (рис.3).

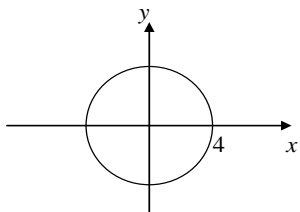


Рис.3

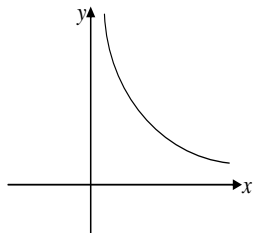


Рис.4

б) Исключая параметр  $t$  из системы 
$$\begin{cases} x = t^2 \\ y = \frac{1}{t^2} \end{cases}$$
, получим

$y = \frac{1}{x}$ . Но  $x > 0$ ,  $y > 0$ , следовательно, уравнение 
$$\begin{cases} x = t^2 \\ y = \frac{1}{t^2} \end{cases}$$
 оп-

ределяет ветвь гиперболы, лежащую в I четверти (рис.4)

Задача 3. Определить и построить на комплексной плоскости линии, заданные уравнениями:

а)  $|z + 3 - i| = 4$ ,    б)  $\operatorname{Re} z = -3$ ,    в)  $\operatorname{Im} \frac{1}{z} = \frac{1}{4}$ .

Решение. а) Пользуясь определением модуля и тем, что  $z = x + iy$ , получим

$$|z + 3 - i| = |x + 3 + i(y - 1)| = \sqrt{(x + 3)^2 + (y - 1)^2} = 4$$

или  $(x + 3)^2 + (y - 1)^2 = 16$  - уравнение окружности с центром в точке  $(-3, 1)$  радиуса 4.

Данную задачу можно решить иначе. Представим уравнение в виде  $|z - (-3 + i)| = 4$ . Так как  $|z - z_1|$  - расстояние между точками  $z$  и  $z_1$ , то из данного уравнения определяем, что расстояние от точки  $-3 + i$  до любой точки данной линии одно и то же и равно 4. Поэтому уравнение определяет окружность с центром в точке  $-3 + i$  радиуса 4 (рис. 5).

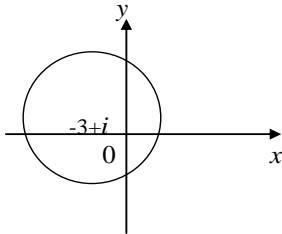


Рис.5.

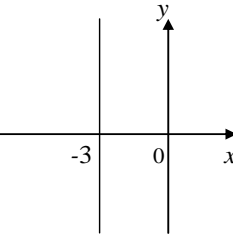


Рис.6.

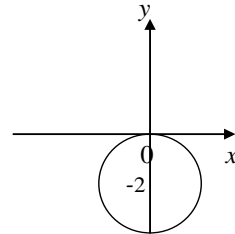


Рис.7.

б) Так как  $\operatorname{Re} z = x$ , то из условия следует, что  $x = -3$ . Это уравнение прямой, параллельной оси  $Oy$  (рис. 6)

в) Так как  $\frac{1}{z} = \frac{1}{x + iy} = \frac{x}{x^2 + y^2} - i \frac{y}{x^2 + y^2}$ , то уравнение  $\operatorname{Im} \frac{1}{z} = \frac{1}{4}$  примет вид  $-\frac{y}{x^2 + y^2} = \frac{1}{4}$ , или после преобразования

получим:  $x^2 + (y + 2)^2 = 4$ . Следовательно, уравнение  $\operatorname{Im} \frac{1}{z} = \frac{1}{4}$  определяет окружность радиуса 2 с центром в точке  $(0, -2)$  (рис. 7)

Задача 4. Построить в комплексной плоскости множества точек, удовлетворяющие неравенствам:

а)  $|z| \leq 5$ ,    б)  $|z - 3 + 5i| \geq \frac{1}{2}$ ,    в)  $1 < |z - 3 + 2i| < 2$ ,

г)  $\operatorname{Im} z < 3$ ,    д)  $1 < |z + 3 - 2i| < 2$ ,  $\frac{2}{3}\pi < \arg z < \frac{5}{6}\pi$ .

Указать тип рассматриваемого множества точек.

Решение. а) Данному множеству точек удовлетворяют точки круга с центром в начале координат радиуса 5. Это множество является областью, так как оно связное. эта область ограничена, так как она целиком содержится внутри круга с центром в начале координат радиуса 6. Область замкнутая, так как включает в себя границу  $|z|=5$  и односвязная, так как граница состоит из одной окружности  $|z|=5$  (рис. 8).

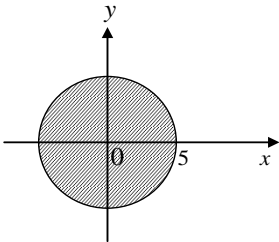


Рис. 8.

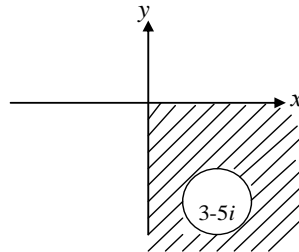


Рис. 9.

б) множество точек расположено вне круга с центром в точке  $3-5i$  радиуса  $\frac{1}{2}$ , то есть плоскость  $z$  с вырезанным кругом. Это множество – область. Область неограничена, так как она не может быть заключена ни в какой круг конечного радиуса. Область замкнутая, так как ее граница – окружность  $|z-3+5i|=\frac{1}{2}$  принадлежит данному множеству. Область односвязная (рис.9).

в) Данное множество точек должно одновременно удовлетворять двум условиям:  $|z-(3-2i)|<2$  и  $|z-(3-2i)|>1$ .

Первое из этих неравенств определяет открытый круг радиуса 2 с центром в точке  $3-2i$ , второе – внешность единичного круга с центром в точке  $3-2i$ . Следовательно, данное множество точек – открытое кольцо с центром в точке  $3-2i$  и радиусами 1 и 2. Область открытая, так как граница ее



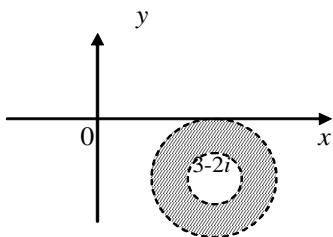


Рис.10.

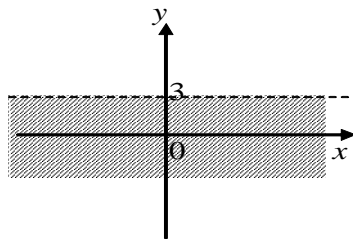


Рис.11.

– окружности  $|z-3+2i|=2$  и  $|z-3+2i|=1$  не принадлежат данному множеству. Область ограничена, так как она целиком лежит внутри круга  $|z|<7$ , и в силу того, что граница ее состоит из двух связных частей – двух окружностей, она двусвязна (рис. 10).

г) Так как  $\text{Im } z = y$ , то точки данного множества удовлетворяют неравенству  $y < 3$ . Это множество – полуплоскость (рис. 11). Оно не включает границу  $y = 3$ , поэтому это открытая область. Область неограничена, так как не может быть заключена ни в какой круг конечного радиуса, односвязна.

д) Множество точек, заданное условиями

$$1 < |z - (-3 + 2i)| < 2,$$

$$\frac{3}{4}\pi < \arg z < \frac{5}{6}\pi \text{ есть часть}$$

комплексной плоскости

(рис.12) Данное множество точек не является областью, так как нет связности.

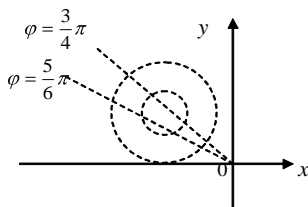


Рис.12.

### Задачи для самостоятельного решения.

Задача 1. Какие линии представлены уравнениями:

1.1.  $z = 1 + 3i t$ , где а)  $-\infty < t < +\infty$ , б)  $0 < t < +\infty$ ,

$$1.2. z = t + \frac{1}{t}, \quad 1.3. z = t + it^2 - 4, \quad 1.4. z = \frac{5}{2} \cos t + i \frac{3}{2} \sin t,$$

$$1.5. |z-1| = 2|z-i|, \quad 1.6. \operatorname{Re} z^2 = a^2, \quad 1.7. z = 7e^{2it} + 3e^{-2it},$$

$$1.8. \operatorname{Re} z + \operatorname{Im} 2z = 3, \quad 1.9. \operatorname{Im} z^2 = -3, \quad 1.10. \arg z = \frac{\pi}{8}.$$

Ответ. 1.1. а) прямая  $y = 3x$ , б) полупрямая  $y = 3x$ , лежащая в I четверти; 1.2.  $xy = 1$ , 1.3.  $y = (x+4)^2$ ,

$$1.4. \frac{x^2}{6,25} + \frac{y^2}{2,25} = 1, \quad 1.5. \left(x + \frac{1}{3}\right)^2 + \left(y - \frac{4}{3}\right)^2 = \frac{8}{9},$$

$$1.6. x^2 - y^2 = a^2, \quad 1.7. \frac{x^2}{100} + \frac{y^2}{16} = 1, \quad 1.8. x + 2y = 3,$$

$$1.9. 2xy = -3, \quad 1.10. \text{луч } \varphi = \frac{\pi}{8}.$$

Задача 2. Записать с помощью неравенств следующие множества и построить их:

2.1. полосу, состоящую из точек, отстоящих от мнимой оси на расстояние меньше единицы;

2.2. полукруг радиуса 1 (без границы) с центром в точке  $z = 0$ , расположенный левее от мнимой оси;

2.3. первый квадрант,

2.4. полуплоскость, образованную точками, лежащими выше прямой  $y = 2$ ,

2.5. круг радиуса 2 с центром в точке  $z = 1 + i$  (вместе с окружностью).

Ответ: 2.1.  $-1 < \operatorname{Re} z < 1$ , 2.2.  $|z| < 1, \operatorname{Re} z < 0$ ,

2.3.  $0 < \arg z < \frac{\pi}{2}$ , 2.4.  $\operatorname{Im} z > 2$ , 2.5.  $|z - 1 - i| \leq 2$ .

Задача 3. Построить на комплексной плоскости  $z$  области, заданные неравенствами:

$$3.1. |z - 2 + 2i| \geq 1,5, \quad 3.2. 1 < |z - 2| < 3,$$

$$3.3. 1 < |z| < 2, \quad \frac{\pi}{6} < \arg z < \frac{\pi}{4}, \quad 3.4. \left| \frac{z-1}{z-2i} \right| > 1,$$

$$3.5. |z-2| + |z+2| < 5, \quad 3.6. \left| \frac{z-1}{z+1} \right| \leq 1,$$

$$3.7. -1 \leq \operatorname{Re} z \leq 2, \quad 3.8. \operatorname{Im} z < \operatorname{Re} z.$$

Указать, является ли каждая из этих областей открытой или замкнутой, ограниченной или неограниченной, односвязной или многосвязной.

Ответ. 3.1. Внешность круга – односвязная, неограниченная, замкнутая область;

3.2. Кольцо – область двусвязная, ограниченная, открытая;

3.3. Часть кольца между лучами  $\varphi = \frac{\pi}{6}$  и  $\varphi = \frac{\pi}{4}$  - область односвязная, ограниченная, открытая;

3.4. Часть плоскости, расположенная выше прямой  $y = \frac{x}{2} + \frac{3}{4}$ , область неограниченная, открытая;

3.5. Внутренность эллипса – открытая, ограниченная, односвязная область;

3.6. Полоса  $-1 \leq x \leq 2$  - неограниченная, односвязная, замкнутая область;

3.7. Часть плоскости, расположенная ниже прямой  $y = x$ , открытая, односвязная, неограниченная область.

## §2. ФУНКЦИЯ КОМПЛЕКСНОГО ПЕРЕМЕННОГО, ЕЕ ГЕОМЕТРИЧЕСКИЙ СМЫСЛ. ОСНОВНЫЕ ЭЛЕМЕНТАРНЫЕ ФУНКЦИИ.

### 2.1. Понятие функции комплексного переменного

Пусть даны две плоскости комплексных чисел  $z = x + iy$  и  $w = u + iv$  и пусть комплексное переменное  $z$  принимает

всевозможные значения из некоторого множества  $D$  в плоскости  $z$ .

Если каждому значению  $z$  из  $D$  по некоторому закону поставлено в соответствие определенное комплексное число  $w$  из множества  $G$  в плоскости  $w$ , то говорят, что на множестве  $D$  задана **однозначная функция комплексного переменного**  $w = f(z)$ .

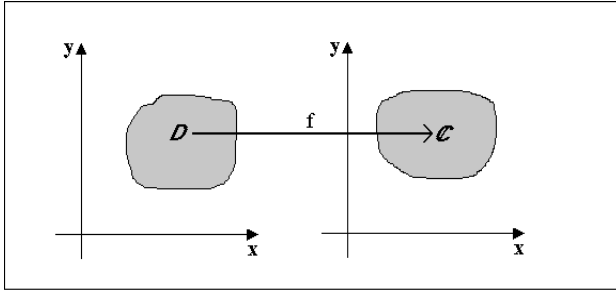


Рис. 13.

Если существуют значения  $z \in D$ , каждому из которых соответствует несколько разных значений  $w$ , то функция  $w = f(z)$  называется **многозначной**.

Например, функция  $w = z^2$  является однозначной, так как каждому значению переменного  $z$  из комплексной плоскости  $z$  соответствует единственное комплексное число, равное квадрату этого значения. Найдем действительную и мнимую части  $w$ . Если  $u = \operatorname{Re} w$ ,  $v = \operatorname{Im} w$ , то

$$w = u + iv = z^2 = (x + iy)^2 = x^2 + i2xy + i^2y^2 = (x^2 - y^2) + i2xy.$$

Значит, действительная часть  $u(x, y) = x^2 - y^2$ , а мнимая часть  $v(x, y) = 2xy$ .

Вообще, если  $w = u + iv$  есть функция от  $z = x + iy$ , то функции  $u$  и  $v$  являются функциями  $x$  и  $y$ , то есть  $u = u(x, y)$ ,  $v = v(x, y)$  и  $w = u(x, y) + iv(x, y)$

## 2.2. Предел. Непрерывность.

Говорят, что однозначная функция  $w = f(z)$  при  $z \rightarrow z_0$

имеет определенный **предел**  $A$  ( $A=a+ib$ ), если для всякого числа  $\varepsilon > 0$  найдется такое число  $\delta > 0$ , что из неравенства  $|z - z_0| < \delta$  следует неравенство  $|f(z) - A| < \varepsilon$ . В этом случае пишут  $\lim_{z \rightarrow z_0} f(z) = A$ .

Функция  $w = f(z)$  называется **непрерывной** в точке  $z_0$ , если  $\lim_{z \rightarrow z_0} f(z) = f(z_0)$ . Функция непрерывная в каждой точке некоторой области  $D$ , называется непрерывной в этой области.

Непрерывность  $f(z)$  в точке  $z_0$  эквивалентна непрерывности функций  $u = u(x, y)$ ,  $v = v(x, y)$  в точке  $(x_0, y_0)$ .

2.3. Основные элементарные функции комплексной переменной.

Следующие функции (как однозначные, так и многозначные) называются основными элементарными:

### 1. Дробно-рациональная функция

$$\frac{a_0 z^n + a_1 z^{n-1} + \dots + a_n}{b_0 z^m + b_1 z^{m-1} + \dots + b_m}, \quad n, m \in N.$$

Частными случаями этой функции являются:

а) линейная функция

$$az + b, \quad a, b \in C, a \neq 0;$$

б) степенная функция  $z^n$ ,  $n \in N$ ;

в) дробно-линейная функция

$$\frac{az + b}{cz + d}, \quad a, b, c, d \in C, c \neq 0, ad - bc \neq 0;$$

г) функция Жуковского  $\frac{1}{2} \left( z + \frac{1}{z} \right)$ .

### 2. Показательная функция

$$e^z = e^x (\cos y + i \sin y).$$

### 3. Тригонометрические функции

$$\sin z = \frac{1}{2i}(e^{iz} - e^{-iz}), \quad \cos z = \frac{1}{2}(e^{iz} + e^{-iz}),$$

$$\operatorname{tg} z = \frac{\sin z}{\cos z}, \quad \operatorname{ctg} z = \frac{\cos z}{\sin z}.$$

### 4. Гиперболические функции

$$\operatorname{sh} z = \frac{1}{2}(e^z - e^{-z}), \quad \operatorname{ch} z = \frac{1}{2}(e^z + e^{-z}),$$

$$\operatorname{th} z = \frac{\operatorname{sh} z}{\operatorname{ch} z}, \quad \operatorname{cth} z = \frac{\operatorname{ch} z}{\operatorname{sh} z}.$$

**Замечание.** Легко видеть, что  $\sin z$  и  $\operatorname{sh} z$  связаны соотношением  $\operatorname{sh} z = -i \sin iz$ , а  $\cos z$  и  $\operatorname{ch} z$  соотношением  $\operatorname{ch} z = \cos iz$ . Справедлива формула Эйлера  $e^{iz} = \cos z + i \sin z$ . Известные из элементарной математики формулы

$$e^{z_1} \cdot e^{z_2} = e^{z_1+z_2}, \quad \frac{e^{z_1}}{e^{z_2}} = e^{z_1-z_2},$$

$$\sin(z_1 \pm z_2) = \sin z_1 \cos z_2 \pm \cos z_1 \sin z_2;$$

$$\cos(z_1 \pm z_2) = \cos z_1 \cos z_2 \mp \sin z_1 \sin z_2$$

справедливы и для комплексных значений аргументов  $z_1$  и  $z_2$ .

### 5. Логарифмическая функция

$$\operatorname{Ln} z = \ln |z| + i(\arg z + 2k\pi).$$

Функция  $\operatorname{Ln} z$  является многозначной. В каждой точке  $z$ , отличной от нуля и  $\infty$ , она принимает бесконечно много значений. Выражение  $\ln |z| + i \arg z$  называется **главным значением** логарифмической функции и обозначается  $\ln z$ . Таким образом,

$$\operatorname{Ln} z = \ln z + 2k\pi i.$$

### 6. Общая степенная функция $z^a = e^{a \operatorname{Ln} z}$ , $a \in \mathbb{C}$ .

Эта функция многозначная, ее главное значение равно  $e^{aln z}$ .

Если  $a = \frac{1}{n}, n \in \mathbb{N}$ , то получаем многозначную функцию-

корень  $n$ -й степени из комплексного числа:

$$z^{\frac{1}{n}} = \sqrt[n]{z} = e^{\frac{1}{n}(\ln|z| + i(\arg z + 2k\pi))} = \sqrt[n]{|z|} e^{i \frac{\arg z + 2k\pi}{n}}.$$

### 7. Общая показательная функция

$$a^z = e^{z \operatorname{Ln} a}, \quad a \in \mathbb{C}.$$

Главное значение этой многозначной функции равно  $e^{z \ln a}$ . В дальнейшем при  $a > 0$  полагаем  $a^z = e^{z \ln a}$ .

### 8. Обратные тригонометрические и обратные гиперболические функции:

$$\operatorname{Arcsin} z = -i \operatorname{Ln}(iz + \sqrt{1 - z^2}), \quad \operatorname{Arccos} z = -i \operatorname{Ln}(z + \sqrt{z^2 - 1}),$$

$$\operatorname{Arctg} z = -\frac{i}{2} \operatorname{Ln} \frac{1 + iz}{1 - iz},$$

#### Решение типовых задач

Задача 1. При отображении  $w = z^2$  найти:

а) образы линий  $x = c$ , б) прообразы линий  $u = c$ .

Решение. Выделим действительную и мнимую части функций  $w = z^2 = (x + iy)^2 = x^2 - y^2 + 2xyi$ , то есть

$$\operatorname{Re} w = u = x^2 - y^2, \quad \operatorname{Im} w = v = 2xy.$$

$x = c$  - прямые, параллельные оси  $Oy$ . Для того, чтобы найти образы этих прямых на плоскости  $w$ , необходимо систему

$$\text{уравнений} \quad \begin{cases} x = c \\ u = x^2 - y^2 \\ v = 2xy \end{cases} \text{ разрешить относительно } u \text{ и } v. \text{ Эта}$$

система равносильна системе  $\begin{cases} u = c - y^2 \\ v = 2cy \end{cases}$ . Исключая параметр

$y$ , получим  $v^2 = -2c^2(u - c^2)$ . Это уравнение определяет на

плоскости  $\omega$  семейство парабол с вершиной в точке  $(c^2, 0)$ , направленных в отрицательную сторону оси  $Ou$ . Когда точка  $z$  пробегает линию  $x = c$ , то соответствующая точка  $\omega$  пробегает линию  $v^2 = -2c^2(u - c^2)$ .

Следовательно, для прообраза  $x = c$  на плоскости  $z$  образом является семейство парабол  $v^2 = -2c^2(u - c^2)$  на плоскости  $w$  при отображении  $w = z^2$  (рис.14). При  $c = 0$   $x = 0$  и  $\begin{cases} u = -y^2 \\ v = 0 \end{cases}$ . Равенство  $v = 0$  означает, что точки расположены на оси  $Ou$ . Из первого уравнения системы следует, что  $u \leq 0$ . Следовательно,  $x = 0$  отобразится на отрицательную часть действительной оси  $Ou$  плоскости  $w$

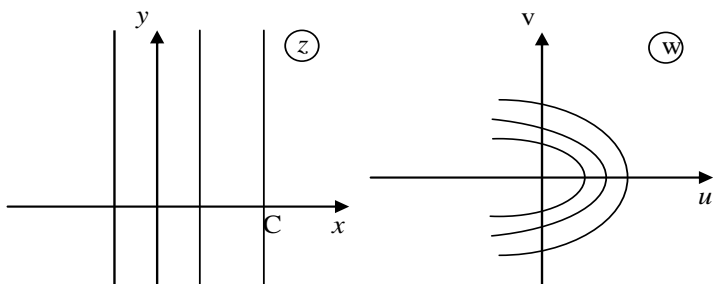


Рис. 14

б)  $u = c$  - прямые, параллельные оси  $Ov$ .

Для нахождения прообразов этих прямых на плоскости

можно, решая систему уравнений  $\begin{cases} u = x^2 - y^2 \\ v = 2xy \\ u = c \end{cases}$  получить

$x^2 - y^2 = c$ ,  $c \neq 0$ . Это уравнение определяет на плоскости  $z$  семейство гипербол. Если  $c = 0$ ,  $x^2 - y^2 = 0$ , откуда  $x = \pm y$ , то есть прообразом оси  $Ov$  является пара прямых. Следовательно-



но, прообразами семейства прямых линий  $u = c$  на  $w$  при отображении  $w = z^2$  является семейство гипербол  $x^2 - y^2 = c$  на плоскости  $z$  (рис. 15).

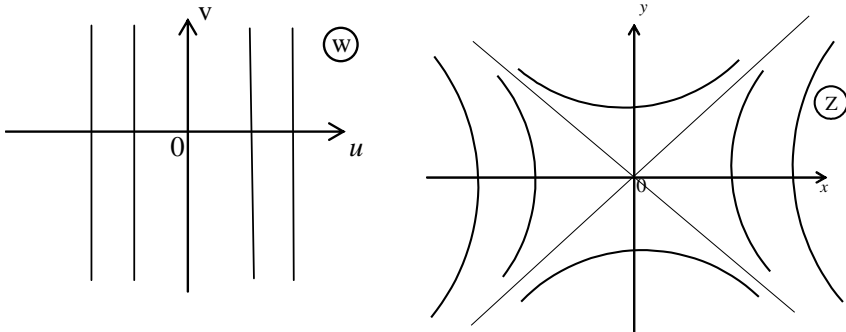


Рис. 15.

Задача 2. При отображении  $w = z^3$  найти образ линии  $z = (1 + 2i)t$ .

Решение. Уравнение  $z = (1 + 2i)t$  равносильно уравнениям  $x = t, y = 2t$ . Оно определяет на плоскости  $z$  прямую  $y = 2x$ . Эта прямая отображается с помощью функции  $w = z^3$  на линию  $w = (1 + 2i)^3 t^3 = (-2i - 11)t^3$ . Откуда  $u = \operatorname{Re} w = -11t^3, v = \operatorname{Im} w = -2t^3$ .

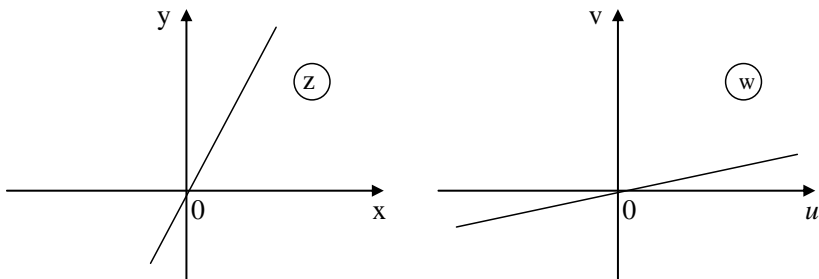


Рис. 16.

Исключая параметр  $t$ , получим  $u = 5,5v$  - уравнение прямой

на плоскости  $w$  (рис. 16).

Задача 3. При отображении  $w = \frac{1}{z}$  найти образ линии  $y = -x/2$ .

Решение. Так как функция  $w = \frac{1}{z}$  устанавливает взаимно однозначное соответствие между точками  $z$  и  $w$ , то  $z = \frac{1}{w}$ .

Выделим действительную и мнимую части  $z$ :

$$z = \frac{1}{w} = \frac{1}{u+iv} = \frac{u-iv}{u^2+v^2} = \frac{u}{u^2+v^2} - i \frac{v}{u^2+v^2},$$

$$x = \operatorname{Re} z = \frac{u}{u^2+v^2}, \quad y = \operatorname{Im} z = -\frac{v}{u^2+v^2}.$$

Подставим полученные выражения для  $x$  и  $y$  в уравнение

прямой  $y = -\frac{x}{2}$ , получим  $-\frac{v}{u^2+v^2} = -\frac{u}{2(u^2+v^2)}$ ,  $v = \frac{u}{2}$ .

Следовательно, прямая  $y = -\frac{x}{2}$  отображается в прямую

$$v = \frac{u}{2}. \quad (\text{рис.17}).$$

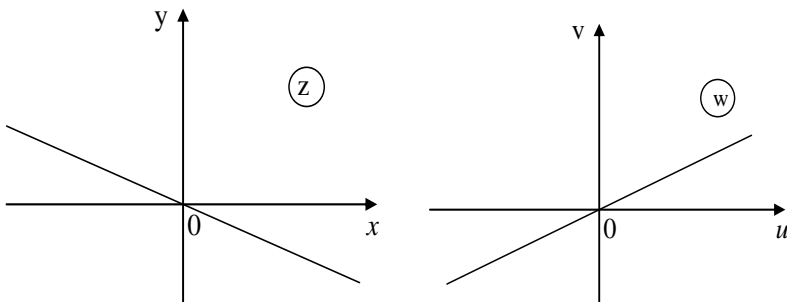


Рис. 17.

Задача 4. Вычислить следующие пределы:

$$\text{а) } \lim_{n \rightarrow \infty} \left( \frac{n}{n+1} + i \frac{n}{2n+3} \right), \quad \text{б) } \lim_{n \rightarrow \infty} \left( \frac{1+i}{2} \right)^n, \quad \text{в) } \lim_{n \rightarrow \infty} \frac{1+in}{1-in}.$$

Решение. а)  $\lim_{n \rightarrow \infty} (x_n + iy_n) = \lim_{n \rightarrow \infty} x_n + i \lim_{n \rightarrow \infty} y_n$ , поэтому

$$\lim_{n \rightarrow \infty} \left( \frac{n}{n+1} + i \frac{n}{2n+3} \right) = \lim_{n \rightarrow \infty} \frac{n}{n+1} + i \lim_{n \rightarrow \infty} \frac{n}{2n+3} = 1 + \frac{1}{2}i.$$

$$\text{б) Так как } \left| \frac{1+i}{2} \right| < \frac{\sqrt{2}}{2} < 1, \lim_{n \rightarrow \infty} \left| \frac{1+i}{2} \right|^n = 0, \text{ то } \lim_{n \rightarrow \infty} \left( \frac{1+i}{2} \right)^n = 0.$$

в) Можно поступить, как в случае а), выделив вначале действительную и мнимую части, или воспользоваться теоремами о пределах:

$$\lim_{n \rightarrow \infty} \frac{1+in}{1-in} = \lim_{n \rightarrow \infty} \frac{\frac{1}{n} + i}{\frac{1}{n} - i} = -1.$$

Задача 5. Вычислить следующие пределы:

$$\text{а) } \lim_{z \rightarrow 1+i} \frac{z}{z+1}, \quad \text{б) } \lim_{z \rightarrow i} \frac{z^2}{z-i}, \quad \text{в) } \lim_{z \rightarrow 2i} \frac{z^2+4}{z-2i}, \quad \text{г) } \lim_{z \rightarrow \infty} \frac{z-2i}{z+i}.$$

$$\text{Решение. а) } \lim_{z \rightarrow 1+i} \frac{z}{z+1} = \lim_{z \rightarrow 1+i} \frac{1+i}{2+i} = \frac{1+i}{2+i};$$

$$\text{б) } \lim_{z \rightarrow i} \frac{z^2}{z-i} = \lim_{z \rightarrow i} \frac{i^2}{i-i} = \lim_{z \rightarrow i} \frac{-1}{i-i} = \infty;$$

$$\text{в) } \lim_{z \rightarrow 2i} \frac{z^2+4}{z-2i} = \lim_{z \rightarrow 2i} (z+2i) = 4i;$$

$$\text{г) } \lim_{z \rightarrow \infty} \frac{z-2i}{z+i} = \lim_{z \rightarrow \infty} \frac{1 - \frac{2i}{z}}{1 + \frac{i}{z}} = 1.$$

Задача 6. Исследовать на непрерывность функцию  $w = z \operatorname{Re} z$ .

Решение. Запишем функцию в виде  $w = (x + iy)x = x^2 + ixy$ ,  $\operatorname{Re} w = u(x, y) = x^2$ ,  $\operatorname{Im} w = v(x, y) = xy$ . Функции  $u(x, y)$  и  $v(x, y)$  непрерывны на плоскости  $xOy$ , тогда  $w = z \operatorname{Re} z$  также непрерывна на всей плоскости  $z$ .

Задача 7. Достигает ли модуль функции  $w = z^2$  наибольшего и наименьшего значений в области

$$|z - i| \leq 3, \operatorname{Im} z \geq 3?$$

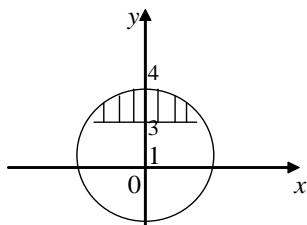


Рис. 18.

Решение. Данная область (заштрихованная) замкнута. Для функции

$$w = z^2 = x^2 - y^2 + 2xyi, \operatorname{Re} w = x^2 - y^2,$$

$$\operatorname{Im} w = 2xy \text{ непрерывны на плоскости } xOy, \text{ значит, в замкнутой и ограниченной области модуль функции}$$

$\omega = z^2$  достигает наибольшего и наименьшего значений.

$|z^2| = |z|^2 = x^2 + y^2$  - квадрат расстояния точки  $(x, y)$  до точки  $(0, 0)$ . Сумма  $x^2 + y^2$  будет наибольшей в точке  $(0, 4)$  и наименьшей в точке  $(0, 3)$ . Следовательно,  $|z^2|$  будет наибольшим в точке  $z_1 = 4i$  и наименьшим в точке  $z_2 = 3i$ . Точки  $z_1 = 4i$  и  $z_2 = 3i$  принадлежат границе области.

Задача 8. Вычислить значения функций:

а)  $e^{3+\frac{\pi}{2}i}$ , б)  $\cos 3i$ , в)  $\operatorname{sh}(-2+i)$ , г)  $\operatorname{Ln}(2-3i)$ , д)  $i-1^i$ .

Решение. а) По определению  $e^z = e^x(\cos y + i \sin y)$ , следовательно,  $e^{3+\frac{\pi}{2}i} = e^3(\cos \frac{\pi}{2} + i \sin \frac{\pi}{2}) = e^3 i \approx 20,09i$ .

б) Исходя из определения  $\cos z = \frac{e^{iz} + e^{-iz}}{2}$ , получаем

$$\cos 3i = \frac{e^{i3i} + e^{-i3i}}{2} = \frac{e^{-3} + e^3}{2} \approx 10,07.$$

в) По определению  $\operatorname{sh} z = \frac{e^z - e^{-z}}{2}$ ,  $\operatorname{ch} z = \frac{e^z + e^{-z}}{2}$ .

$$\begin{aligned} \operatorname{sh}(-2+i) &= \frac{e^{-2+i} - e^{2-i}}{2} = \frac{1}{2}(e^{-2}(\cos 1 + i \sin 1) - e^2(\cos 1 - i \sin 1)) = \\ &= -\cos 1 \cdot \frac{e^2 - e^{-2}}{2} + i \sin 1 \cdot \frac{e^2 + e^{-2}}{2} = -\cos 1 \cdot \operatorname{sh} 2 + i \sin 1 \cdot \operatorname{ch} 2. \end{aligned}$$

г) Используя определение логарифмической функции, находим

$$\operatorname{Ln}(2-3i) = \ln(2-3i) + 2\pi ki,$$

$$\ln(2-3i) = \ln|2-3i| + i \arg(2-3i), |2-3i| = \sqrt{13}.$$

$$\ln(2-3i) = \ln \sqrt{13} + i \operatorname{arctg}\left(-\frac{3}{2}\right);$$

$$\operatorname{Ln}(2-3i) = \frac{1}{2} \ln 13 + i(2\pi k - \operatorname{arctg} \frac{3}{2}).$$

д) Здесь  $z = i-1$ ,  $\xi = i$ . Тогда  $z = i-1 = \sqrt{2}e^{i3/4\pi}$ ;

$$\operatorname{Ln} z = \ln \sqrt{2} + i \frac{3}{4}\pi + 2k\pi, \quad k = 0, \pm 1, \pm 2, \dots$$

$$i-1^i = e^{i \operatorname{Ln} i-1} = e^{i[\operatorname{Ln} \sqrt{2} + i \frac{3}{4}\pi + 2k\pi]} = e^{-\frac{3}{4}\pi + 2k\pi} \cdot e^{i \ln \sqrt{2}},$$

$$k = 0, \pm 1, \pm 2, \dots$$

### Задачи для самостоятельного решения.

Задача 1. При отображении  $w = z^2$  найти:

1.1. Образы линий  $x = 3$ ,  $y = -2$ ,  $y = c$ .

1.2. Преобразы линий  $u = 1$ ,  $v = 4$ ,  $v = c$ .

Ответы: 1.1.  $v^2 = -36(u-9)$ ;  $v^2 = 16(u+4)$ ;  $u = \frac{v^2}{4c^2} - c^2 (c \neq 0)$ ,

1.2.  $x^2 - y^2 = 1$ ;  $xy = 2$ ;  $xy = \frac{c}{2}$  ( $c \neq 0$ ).

Задача 2. При отображении  $w = \frac{1}{z}$  найти образы линий:

2.1.  $x = c$ ; 2.2.  $y = x - 1$ ; 2.3.  $|z| = 4$ ; 2.4.  $(x - 1)^2 + y^2 = 1$ ;

2.5.  $\arg z = \frac{3}{4}\pi$ ; 2.6.  $x^2 - 2x + y^2 - 2y - 2 = 0$ .

Ответы: 2.1.  $u^2 + v^2 - \frac{u}{c} = 0$ , 2.2.  $(u - \frac{1}{2})^2 + (v - \frac{1}{2})^2 = \frac{1}{2}$ ,

2.3.  $|w| = \frac{1}{4}$ ; 2.4.  $u = \frac{1}{2}$ ; 2.5.  $\arg w = -\frac{3}{4}\pi$ ;

2.6.  $(u + \frac{1}{2})^2 + (v - \frac{1}{2})^2 = 1$ .

Задача 3. При отображении  $w = 2z - i$  найти образы линий:

3.1.  $\operatorname{Re} z = \operatorname{Im} z$ ; 3.2.  $|z| = 1$ .

Ответы: 3.1.  $u - v = 1$ ; 3.2.  $|w + i| = 2$ .

Задача 4. Найти образ области  $0 \leq \operatorname{Re} z \leq 1$ ,  $0 \leq \operatorname{Im} z \leq 1$  при отображении  $\omega = z^2$ . Образ и прообраз изобразить геометрически.

Ответ: Квадрат отображается в криволинейный треугольник, расположенный в верхней полуплоскости и ограниченный линиями  $-1 \leq u \leq 1$ ,  $v^2 = \pm 4(u \pm 1)$ .

Задача 5. Вычислить следующие пределы:

5.1.  $\lim_{n \rightarrow \infty} (\frac{n-1}{n} + i \frac{n}{n+1})$ , 5.2.  $\lim_{n \rightarrow \infty} \frac{n+2i}{3n+7i}$ , 5.3.  $\lim_{n \rightarrow \infty} (1 + \frac{1}{n}) e^{i\frac{\pi}{n}}$ ,

5.4.  $\lim_{n \rightarrow \infty} \frac{i^n}{n}$ , 5.5.  $\lim_{n \rightarrow \infty} (1+3i)^n$ , 5.6.  $\lim_{n \rightarrow \infty} n \sin \frac{i}{n}$ , 5.7.  $\lim_{n \rightarrow \infty} e^{-i(\frac{\pi}{2} + \frac{1}{2n})}$ .

Ответы: 5.1.  $1+i$ ; 5.2.  $\frac{1}{3}$ ; 5.3. 1; 5.4. 0; 5.5. не существует;

5.6.  $i$ , 5.7.  $-i$ .

Задача 6. Вычислить следующие пределы:

6.1.  $\lim_{z \rightarrow 1} \frac{2z+1}{z+2}$ ; 6.2.  $\lim_{z \rightarrow 3-4i} |z|$ ; 6.3.  $\lim_{z \rightarrow \infty} \frac{z^2+1}{z-2i}$ ; 6.4.  $\lim_{z \rightarrow 1} \frac{z^2-1}{z-1}$ ;

6.5.  $\lim_{z \rightarrow \infty} \frac{3z^2 - z + i}{2z^2 + z}$ ; 6.6.  $\lim_{z \rightarrow 0} \frac{\bar{z}}{z}$ ; 6.7.  $\lim_{z \rightarrow -\frac{\pi}{2}i} \frac{e^{2z} + 1}{e^z + i}$ .

Ответы: 6.1. 1; 6.2. 5; 6.3.  $\infty$ ; 6.4. 2; 6.5.  $\frac{3}{2}$ ; 6.6. не существует; 6.7.  $-2i$ .

Задача 7. Исследовать на непрерывность функции. Указать области определения, однозначность, многозначность, непрерывность.

7.1.  $w = z^2$ ; 7.2.  $w = \bar{z}$ ; 7.3.  $w = \operatorname{Re} z$ ; 7.4.  $w = \operatorname{Im} z$ ;

7.5.  $w = \frac{1}{z}$ ; 7.6.  $w = z + \frac{1}{z}$ .

Ответы: непрерывны всюду 7.5, 7.6 кроме точки  $z=0$ . Определены, однозначны, непрерывны всюду 7.5, 7.6 кроме  $z=0$ .

Задача 8. Вычислить значения функций:

8.1.  $e^{-1+2i}$ ; 8.2.  $\operatorname{ch} i$ ; 8.3.  $\sin(5-i)$ ; 8.4.  $\cos(i \ln 5)$ ; 8.5.  $\operatorname{Ln}(3+4i)$ ;

8.6.  $\operatorname{Arcsin} 2$ ; 8.7.  $i^{1+i}$ .

Ответы: 8.1.  $\frac{1}{e}(\cos 2 + i \sin 2)$ ; 8.2.  $\cos 1$ ;

8.3.  $-\sin 5 \operatorname{ch} 1 - i \cos 5 \operatorname{sh} 1$ ; 8.4. 2,6;

8.5.  $\ln 5 + i(\operatorname{arctg} \frac{4}{3} + 2\pi k), k \in \mathbb{Z}$ ;

8.6.  $\frac{\pi}{2} - i \ln(2 \pm \sqrt{3}) + 2\pi k, k \in \mathbb{Z}$ ; 8.7.  $ie^{-\frac{\pi}{2} + 2\pi k}, k \in \mathbb{Z}$ .

### §3. ПРОИЗВОДНАЯ ФУНКЦИИ КОМПЛЕКСНОГО ПЕРЕМЕННОГО. АНАЛИТИЧЕСКИЕ И ГАРМОНИЧЕСКИЕ ФУНКЦИИ

#### 3.1. Производная. Формулы для вычисления производной.

**Производной** однозначной функции комплексного переменного  $w = f(z)$  в точке  $z_0$  называется предел отношения приращения функции к приращению аргумента, если приращение аргумента любым способом стремится к нулю, то есть

$$f'(z_0) = \lim_{\Delta z \rightarrow 0} \frac{\Delta w}{\Delta z} = \lim_{\Delta z \rightarrow 0} \frac{f(z_0 + \Delta z) - f(z_0)}{\Delta z}.$$

Функция, имеющая производную при данном значении  $z$ , называется **дифференцируемой** при этом значении  $z$ .

Производную функции  $f(z)$  можно считать по любой из следующих формул

$$f'(z) = \frac{\partial u}{\partial x} + i \frac{\partial v}{\partial x} \quad \text{и} \quad f'(z) = \frac{\partial v}{\partial y} - i \frac{\partial u}{\partial y}.$$

Можно показать, что производные элементарных функций  $z^n, e^z, \cos z, \sin z, \operatorname{ch} z, \operatorname{sh} z$  находятся по тем же формулам, что и для действительного аргумента

$$(z^n)' = nz^{n-1}; \quad (e^z)' = e^z; \quad (\cos z)' = -\sin z;$$

$$(\sin z)' = \cos z; \quad (\operatorname{ch} z)' = \operatorname{sh} z; \quad (\operatorname{sh} z)' = \operatorname{ch} z.$$

#### 3.2. Аналитические и гармонические функции

Функция комплексного переменного  $f(z)$ , определенная в области  $D$  и дифференцируемая в каждой точке этой области, называется **аналитической** в области  $D$ .

Необходимым и достаточным условием аналитичности функции  $f(z) = u(x, y) + i v(x, y)$  в области  $D$  плоскости  $z$  является существование и непрерывность частных производных первого порядка функций  $u(x, y)$  и  $v(x, y)$  в  $D$  и выполнение условий Коши-Римана



$$\frac{\partial u}{\partial x} = \frac{\partial v}{\partial y}, \quad \frac{\partial u}{\partial y} = -\frac{\partial v}{\partial x}. \quad (\text{C.-R.})$$

С помощью этих условий легко проверить, является ли данная функция аналитической.

Функция двух действительных переменных  $u(x, y)$ , определенная в области  $D$ , имеющая в этой области непрерывные частные производные до второго порядка включительно и удовлетворяющая уравнению Лапласа

$$\frac{\partial^2 u}{\partial x^2} + \frac{\partial^2 u}{\partial y^2} = 0$$

называется **гармонической** в области  $D$ .

Между аналитическими и гармоническими функциями существует простая связь. Действительная и мнимая части всякой аналитической функции являются гармоническими функциями. Однако функция  $f(z) = u(x, y) + i v(x, y)$ , где  $u(x, y)$  и  $v(x, y)$  - произвольные гармонические на  $D$  функции, не всегда является аналитической на  $D$ . Она будет аналитической только в том случае, если функции  $u(x, y)$  и  $v(x, y)$  удовлетворяют в  $D$  условиям Коши-Римана. Гармонические функции  $u(x, y)$  и  $v(x, y)$ , связанные условиями Коши-Римана, называются **сопряженными**.

В случае односвязной области  $D$  справедливо утверждение: любая гармоническая функция в односвязной области  $D$  является действительной (мнимой) частью некоторой аналитической функции.

### Решение типовых задач

Задача.1. Представить функцию  $w = iz^2 + 3z - 5$  в виде  $w = u(x, y) + i v(x, y)$ , проверить, будет ли она аналитической, и в случае положительного ответа найти значение ее производной в точке  $z_0 = 1 + i$ .

Решение. Имеем  $w = iz^2 + 3z - 5 = i(x + iy)^2 + 3(x + iy) - 5 =$

$$= ix^2 + i^2 2xy + i^3 y^2 + 3x + i3y - 5 = (3x - 2xy - 5) + i(x^2 - y^2 + 3y).$$

Значит,  $u(x, y) = 3x - 2xy - 5$ ,  $v(x, y) = x^2 - y^2 + 3y$ . Проверим выполнение условий Коши-Римана

$$\frac{\partial u}{\partial x} = 3 - 2y; \quad \frac{\partial u}{\partial y} = -2x; \quad \frac{\partial v}{\partial x} = 2x; \quad \frac{\partial v}{\partial y} = -2y + 3.$$

Итак,  $\frac{\partial u}{\partial x} = \frac{\partial v}{\partial y}$  и  $\frac{\partial u}{\partial y} = -\frac{\partial v}{\partial x}$ .

Так как  $u(x, y)$  и  $v(x, y)$  имеют непрерывные частные производные и условия Коши-Римана выполняются во всех точках плоскости  $z$ , то данная функция аналитична во всей плоскости. Найдем ее производную

$$w' = f'(z) = \frac{\partial u}{\partial x} + i \frac{\partial v}{\partial x} = (3 - 2y) + i2x = 2i(x + iy) + 3 = 2iz + 3.$$

Тогда  $f'(1+i) = 2i(1+i) + 3 = 2i - 2 + 3 = 1 + 2i$ .

**Замечание:** из условий Коши-Римана вытекает, что производную функции  $f(z)$  можно считать также по формулам

$$f'(z) = \frac{\partial v}{\partial y} + i \frac{\partial v}{\partial x} \quad \text{и} \quad f'(z) = \frac{\partial u}{\partial x} - i \frac{\partial u}{\partial y}.$$

Задача 2. Показать, что функция  $u(x, y) = x^2 + 3x - y^2$  является гармонической на всей плоскости  $xOy$ .

Решение. Найдем частные производные функции  $u(x, y)$

$$\frac{\partial u}{\partial x} = 2x + 3; \quad \frac{\partial u}{\partial y} = -2y; \quad \frac{\partial^2 u}{\partial x^2} = 2; \quad \frac{\partial^2 u}{\partial y^2} = -2; \quad \frac{\partial^2 u}{\partial x \partial y} = 0.$$

Так как частные производные непрерывны и

$$\frac{\partial^2 u}{\partial x^2} + \frac{\partial^2 u}{\partial y^2} = 2 - 2 = 0,$$

то функция  $u(x, y) = x^2 + 3x - y^2$  является гармонической.

Задача 3. Проверить является ли функция  $v(x, y) = e^y \cos x$  мнимой частью некоторой аналитической функции.

Решение. Так как  $\frac{\partial^2 u}{\partial x^2} + \frac{\partial^2 u}{\partial^2 y} = -e^{-y} \cos x + e^y \cos x = 0$  во

всей плоскости, то  $v(x, y)$  - гармоническая функция, следовательно, она является мнимой частью некоторой аналитической функции, то есть найдется такая функция  $u(x, y)$ , что  $w = u + i v$  будет аналитической во всей комплексной плоскости.

Задача 4 . Дифференцируемы ли функции

4.1.  $w = |z|$ , 4.2.  $w = -\sin x - i \sin y$  ?

Решение. 4.1. Так как  $|z| = \sqrt{x^2 + y^2}$ , то

$$w = u(x, y) + i v(x, y) = |z| = \sqrt{x^2 + y^2},$$

следовательно,  $u(x, y) = \sqrt{x^2 + y^2}$ ,  $v(x, y) = 0$ .

Найдем частные производные:

$$\frac{\partial u}{\partial x} = \frac{x}{\sqrt{x^2 + y^2}}, \quad \frac{\partial u}{\partial y} = \frac{y}{\sqrt{x^2 + y^2}}, \quad \frac{\partial v}{\partial x} = 0, \quad \frac{\partial v}{\partial y} = 0,$$

$$\frac{\partial u}{\partial x} \neq \frac{\partial v}{\partial y}, \quad \frac{\partial v}{\partial x} \neq -\frac{\partial u}{\partial y}.$$

Условия Коши-Римана не выполняются. Следовательно, функция  $w = |z|$  не дифференцируема.

4.2.  $u = \operatorname{Re} w = -\sin x$ ,  $v = \operatorname{Im} w = -\sin y$ .

Проверим выполнение условий Коши-Римана, для чего найдем частные производные:

$$\frac{\partial u}{\partial x} = -\cos x, \quad \frac{\partial u}{\partial y} = 0, \quad \frac{\partial v}{\partial x} = 0, \quad \frac{\partial v}{\partial y} = -\cos y.$$

Условия Коши-Римана выполняются только для точек плоскости  $z$ , лежащих на прямой  $x = y$ .

Итак, данная функция дифференцируема во всех точках прямой  $x = y$ .

Задача 5 . Является ли аналитической функция  $w = z \cdot \operatorname{Im} z$  ?

Решение:  $w = z \cdot \operatorname{Im} z = xy + iy^2$  и  $u(x, y) = \operatorname{Re} w = xy$ ,  
 $v(x, y) = \operatorname{Im} w = y^2$ .

Проверяем условия Коши-Римана, для чего вначале находим частные производные:  $\frac{\partial u}{\partial x} = y$ ,  $\frac{\partial u}{\partial y} = x$ ,  $\frac{\partial v}{\partial x} = 0$ ,  $\frac{\partial v}{\partial y} = 2y$ .

Частные производные непрерывны на всей комплексной плоскости  $z$ , но условия Коши-Римана выполняются только при  $x = 0$ ,  $y = 0$ . Следовательно, функция  $w = z \cdot \operatorname{Im} z$  дифференцируема только в точке  $z = 0$  и нигде не является аналитической, так как не существует окрестности точки  $z = 0$ , в которой функция была бы дифференцируемой.

Задача 6 . Показать, что функция

$$w = f(z) = x^3 - 3xy^2 + i(3x^2y - y^3)$$

является аналитической на всей комплексной плоскости  $z$  и найти ее производную.

Решение.

$u(x, y) = \operatorname{Re} w = x^3 - 3xy^2$ ,  $v(x, y) = \operatorname{Im} w = 3x^2y - y^3$  - непрерывные функции.

Проверим выполнение условий Коши-Римана:

$$\frac{\partial u}{\partial x} = 3x^2 - 3y^2, \quad \frac{\partial u}{\partial y} = -6xy, \quad \frac{\partial v}{\partial x} = 6xy, \quad \frac{\partial v}{\partial y} = 3x^2 - 3y^2.$$

$$\text{Итак, } \frac{\partial u}{\partial x} = \frac{\partial v}{\partial y}, \quad \frac{\partial u}{\partial y} = -\frac{\partial v}{\partial x}.$$

Так как  $u(x, y)$  и  $v(x, y)$  имеют непрерывные частные производные и выполняются условия Коши-Римана в любой точке плоскости  $z$ , то данная функция аналитична во всей плоскости.

Найдем ее производную:

$$w' = f'(z) = \frac{\partial u}{\partial x} + i \frac{\partial v}{\partial x} = 3x^2 - 3y^2 + i6xy = 3(x + iy)^2 = 3z^2.$$

Задача 7 . Восстановить, если это возможно, аналитические функции по заданной действительной или мнимой части:

7.1.  $u(x, y) = \operatorname{Re} w = x^3 + 6x^2y - 3xy^2 - 2y^3$  и  $w(0) = f(0) = 0$ ,

7.2.  $v(x, y) = e^x \sin y$ ,  $f(0) = i$ , 7.3.  $u = x^2 + 1$ .

Решение. 7.1. Функция  $u(x, y)$  является гармонической на всей плоскости  $z$ , так как она удовлетворяет уравнению Лапласа:

$$\frac{\partial^2 u}{\partial x^2} + \frac{\partial^2 u}{\partial y^2} = 6x + 12y - 6x - 12y = 0.$$

Данная функция и искомая  $v(x, y) = \operatorname{Im} w$  должны удовлетворять условиям Коши-Римана.

Определим теперь  $v(x, y)$ , пользуясь тем, что она сопряжена с  $u(x, y)$  условиями Коши-Римана.

$$\frac{\partial v}{\partial x} = -\frac{\partial u}{\partial y} = -6x^2 + 6xy + 6y^2,$$

$$\frac{\partial v}{\partial y} = \frac{\partial u}{\partial x} = 3x^2 + 12xy - 3y^2.$$

Интегрируя первое уравнение по  $x$  и считая  $y$  постоянной, получаем  $v(x, y) = -2x^3 + 2yx^2 + 6y^2x + \varphi(y)$ . Но так как

$$\frac{\partial v}{\partial y} = 3x^2 + 12xy - 3y^2, \text{ то должно выполняться равенство}$$

$$3x^2 + 12yx + \varphi'(y) = 3x^2 + 12xy - 3y^2 \text{ или } \varphi'(y) = -3y^2. \text{ Откуда находим, что } \varphi(y) = -y^3 + c.$$

$$\text{Следовательно, } w = u + iv = x^3 + 6x^2y - 3xy^2 - 2y^3 + i(-2x^3 + 3yx^2 + 6y^2x - y^3 + c) = x^3 - 3xy^2 + 3x^2iy - iy^3 -$$

$$-2i(x^3 + 3x^2iy - 3xy^2 - iy^3 - \frac{c}{2}) = z^3 - 2i(z^3 - \frac{c}{2}).$$

Так как  $w(0) = f(0) = 0$ , то  $c = 0$ .

Итак,  $w = f(z) = z^3(1 - 2i)$ .

7.2. Так как  $\frac{\partial^2 v}{\partial x^2} + \frac{\partial^2 v}{\partial y^2} = e^x \sin y - e^x \sin y = 0$  во всей плос-

кости, то  $v(x, y)$  - гармоническая функция. Из условий Коши-Римана найдем гармонически-сопряженную ей функцию  $u(x, y)$ :

$$\frac{\partial u}{\partial x} = \frac{\partial v}{\partial y} = e^x \cos y, \quad \frac{\partial u}{\partial y} = -\frac{\partial v}{\partial x} = e^x \sin y. \quad \text{Интегрируя первое}$$

уравнение по  $x$ , получаем  $u(x, y) = e^x \cos y + \varphi(y)$ . Но в силу

второго уравнения  $\frac{\partial u}{\partial y} = -e^x \sin y$  выполняется равенство

$-e^x \sin y + \varphi'(y) = -e^x \sin y$ . Откуда  $\varphi'(y) = 0$ ,  $\varphi(y) = c$ . Следовательно,  $\omega = u + i v = e^x \cos y + c + i e^x \sin y =$

$$= e^x (\cos y + i \sin y) + c = e^z + c.$$

Так как  $f(0) = -i$ , то  $-i = 1 + c$ , откуда  $c = -1 - i$ .

Итак,  $w = f(z) = e^z - 1 - i$ .

7.3. Прежде всего проверим возможность решения задачи, то есть является ли функция  $u(x, y) = x^2 + 1$  гармонической.

Так как  $\frac{\partial^2 u}{\partial x^2} + \frac{\partial^2 u}{\partial y^2} = 2 \neq 0$ , то  $u(x, y) = x^2 + 1$  не гармоническая

функция и, следовательно, в данном случае невозможно восстановить аналитическую функцию  $w = u + i v$ .

Задача 8 . Найти коэффициент искажения  $k$  и угол поворота  $\theta$  при отображении  $w = e^z$  в точке  $z_0 = \ln 2 + i \frac{\pi}{4}$ .

$$\text{Решение. } w'(z) = e^z, \quad w'(z_0) = w'(\ln 2 + i \frac{\pi}{4}) = e^{\ln 2 + i \frac{\pi}{4}} = e^{\ln 2} e^{i \frac{\pi}{4}} =$$

$$= 2(\cos \frac{\pi}{4} + i \sin \frac{\pi}{4}) = \sqrt{2} + \sqrt{2} \cdot i.$$

Исходя из геометрического смысла модуля и аргумента производной, имеем коэффициент искажения

$$k = \left| w'(\ln 2 + i \frac{\pi}{4}) \right| = 2, \text{ а угол поворота}$$

$$\theta = \arg w'(\ln 2 + i \frac{\pi}{4}) = \arg(\sqrt{2} + \sqrt{2}i) = \frac{\pi}{4}.$$

Так как  $k > 1$ , то имеет место растяжение.

Задача 9. Какая часть плоскости  $z$  растягивается, а какая сжимается при отображении  $w = z^2 + 2z$  ?

Решение.  $w' = 2z + 2$ ,  $|w'| = |2z + 2| = 2|z + 1|$ .

Растяжение происходит, если  $|w'| > 1$ , значит, если  $2|z + 1| > 1$ ,

т.е.  $|z + 1| > \frac{1}{2}$ . Это неравенство определяет множество точек,

лежащих вне круга с центром в точке  $z = -1$  и радиусом  $\frac{1}{2}$ .

Сжатие происходит для точек  $|z + 1| < \frac{1}{2}$ , т.е. внутри указанного

круга. Следовательно, для точек, лежащих за кругом  $|z + 1| < \frac{1}{2}$ , происходит растяжение, а для точек, лежащих

внутри круга  $|z + 1| < \frac{1}{2}$ , происходит сжатие.

### Задачи для самостоятельного решения

Задача 1. Дифференцируемы ли функции

1.1.  $w = e^x \cos y + ie^x \sin y$ , 1.2.  $w = \cos iz$ , 1.3.  $w = z \operatorname{Re} z$  ?

Ответ: 1.1. Да, 1.2. Нет, 1.3. Дифференцируема в точке  $z = 0$ .

Задача 2. Найти область аналитичности функций:

2.1.  $w = \cos \bar{z}$ , 2.2.  $w = \sin 2z$ , 2.3.  $w = \frac{1}{z^2}$ .

- Ответ: 2.1. Не аналитична ни в одной точке,  
 2.2. Аналитична всюду,  
 2.3. Аналитическая, кроме точки  $z = 0$ .

Задача 3. Найти производные функций:

- 3.1.  $w = 3x - 2yi$ , 3.2.  $w = x^3 + y + i(x + y^3)$ , 3.3.  $w = e^{\operatorname{tg} 3z}$ ,  
 3.4.  $w = \sin \frac{z}{3}$ , 3.5.  $w = z^3$ , 3.6.  $w = \cos 2z$ .

- Ответ: 3.1, 3.2 производной не имеют, 3.3  $3e^{\operatorname{tg} 3z} \cdot \sec^2 3z$ ,  
 3.4.  $\frac{1}{3} \cos \frac{z}{3}$ , 3.5.  $3z^2$ , 3.6.  $-2 \sin 2z$ .

Задача 4. Восстановить, если это возможно, аналитические функции по заданной действительной или мнимой части:

- 4.1.  $u(x, y) = 2x^2 - 2y^2 - y$ ,  $w(0) = 0$ ,  
 4.2.  $v(x, y) = \frac{x^2 + y^2 - x}{x^2 + y^2}$ ,  $w(1) = 0$ ,  
 4.3.  $u(x, y) = x^2 - y^2 + x$ ,  $v(x, y) = e^y \cos x$ ,  $w(0) = i$ ,  
 4.4.  $u(x, y) = e^{\frac{y}{x}}$ , 4.5.  $v(x, y) = \operatorname{arctg} \frac{y}{x}$ ,  
 4.6.  $v(x, y) = 2x^2 - 2y^2 + x$ .

- Ответ: 4.1.  $w = f(z) = 2z^2 + iz$ , 4.2.  $w = f(z) = \frac{i(z-1)}{z}$ ,  
 4.3.  $w = f(z) = x^2 - y^2 + x + i(2xy + y + c)$ , 4.4.  $w = f(z) = ie^{-iz}$ ,  
 4.5. Не существует, 4.6. Не существует,  
 4.7.  $w = f(z) = c + (2z^2 + z)i$ .

Задача 5. Найти коэффициент искажения и угол поворота при отображении  $w = z^2$  в точках: 5.1.  $z_0 = 1$ ;

- 5.2.  $z_0 = 1 + i$ ; 5.3.  $z_0 = \sqrt{2}(1 - i)$ .

- Ответ: 5.1.  $k = 2$ ,  $\alpha = 0$ ; 5.2.  $k = 2\sqrt{2}$ ,  $\alpha = \pi/4$ ; 5.3.  $k = 2\sqrt{2}$ ,  $\alpha = \pi/4$ .



5.3.  $k = 4, \text{и} = -\frac{\pi}{4}$ .

Задача 6. Какая часть плоскости  $z$  растягивается, а какая сжимается при следующих отображениях: 6.1.  $w = \frac{1}{z}$ ;

6.2.  $w = \ln z$ ; в)  $w = 2z^2 - 20z + 2$  ?

Ответ: 6.1, 6.2. Растягивается область  $|z| < 1$  (кроме  $z = 0$ ), а сжимается область  $|z| > 1$ ; 6.3. Растягивается область  $|z - 5| > \frac{1}{4}$ , а сжимается область  $|z - 5| < \frac{1}{4}$ .

#### §4. ИНТЕГРАЛ ОТ ФУНКЦИИ КОМПЛЕКСНОГО ПЕРЕМЕННОГО. ТЕОРЕМА КОШИ, ИНТЕГРАЛЬНАЯ ФОРМУЛА КОШИ

##### 4.1. Интеграл от функции комплексного переменного.

Пусть  $w = f(z)$  - непрерывная функция комплексного переменного  $z$ , определенная в некоторой области  $D$  и  $\Gamma$  - гладкая кривая, лежащая в области  $D$ , на которой задано направление от  $z_0$  (начало кривой) к  $z_*$  (конец кривой). Разобьем  $\Gamma$  на  $n$  частей произвольными точками, лежащими последовательно на кривой  $\Gamma$ . Составим сумму

$$S_n = f(z_0)\Delta z_0 + f(z_1)\Delta z_1 + \dots + f(z_{n-1})\Delta z_{n-1},$$

Где приращение  $\Delta z_k = z_{k+1} - z_k$ , ( $k = 0, 1, 2, \dots, n-1$ ).

**Интегралом** от функции  $f(z)$  по кривой  $\Gamma$  называется предел суммы  $S_n$  при  $n \rightarrow \infty$  и  $\max|\Delta z_k| \rightarrow 0$ , то есть

$$\int_{\Gamma} f(z) dz = \lim_{\max|\Delta z_k| \rightarrow 0} \sum_{k=0}^{n-1} f(z_k) \Delta z_k.$$

а) Если  $f(z) = u(x, y) + i v(x, y)$ , то вычисление интеграла сводится к вычислению двух криволинейных интегралов второго рода

$$\int_{\Gamma} f(z) dz = \int_{\Gamma} u(x, y) dx - v(x, y) dy + i \int_{\Gamma} v(x, y) dx + u(x, y) dy.$$

б) Если дуга  $\Gamma$  задана параметрическим уравнением  $z = z(t)$ , причем начальная и конечная точки дуги соответствуют значениям параметра  $t = t_0$  и  $t = t_1$  соответственно, то

$$\int_{\Gamma} f(z) dz = \int_{t_0}^{t_1} f(z(t)) z'(t) dt.$$

в) Если функция  $f(z)$  аналитична в односвязной области  $D$ , содержащей точки  $z_0$  и  $z_1$ , то имеет место формула Ньютона-Лейбница

$$\int_{z_0}^{z_1} f(z) dz = \Phi(z_1) - \Phi(z_0) = \Phi(z) \Big|_{z_0}^{z_1},$$

где  $\Phi(z)$  - какая-либо первообразная для функции  $f(z)$ , то есть  $\Phi'(z) = f(z)$  в области  $D$ .

Если функции  $f(z)$  и  $\varphi(z)$  - аналитические в односвязной области  $D$ , а  $z_0$  и  $z_1$  - произвольные точки этой области, то имеет место формула интегрирования по частям:

$$\int_{z_0}^{z_1} f(z) \varphi'(z) dz = [f(z) \varphi(z)] \Big|_{z_0}^{z_1} - \int_{z_0}^{z_1} \varphi(z) f'(z) dz.$$

#### 4.2. Теорема Коши. Интегральная формула Коши.

Если функция  $f(z)$  аналитическая в односвязной области  $D$ , ограниченной контуром  $\Gamma$  и  $\gamma$  - замкнутый контур в  $D$ , то  $\oint_{\gamma} f(z) dz = 0$ . Если дополнительно  $f(z)$  непрерывна в

замкнутой области  $\bar{D} = D \cup \Gamma$ , то  $\oint_{\Gamma} f(z) dz = 0$ .

Если  $f(z)$  аналитична в области  $D$ ,  $a \in D$  и  $\gamma$  - контур, охватывающий точку  $a$ , то справедлива интегральная формула Коши

$$f(a) = \frac{1}{2\pi i} \oint_{\gamma} \frac{f(\eta)}{\eta - a} d\eta .$$

При этом функция  $f(z)$  имеет всюду в  $D$  производные любого порядка, для которых справедливы формулы

$$f^{(n)}(a) = \frac{n!}{2\pi i} \oint_{\gamma} \frac{f(\eta)}{(\eta - a)^{n+1}} d\eta, \quad n = 1, 2, \dots .$$

### Решение типовых задач

Задача 1. Вычислить интеграл  $\int_L \operatorname{Re} z dx$ , где  $L$  – отрезок прямой, соединяющей точки  $z_1 = 2$  и  $z_2 = 3 + i$ .

Решение.  $f z = \operatorname{Re} z = x$ ,  $u = x$ ,  $v = 0$ , получим

$$\int_L \operatorname{Re} z dz = \int_L x dx + i \int_L x dy .$$

Так как прямая проходит через точки  $z_1 = 2$  и  $z_2 = 3 + i$ , то ее уравнение имеет вид:  $y = x - 2$ ,  $x \in [2, 3]$ .

Поэтому окончательно находим:

$$\int_L x dx = \int_2^3 x dx = \frac{x^2}{2} \Big|_2^3 = \frac{5}{2} ,$$

$$\int_L x dy = \int_2^3 x d(x - 2) = \int_2^3 x dx = \frac{x^2}{2} \Big|_2^3 = \frac{5}{2} ,$$

Таким образом,  $\int_L \operatorname{Re} z dz = \frac{5}{2} (1 + i)$ .

Задача 2. Вычислить  $\int_{\gamma} z \operatorname{Im} z dz$ , где контур  $\gamma$ :

2.1. Дуга параболы  $x = y^2$  от  $z_1 = 0$  до  $z_2 = 1 + i$ ;

2.2. Ломаная ОАВ с вершинами в точках  $z_1 = 0$ ,  $z_2 = \frac{i}{2}$ ,  $z_3 = 1 + i$ .

Решение. Найдем действительную и мнимую части подынтегральной функции  $f(z) = z \operatorname{Im} z$ :

$$u(x, y) = xy, \quad v(x, y) = y^2.$$

Используем формулу сведения интеграла от функции комплексного переменного к криволинейным интегралам:

$$\int_{\gamma} f(z) dz = \int_{\gamma} u(x, y) dx - v(x, y) dy + i \int_{\gamma} v(x, y) dx + u(x, y) dy,$$

то есть

$$\int_{\gamma} z \operatorname{Im} z dz = \int_{\gamma} xy dx - y^2 dy + i \int_{\gamma} y^2 dx + xy dy.$$

Для вычисления криволинейных интегралов нужно перейти к параметрическим уравнениям кривой интегрирования:

2.1. Положим  $y = t, x = t^2$ , где  $0 \leq t \leq 1$ . Значит,

$$\int_{\gamma} z \operatorname{Im} z dz = \int_0^1 (2t^4 - t^2) dt + i \int_0^1 3t^3 dt = \frac{1}{15} + \frac{3}{4}i;$$

2.2. Уравнения отрезка ОА:

$$x = 0, y = t, \text{ где } 0 \leq t \leq \frac{1}{2}.$$

Следовательно,

$$\int_{\gamma} z \operatorname{Im} z dz = - \int_0^{\frac{1}{2}} t^2 dt = -\frac{1}{24}.$$

отрезка АВ:  $x = 2t - 1, y = t$ , где

$$\frac{1}{2} \leq t \leq 1. \text{ Значит}$$

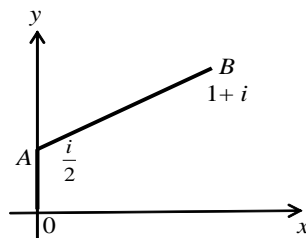


Рис.19.

$$\int_{AB} z \operatorname{Im} z dz = \int_{\frac{1}{2}}^1 (3t^2 - 2t) dt + i \int_{\frac{1}{2}}^1 (4t^2 - t) dt = \frac{3+19i}{24}.$$

Итак,  $\int_{OAB} z \operatorname{Im} z dz = \int_{OA} z \operatorname{Im} z dz + \int_{AB} z \operatorname{Im} z dz = \frac{2+19i}{24}.$

Задача 3. Вычислить  $\int_L \bar{z} dz$ , где L – отрезок параболы

$$\begin{cases} x = t \\ y = 2t^2, \quad t \in 0;1. \end{cases}$$

Решение. По условию  $\bar{z} = x - iy = t - i2t^2$ ;  $dz = 1 - i4t dt$ .

$$\begin{aligned} \int_L \bar{z} dz &= \int_0^1 (t - i2t^2)(1 - i4t) dt = \int_0^1 (t - 8t^3) dt - i6 \int_0^1 t^2 dt = \\ &= t^2 - 2t^4 \Big|_0^1 - i2t^3 \Big|_0^1 = -\frac{3}{2} - 2i. \end{aligned}$$

Задача 4. Вычислить  $\int_{\gamma} (\bar{z} + \operatorname{Re} z) dz$ , где  $\gamma$  – эллипс

$\frac{x^2}{9} + \frac{y^2}{4} = 1$ , проходимый против часовой стрелки, начиная от  $z = 3$ .

Решение. Выделяя действительную и мнимую части подынтегральной функции и используя параметрические уравнения эллипса  $x = 3 \cos t$ ,  $y = 2 \sin t$ , где  $0 \leq t \leq 2\pi$  получим:

$$\begin{aligned} \int_{\gamma} (\bar{z} + \operatorname{Re} z) dz &= \int_{\gamma} 2x dx + y dy + i \int_{\gamma} 2x dy - y dx = \\ &= - \int_0^{2\pi} 7 \sin 2t dt + i \int_0^{2\pi} (9 + 3 \sin 2t) dt = 18\pi i. \end{aligned}$$

Задача 4. Вычислить интеграл  $\int_{\gamma} (2z + 3\bar{z}) dz$ , где  $\gamma$  - верхняя полуокружность  $|z - 2| = 3$ ,  $0 \leq \arg z \leq \pi$ .

Решение. Запишем уравнение  $|z - 2| = 3$  в виде  $z = 2 + 3e^{i\varphi}$ , где  $0 \leq \varphi \leq \pi$ . Следовательно, на  $\gamma$ :  $dz = 3ie^{i\varphi} d\varphi$  и  $\bar{z} = 2 + 3e^{-i\varphi}$ . Итак,

$$\begin{aligned} \int_{\gamma} (2z + 3\bar{z}) dz &= \int_0^{\pi} (2(2 + 3e^{i\varphi}) + 3(2 + 3e^{-i\varphi})) 3ie^{i\varphi} d\varphi = \\ &= 3i \int_0^{\pi} (10e^{i\varphi} + 6e^{2i\varphi} + 9) d\varphi = 3i \left( \frac{10}{i} e^{i\varphi} + \frac{3}{i} e^{2i\varphi} + 9\varphi \right) \Big|_0^{\pi} = -60 + 27\pi i. \end{aligned}$$

Задача 5. Вычислить интеграл  $\int_L e^z dz$ , где  $L$  - отрезок прямой, содержащей точки  $z_0 = 0$  и  $z_1 = 1 - 2i$ .

Решение. Функция  $f(z) = e^z$  является аналитической на плоскости  $z$ . Поэтому

$$\int_L e^z dz = \int_0^{1-2i} e^z dz = e^z \Big|_0^{1-2i} = e^{1-2i} - 1.$$

Задача 6. Вычислить интеграл  $\int_0^i (z - i)e^{-z} dz$ .

Решение. Функция  $(z - i)e^{-z}$  аналитическая во всей плоскости  $z$  и, следовательно, имеет первообразную, которую найдем методом интегрирования по частям. Используя формулу Ньютона-Лейбница для функции аналитической в односвязной области, получим:

$$\int_0^i (z - i)e^{-z} dz = -(z - i)e^{-z} \Big|_0^i + \int_0^i e^{-z} dz = -e^{-z} (z - i + 1)e^{-z} \Big|_0^i =$$

$$1 - i - e^{-i} = 1 - \cos 1 - i(\sin 1 - 1) = 1 - \cos 1 + (1 - \sin 1).$$

Задача 7. Вычислить интеграл  $\int_{\gamma} \frac{e^z}{z + \frac{\pi}{2}i} dz$ , где  $\gamma$  :

7.1. Эллипс  $\frac{(x+1)^2}{9} + y^2 = 1$ ; 7.2. Окружность  $|z+i|=1$ .

Решение.

7.1. Здесь подынтегральная функция является аналитической на контуре интегрирования и внутри его. Значит, по теореме Коши для односвязной области, получим

$$\int_{\gamma} \frac{e^z}{z + \frac{\pi}{2}i} dz = 0.$$

7.2. Здесь подынтегральная функция теряет аналитичность в точке  $z = -\frac{\pi}{2}i$ , которая содержится внутри контура интегрирования. Применим формулу Коши

$$\oint_{\gamma} \frac{f(z)}{z-a} dz = 2\pi i f(a), \text{ где } f(z) = e^z$$

аналитическая в круге  $|z+i| \leq 1$ ,  $a = -\frac{\pi}{2}i$ . Тогда

$$\int_{\gamma} \frac{e^z}{z + \frac{\pi}{2}i} dz 2\pi = 2\pi i e^{-\frac{\pi}{2}i} = 2\pi i (\cos \frac{\pi}{2} - i \sin \frac{\pi}{2}) = 2\pi.$$

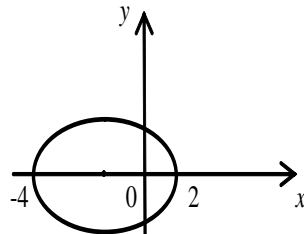


Рис.20.

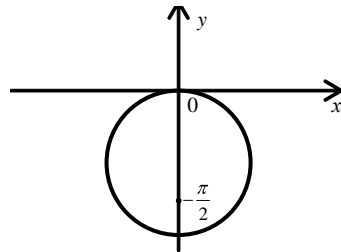


Рис.21.

Задача 8. Вычислить интеграл  $\int_{\gamma} \frac{\operatorname{sh} z \pi}{(z-1)(z^2+4)^2} dz$ , где  $\gamma$ :

8.1. Окружность  $|z-1| = \frac{1}{3}$ ; 8.2. Окружность  $|z+2i| = \frac{1}{3}$ .

Решение. 8.1. Перепишем данный интеграл в виде:

$\int_{\gamma} \frac{\operatorname{sh} z \pi / (z^2+4)^2}{(z-1)} dz$ , функция  $\frac{\operatorname{sh} z \pi}{(z^2+4)^2}$  является аналитической

в круге  $|z-1| \leq \frac{1}{3}$ . следовательно,

применяя формулу Коши, получим:

$$\int_{\gamma} \frac{\operatorname{sh} z \pi / (z^2+4)^2}{(z-1)} dz = 2\pi i \left. \frac{\operatorname{sh} z \pi}{(z^2+4)^2} \right|_{z=1} =$$

$$= \frac{2\pi i}{25} \operatorname{sh} \pi.$$

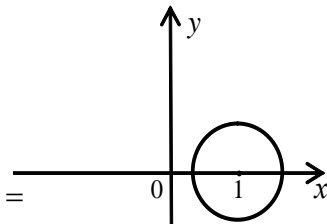


Рис.22.

8.2. Перепишем данный интеграл

в виде:

$$\int_{\gamma} \frac{\operatorname{sh} z \pi / ((z-1)(z-2i)^2)}{(z+2i)^2} dz, \quad \text{здесь}$$

функция  $\frac{\operatorname{sh} z \pi}{(z-1)(z-2i)^2}$  является

аналитической в круге  $|z+2i| \leq \frac{1}{3}$ .

Применим формулу Коши для  $f^{(n)}(a)$ :

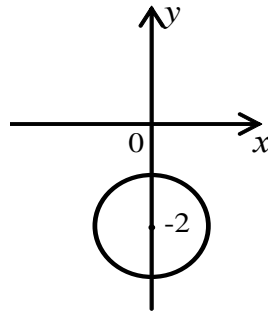


Рис. 23.



$$f^{(n)}(a) = \frac{n!}{2\pi i} \oint_{\gamma} \frac{f(z)}{(z-a)^{n+1}} dz.$$

Здесь  $a = -2i, n = 1, f(z) = \frac{\operatorname{sh} z\pi}{(z-1)(z-2i)^2}$ , то есть

$$\int_{\gamma} \frac{\operatorname{sh} z\pi / ((z-1)(z-2i)^2)}{(z+2i)^2} dz = 2\pi i \left( \frac{\operatorname{sh} z\pi}{(z-1)(z-2i)^2} \right)' \Big|_{z=-2i} = \frac{\pi^2(2+i)}{40}.$$

Задача 9. Вычислить интеграл  $\int_{\gamma} \frac{e^{2z}}{(z+\frac{1}{2})^4} dz$ , где  $\gamma$  - граница

прямоугольника с вершинами в точках  $z_1 = -1-i, z_2 = 1-i, z_3 = 1+2i, z_4 = -1+2i$ .

Внутри контура интегрирования содержится точка  $z = -\frac{1}{2}$  в которой подынтегральная функция теряет аналитичность. Заметим, что  $f(z) = e^{2z}$  является аналитической на границе прямоугольника и внутри его. Применим формулу Коши для высших производных:

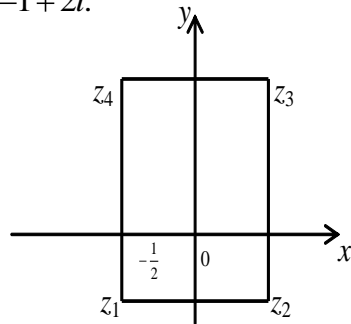


Рис. 24.

$$\int_{\gamma} \frac{e^{2z}}{(z+\frac{1}{2})^4} dz = \frac{2\pi i}{3!} (e^{2z})''' \Big|_{z=-\frac{1}{2}} = \frac{8\pi i}{3e}.$$

### Задачи для самостоятельного решения

Задача 1. Вычислить интеграл  $\int_{\gamma} e^{-z} dz$ , где  $\gamma$ :

1.1. Ломаная с вершинами в точках  $z_1 = 0, z_2 = 2, z_3 = 2 - i$ ;

1.2. Отрезок прямой с концами в точках  $z_1 = 0, z_2 = 2 - i$ .

Ответ: 1.1.  $e^{-2}(\cos 1 - 2 - i \sin 1) + 1$ ;

$$1.2. \frac{4}{5} \left( e^{-2} \left( \left( 1 + \frac{3}{4}i \right) \sin 1 + \left( -\frac{3}{4} + i \right) \cos 1 \right) - i + \frac{3}{4} \right).$$

Задача 2. Вычислить интеграл  $\int_{\gamma} z |\bar{z}| dz$ , где  $\gamma$  - замкнутый

контур, состоящий из верхней полуокружности  $|z| = 1$  и отрезка  $-1 \leq x \leq 1, y = 0$ .

Ответ:  $\pi i$ .

Задача 3. Вычислить интеграл  $\int_{\gamma} \frac{z}{z} dz$ , где  $\gamma$  - граница полу-

кольца, образованного верхними полуокружностями  $|z| = 1$  и  $|z| = 2$  и отрезками  $-2 \leq x \leq -1, y = 0; 1 \leq x \leq 2, y = 0$ .

Ответ:  $4/3$ .

Задача 4. Вычислить интеграл  $\int_{\gamma} \frac{e^{-z}}{z + \pi i} dz$ , где  $\gamma$ :

4.1. Окружность  $|z + 2i| = \frac{1}{2}$ ;

4.2. Граница треугольника с вершинами в точках  $z_1 = 0, z_2 = -1 - 4i, z_3 = 4 - 4i$ .

Ответ: 4.1. 0; 4.2.  $-2\pi i$ .

Задача 5. Вычислить интеграл  $\int_{\gamma} (2 - 3z + z^2) dz$ , где  $\gamma$ :

5.1. Дуга параболы  $x = y^2$ , от  $z_1 = 0$  до  $z = 4 + 2i$ ;

5.2. Дуга окружности  $|z| = 2, -\frac{\pi}{3} \leq \arg z \leq \frac{\pi}{3}$ .

Ответ: 5.1.  $-44 - \frac{164}{3}i$ ; 5.2.  $7\sqrt{3}i$ .

Задача 6. Вычислить интеграл  $\int_{\gamma} \frac{\cos 2z}{z^2 + 3z + 2} dz$ , где  $\gamma$ :

6.1. Окружность  $|z| = \frac{1}{2}$ ; 6.2. Окружность  $|z + 2| = \frac{1}{2}$ ;

6.3. Окружность  $|z + 1| = \frac{1}{2}$ .

Ответ: 6.1. 0; 6.2.  $-2\pi i \cos 4$ ; 6.3.  $2\pi i \cos 2$ .

Задача 7. Вычислить интеграл  $\int_{\gamma} \frac{z^3 + 1}{z^2 + 4} dz$ , где  $\gamma$ :

7.1. Окружность  $|z| = \frac{1}{2}$ ; 7.2. Окружность  $|z + 2i| = 1$ ;

7.3. Окружность  $|z - 2i| = 1$ .

Ответ: 7.1. 0; 7.2.  $\frac{-8+i}{2}\pi i$ ; 7.3.  $\frac{8-i}{2}\pi i$ .

Задача 8. Вычислить интеграл  $\int_{\gamma} \frac{\operatorname{ch} z dz}{(z + \frac{\pi i}{2})^2 (z - \pi i)^2}$ , где  $\gamma$ :

8.1. Окружность  $\left|z + \frac{\pi i}{2}\right| = 1$ ; 8.2. Окружность  $|z - \pi i| = 1$ ;

8.3. Окружность  $|z| = 1$ ; 8.4. Эллипс  $\frac{x^2}{4} + (y - 1)^2 = 1$ .

Ответ: 8.1.  $-\frac{8}{9}\pi$ ; 8.2.  $-\frac{32}{27\pi^2}$ ; 8.3. 0; 8.4. 0.

Задача 9. Вычислить интеграл  $\int_{\gamma} \frac{e^z - 1}{(z + 2i)^3} dz$ , где  $\gamma$  - прямо-

угольник с вершинами в точках:

$$z_1 = -1, z_2 = 1 - 3i, z_3 = 1 - 3i, z_4 = 1.$$

Ответ:  $i\pi e^{-2i}$ .

## §5. СТЕПЕННЫЕ РЯДЫ С ПОЛОЖИТЕЛЬНЫМИ И ОТРИЦАТЕЛЬНЫМИ ПОКАЗАТЕЛЯМИ.

### РАЗЛОЖЕНИЕ ФУНКЦИИ В РЯДЫ ТЕЙЛОРА И ЛОРАНА

#### 5.1. Ряды Тейлора.

Каждая функция  $f(z)$  однозначная и аналитическая в каком-либо круге  $|z - z_0| < R$  разлагается в сходящийся в этом круге степенной ряд по положительным степеням

$$f(z) = \sum_{n=0}^{\infty} C_n (z - z_0)^n, \text{ где коэффициенты } C_n \text{ определяются}$$

формулами

$$C_n = \frac{1}{n!} f^{(n)}(z_0) \quad (1)$$

или

$$C_n = \frac{1}{2\pi i} \int_{|z-z_0|=r} \frac{f(z)}{(z-z_0)^{n+1}} dz, \quad r < R. \quad (2)$$

Этот степенной ряд называется **рядом Тейлора** функции  $f(z)$  в окрестности точки  $z = z_0$ . Формула (1) далеко не всегда позволяет эффективно вычислять коэффициенты  $C_n$ . Формула (2) пригодна для этой цели еще в меньшей степени. Для эффективного вычисления коэффициентов ряда Тейлора существует ряд искусственных приемов.

1. При разложении рациональных функций в ряд Тейлора, разлагаемую функцию бывает полезно разложить на сумму более простых дробей (не обязательно простейших). В некоторых случаях рациональную функцию можно упростить при помощи умножения числителя и знаменателя на подходящий множитель.

2. При разложении в ряд Тейлора комбинаций из показательных и тригонометрических функций часто полезно преоб-

разовать разлагаемую функцию к комбинации только показательных функций.

3. Часто используют известные из математического анализа разложения элементарных функций

$$\text{а) } e^z = 1 + z + \frac{z^2}{2!} + \dots + \frac{z^n}{n!} + \dots = \sum_{n=0}^{\infty} \frac{z^n}{n!}, \quad z \in C;$$

$$\text{б) } \cos z = 1 - \frac{z^2}{2!} + \frac{z^4}{4!} + \dots + (-1)^n \frac{z^{2n}}{(2n)!} + \dots = \sum_{n=0}^{\infty} (-1)^n \frac{z^{2n}}{(2n)!}, \quad z \in C;$$

$$\text{в) } \sin z = z - \frac{z^3}{3!} + \dots + (-1)^n \frac{z^{2n+1}}{(2n+1)!} + \dots = \sum_{n=0}^{\infty} (-1)^n \frac{z^{2n+1}}{(2n+1)!}, \quad z \in C;$$

$$\text{г) } \ln(1+z) = z - \frac{z^2}{2} + \dots + (-1)^{n+1} \frac{z^n}{n} + \dots = \sum_{n=1}^{\infty} (-1)^{n+1} \frac{z^n}{n}, \quad |z| < 1;$$

$$\text{д) } \operatorname{arctg} z = z - \frac{z^3}{3} + \dots + (-1)^{n+1} \frac{z^{2n+1}}{2n+1} + \dots = \sum_{n=0}^{\infty} (-1)^n \frac{z^{2n+1}}{2n+1}, \quad |z| < 1;$$

е)

$$\begin{aligned} (1+z)^\alpha &= 1 + \alpha z + \frac{\alpha(\alpha-1)}{2!} z^2 + \dots + \frac{\alpha(\alpha-1)\dots(\alpha-n+1)}{n!} z^n + \dots = \\ &= 1 + \sum_{n=1}^{\infty} \frac{\alpha(\alpha-1)\dots(\alpha-n+1)}{n!} z^n, \quad |z| < 1, \alpha \in R \setminus N \end{aligned}$$

(в случае, когда  $\alpha = m \in N$  функция  $(1+z)^m$  раскладывается по биному Ньютона в многочлен, причем разложение имеет место во всей плоскости);

ж) при  $\alpha = -1$  из е) получаем бесконечную геометрическую прогрессию со знаменателем  $-z$

$$\frac{1}{1+z} = 1 - z + z^2 - z^3 + \dots + (-1)^n z^n + \dots, \quad |z| < 1.$$

4. Имеется еще один весьма эффективный прием разложения функций в ряд Тейлора. Он состоит в использовании метода неопределенных коэффициентов, отыскиваемых с помощью тех или иных соотношений, которым удовлетворяет раз-

лагаемая функция. Простейшим примером применения этого приёма является задача об отыскании коэффициентов ряда Тейлора отношения двух функций, ряды Тейлора которых известны.

## 5.2.Ряды Лорана

**Рядом Лорана** по степеням  $z - z_0$  называется ряд вида

$$\sum_{n=-\infty}^{\infty} C_n (z - z_0)^n, \quad (1)$$

при этом ряд

$$f_1(z) = \sum_{n=-\infty}^{-1} C_n (z - z_0)^n \quad (2)$$

по отрицательным степеням  $z - z_0$  называется **главной частью** ряда Лорана, а ряд

$$f_2(z) = \sum_{n=0}^{\infty} C_n (z - z_0)^n \quad (3)$$

по положительным степеням называется **правильной** частью ряда Лорана.

Ряд (1) называется **сходящимся** в точке  $z_0$ , если сходятся оба ряда (2), (3). Если ряд (2) сходится в области определяемой неравенством  $|z - z_0| > r$ , а ряд (3) – в области  $|z - z_0| < R$ , то при  $r < R$  ряд Лорана сходится в кольце  $r < |z - z_0| < R$ . В этом кольце сумма рядов  $f(z) = f_1(z) + f_2(z)$  является функцией аналитической, причем коэффициенты ряда  $C_n$  определяются следующим образом

$$C_n = \frac{1}{2\pi i} \int_{|z-z_0|=r'} \frac{f(z)}{(z-z_0)^{n+1}} dz; \quad n = 0, \pm 1, \pm 2, \dots, \text{ где } r < r' < R.$$

Рядом Лорана для функции  $f(z)$  в окрестности точки  $\infty$  называется ряд  $f(z) = \sum_{n=-\infty}^{\infty} C_n z^n$  (или  $\sum_{n=-\infty}^{\infty} C_n (z - a)^n$ ), сходящийся

в некотором кольце  $r < |z| < \infty$  (соответственно  $r < |z - a| < \infty$ ).

При этом главной частью ряда Лорана является ряд  $\sum_{n=1}^{\infty} C_n z^n$  ( $\sum_{n=1}^{\infty} C_n (z - a)^n$ ), а правильной – ряд  $\sum_{n=-\infty}^0 C_n z^n$  ( $\sum_{n=-\infty}^0 C_n (z - a)^n$ ).

Вычисление контурных интегралов для определения  $C_n$ , как и в случае рядов Тейлора, затруднительно. Поэтому для разложения функций в ряд Лорана используются искусственные приемы, которые будут рассмотрены на примерах.

### Решение типовых задач

Задача 1. Найти область сходимости следующих рядов:

а)  $\sum_{n=1}^{\infty} (z^n + \frac{1}{2^n z^n})$ ; б)  $\sum_{n=1}^{\infty} \frac{(z - 2 + i)^n + (z - 2 + i)^{-n}}{n 3^n}$ ;

в)  $\sum_{n=1}^{\infty} \frac{(z + 2i)^n + (z + 2i)^{-n}}{n!}$ .

Решение. а) Согласно определению, данный ряд можно представить в виде:  $\sum_{n=1}^{\infty} (z^n + \frac{1}{2^n z^n}) = \sum_{n=1}^{\infty} z^n + \sum_{n=1}^{\infty} \frac{1}{2^n z^n}$ . Найдем область сходимости ряда  $\sum_{n=1}^{\infty} z^n$  применяя радикальный признак

Коши:  $\lim_{n \rightarrow \infty} \sqrt[n]{|z|^n} = |z|$ , таким образом, ряд  $\sum_{n=1}^{\infty} z^n$  сходится внутри круга радиуса 1 с центром в точке  $z_0 = 0$ .

Для определения области сходимости ряда  $\sum_{n=1}^{\infty} \frac{1}{2^n z^n}$  сделаем замену переменного по формуле  $\frac{1}{z} = \xi$  тогда ряд принимает

ет вид  $\sum_{n=1}^{\infty} \frac{\xi^n}{2^n}$ . Применим к этому ряду радикальный признак

Коши:  $\lim_{n \rightarrow \infty} \sqrt[n]{\left| \frac{\xi^n}{2^n} \right|} = \frac{|\xi|}{2} < 1$ , откуда  $|\xi| < 2$ . Для исходного ряда

область сходимости определяется условием  $\frac{1}{|z|} < 2$ , или  $|z| > \frac{1}{2}$

что представляет собой внешность круга радиуса  $\frac{1}{2}$  с центром в начале координат.

Итак, область сходимости данного ряда определится условиями  $|z| < 1$  и  $|z| > \frac{1}{2}$ . Это кольцо  $\frac{1}{2} < |z| < 1$ .

б) Перепишем данный ряд в следующем виде:

$$\sum_{n=1}^{\infty} \frac{(z-2+i)^n + (z-2+i)^{-n}}{n3^n} = \sum_{n=1}^{\infty} \frac{(z-2+i)^n}{n3^n} + \sum_{n=1}^{\infty} \frac{1}{n3^n(z-2+i)^n}.$$

Область сходимости ряда  $\sum_{n=1}^{\infty} \frac{(z-2+i)^n}{n3^n}$  найдем, используя

признак Даламбера:

$$\lim_{n \rightarrow \infty} \left| \frac{(z-2+i)^{n+1} n 3^n}{(n+1) 3^{n+1} (z-2+i)^n} \right| = \frac{|z-2+i|}{3}, \text{ то есть } \frac{|z-2+i|}{3} < 1, \text{ отку-}$$

да  $|z-(2-i)| < 3$ . Полученное неравенство геометрически описывает внутренность круга радиуса 3 с центром в точке  $z = 2 - i$ .

Второй ряд заменой  $\xi = \frac{1}{z-2+i}$  приведем к виду  $\sum_{n=1}^{\infty} \frac{\xi^n}{n3^n}$ .

Его область сходимости найдем также, пользуясь признаком Даламбера:



$$\lim_{n \rightarrow \infty} \left| \frac{\xi^{n+1} n 3^n}{(n+1) 3^{n+1} \xi^n} \right| = \frac{|\xi|}{3} < 1, \text{ откуда } |\xi| < 3.$$

Значит, ряд  $\sum_{n=1}^{\infty} \frac{1}{n 3^n (z-2+i)^n}$  будет сходиться в области

$|z - (2-i)| > \frac{1}{3}$ , то есть вне круга радиуса  $\frac{1}{3}$  с центром в точке

$$z = 2 - i.$$

Итак, область сходимости данного ряда есть кольцо  $\frac{1}{3} < |z - 2 + i| < 3$ .

в) Представим данный ряд в виде

$$\sum_{n=1}^{\infty} \frac{(z+2i)^n + (z+2i)^{-n}}{n!} = \sum_{n=1}^{\infty} \frac{(z+2i)^n}{n!} + \sum_{n=1}^{\infty} \frac{1}{n!(z+2i)^n}.$$

Для определения области сходимости ряда  $\sum_{n=1}^{\infty} \frac{(z+2i)^n}{n!}$

применим признак Даламбера:

$$\lim_{n \rightarrow \infty} \left| \frac{(z+2i)^{n+1} n!}{(n+1)! (z+2i)^n} \right| = 0, \text{ то есть область сходимости - вся}$$

плоскость  $z$ .

Второй ряд подстановкой  $\xi = \frac{1}{z+2i}$  приведем к виду

$$\sum_{n=1}^{\infty} \frac{\xi^n}{n!}, \text{ для которого область сходимости - вся плоскость } \xi, \text{ то}$$

есть для ряда  $\sum_{n=1}^{\infty} \frac{1}{n!(z+2i)^n}$  область сходимости определяется

условием  $\frac{1}{|z+2i|} < \infty$ , или  $|z+2i| > 0$ . Следовательно, область

сходимости данного ряда описывается неравенством

$0 < |z + 2i| < \infty$ , что геометрически представляет собой плоскость с выколотой точкой  $z = -2i$ .

Задача 2. Разложить функцию  $f(z) = \frac{1}{z-a}$  в ряд Тейлора в окрестности точки  $b \neq a$ .

Решение. В окрестности точки  $z = b$  функция  $f(z) = \frac{1}{z-a}$  является аналитической. Следовательно, согласно теореме 2 ее можно разложить в ряд Тейлора. Для разложения в ряд Тейлора преобразуем данную функцию к виду

$$f(z) = \frac{1}{z-a} = \frac{1}{z-b-a+b} = -\frac{1}{a-b} \cdot \frac{1}{1 - \frac{z-b}{a-b}},$$

где второй множитель есть сумма бесконечно убывающей геометрической прогрессии с первым членом  $a_1 = 1$  и знаменателем  $q = \frac{z-b}{z-a}$ ,  $|q| = \left| \frac{z-b}{z-a} \right| < 1$ , отсюда  $|z-b| < |z-a|$ .

Искомое разложение имеет вид:

$$f(z) = \frac{-1}{a-b} \left( 1 + \frac{z-b}{a-b} + \frac{z-b}{a-b}^2 + \dots + \frac{z-b}{a-b}^{n-1} + \dots \right),$$

или

$$f(z) = -\sum_{n=0}^{\infty} \frac{1}{a-b} \frac{z-b}{a-b}^n; \quad R = |a-b|.$$

Задача 3. Разложить функцию  $f(z) = \frac{z}{z^2+4}$  в ряд Тейлора в окрестности точки  $z_0 = 0$ .

Решение. Для разложения в ряд Тейлора преобразуем дан-

ную функцию к виду  $f(z) = \frac{z}{4(1+z^2/4)} = \frac{z/4}{1-z^2/4}$ . Это

есть сумма бесконечно убывающей прогрессии с  $a_1 = z/4$  и

знаменателем  $q = -z^2/4$ . Так как  $|q| < 1$ , то  $\left| \frac{z^2}{4} \right| < 1$ , откуда

$|z| < 2$ . Получаем искомое разложение:

$$f(z) = \frac{z}{4} - \frac{z}{4} \cdot \frac{z^2}{4} + \frac{z}{4} \left( -\frac{z^2}{4} \right)^2 + \dots + \frac{z}{4} \left( -\frac{z^2}{4} \right)^{n-1} + \dots,$$

$$f(z) = \sum_{n=1}^{\infty} \frac{-1^{n-1}}{4^n} z^{2n-1}; \quad |z| < 2.$$

Задача 4. Разложить функцию  $f(z) = \frac{1}{3z+1}$  в окрестности точки  $z_0 = 1$  и найти область сходимости полученного ряда.

Решение. Мы должны получить разложение по степеням  $(z-1)$ . Преобразуем данную функцию

$$f(z) = \frac{1}{3z+1} = \frac{1}{3(z-1)+4} = \frac{1}{4(1+3(z-1)/4)}.$$

Полученную дробь будем рассматривать как сумму бесконечно убывающей геометрической прогрессии со знаменателем  $q = -3(z-1)/4$ .

Используем формулу  $\frac{b_1}{1-q} = b_1(1+q+q^2+q^3+\dots+q^n+\dots)$ ,

справедливую при  $|q| < 1$ , получим

$$\frac{1}{3z+1} = \frac{1}{4} \left( 1 - \frac{3(z-1)}{4} + \frac{3^2(z-1)^2}{4^2} - \dots + \frac{(-1)^n 3^n (z-1)^n}{4^n} + \dots \right).$$

Мы получили данное разложение при условии  $\left| -\frac{3}{4}(z-1) \right| < 1$ .

Отсюда следует, что область сходимости полученного ряда будет определяться неравенством  $|(z-1)| < \frac{4}{3}$  - геометрически это внутренняя часть круга с центром в точке  $(1;0)$  и радиуса  $4/3$ .

Задача 5. Разложить функцию  $f(z) = e^z$  в ряд Тейлора в окрестности точки  $z_0 = \frac{1}{2}$ . Найти область сходимости полученного ряда.

Решение. Преобразует данную функцию:

$f(z) = e^z = e^{z-\frac{1}{2}+\frac{1}{2}} = e^{z-\frac{1}{2}} e^{\frac{1}{2}}$ . Используя разложение

$$e^u = \sum_{n=0}^{\infty} \frac{u^n}{n!}, (|u| < \infty), \text{ получим } e^{z-\frac{1}{2}} = \sum_{n=0}^{\infty} \frac{(z-\frac{1}{2})^n}{n!}, \left( \left| z - \frac{1}{2} \right| < \infty \right)$$

или  $f(z) = e^{\frac{1}{2}} \sum_{n=0}^{\infty} \frac{(z-\frac{1}{2})^n}{n!}, \left( \left| z - \frac{1}{2} \right| < \infty \right)$ . Область сходимости - вся комплексная плоскость  $z$ .

Задача 6. Разложить функцию  $f(z) = \frac{1}{z^2 + 3z + 2}$  в ряд Лорана в кольце  $0 < |z+2| < 1$ .

Решение. Особыми точками функции

$$f(z) = \frac{1}{z^2 + 3z + 2} = \frac{1}{(z+1)(z+2)}$$

являются точки  $z_1 = -1$  и  $z_2 = -2$ . Значит, в кольце  $0 < |z+2| < 1$  данная функция будет аналитической, то есть со-

гласно теореме Лорана она единственным образом представима в этом кольце своим рядом Лорана  $\sum_{n=-\infty}^{\infty} C_n (z+2)^n$ .

1 способ. Определим коэффициенты  $C_n$  по формуле:

$$C_n = \frac{1}{2\pi i} \int_{\gamma} \frac{1}{(z+1)(z+2)^{n+1}} dz = \frac{1}{2\pi i} \int_{\gamma} \frac{1}{(z+1)(z+2)^{n+2}} dz$$

(здесь  $\gamma$  - любая окружность, содержащаяся в кольце  $0 < |z+2| < 1$ ). Если  $n+2 < 0$ , то есть  $n < -2$ , то подынтегральная функция  $\frac{1}{(z+1)(z+2)^{n+2}}$  аналитическая во всех точках, лежащих в круге  $\gamma$  и в этом случае  $C_n = 0$ . Если  $n+2 \geq 0$ , то есть  $n \geq -2$ , то применяя формулу для производной любого порядка от аналитической функции, получим:

$$\begin{aligned} C_n &= \frac{1}{2\pi i} \int_{\gamma} \frac{(z+1)}{(z+2)^{n+2}} dz = \frac{1}{(n+1)!} \frac{d}{dz} \left( \frac{1}{z+1} \right) \Bigg|_{z=-2} = \\ &= \frac{1}{(n+1)!} \frac{(n+1)!(-1)^{n+1}}{(z+1)^{n+2}} \Bigg|_{z=-2} = -1. \end{aligned}$$

Итак, в кольце  $0 < |z+2| < 1$   $f(z)$  представляется рядом

$$\text{Лорана } f(z) = - \sum_{n=-1}^{\infty} (z+2)^n.$$

2 способ. Укажем способ разложения функции в ряд Лорана, использующий известные разложения элементарных функций в ряд Тейлора. Представим данную дробь как сумму элементарных дробей:

$$\frac{1}{z^2 + 3z + 2} = \frac{1}{(z+1)(z+2)} = \frac{1}{z+1} - \frac{1}{z+2}.$$

Так как функцию  $\frac{1}{z^2 + 3z + 2}$  необходимо представить в виде суммы положительных и отрицательных степеней  $z+2$ , то преобразуем первое слагаемое так:

$$\frac{1}{z+1} = \frac{1}{z+2-1} = -\frac{1}{1-(z+2)}.$$

Дробь  $\frac{1}{1-(z+2)}$  можно рассматривать как сумму геометрической прогрессии со знаменателем  $(z+2)$ , поэтому

$$-\frac{1}{1-(z+2)} = -(1 + (z+2) + (z+2)^2 + \dots + (z+2)^n + \dots).$$

Слагаемое  $\frac{1}{z+2}$  имеет необходимый вид, так как представляет собой степень  $(z+2)$ . Таким образом,

$$\begin{aligned} f(z) &= -\left(\frac{1}{z+2} + 1 + (z+2) + (z+2)^2 + \dots + (z+2)^n + \dots\right) = \\ &= -\sum_{n=-1}^{\infty} (z+2)^n. \end{aligned}$$

Задача 7. Разложить функцию  $f(z) = \cos \frac{3z+4}{z+1}$  в ряд Лорана в окрестности точки  $z_0 = -1$ .

Решение. Преобразуем данную функцию

$$\cos \frac{3z+4}{z+1} = \cos\left(3 + \frac{1}{z+1}\right) = \cos 3 \cos \frac{1}{z+1} - \sin 3 \sin \frac{1}{z+1}.$$

Воспользуемся разложениями в ряд Тейлора функций  $\cos z$ ,  $\sin z$  (стр.52):

$$\cos \frac{3z+4}{z+1} = \cos 3 \left(1 - \frac{1}{2!(z+1)^2} + \frac{1}{4!(z+1)^4} + \dots + \frac{(-1)^n}{(2n)!(z+1)^{2n}} + \dots\right) -$$

$$\begin{aligned}
 & -\sin 3\left(\frac{1}{(z+1)} - \frac{1}{3!(z+1)^3} + \dots + \frac{(-1)^n}{(2n+1)!(z+1)^{2n+1}} + \dots\right) = \\
 & = \cos 3 \sum_{n=0}^{\infty} \frac{(-1)^n}{(2n)!(z+1)^{2n}} - \sin 3 \sum_{n=0}^{\infty} \frac{(-1)^{n+1}}{(2n+1)!(z+1)^{2n+1}}.
 \end{aligned}$$

Полученное разложение справедливо в кольце  $0 < |z+1| < \infty$ .

Задача 8. Разложить функцию  $f(z) = \frac{3z-1}{2z^2-3z-2}$  в окрестности бесконечно удаленной точки  $z_0 = \infty$ .

Решение.

$$f(z) = \frac{3z-1}{2z^2-3z-2} = \frac{3z-1}{(2z+1)(z-2)} = \frac{1}{2z+1} + \frac{1}{z-2}.$$

Данная функция теряет аналитичность в точках  $z_1 = -\frac{1}{2}, z_2 = 2$ , следовательно, окрестностью бесконечно удаленной точки, в которой функция  $f(z)$  является аналитической, будет внешность круга с центром в начале координат радиуса 2:  $|z| > 2$ .

При  $|z| > 2$

$$\frac{1}{2z+1} = \frac{1}{2z} \cdot \frac{1}{1+\frac{1}{2z}} = \frac{1}{2z} \left(1 - \frac{1}{2z} + \frac{1}{2^2 z^2} - \dots + \frac{(-1)^n}{2^n z^n} + \dots\right) = \sum_{n=0}^{\infty} \frac{(-1)^n}{2^{n+1} z^{n+1}},$$

$$\frac{1}{z-2} = \frac{1}{z} \cdot \frac{1}{1-\frac{2}{z}} = \frac{1}{z} \left(1 + \frac{2}{z} + \frac{2^2}{z^2} - \dots + \frac{2^n}{z^n} + \dots\right) = \sum_{n=0}^{\infty} \frac{2^n}{z^{n+1}}.$$

Таким образом,

$$f(z) = \sum_{n=0}^{\infty} \frac{(-1)^n}{2^{n+1} z^{n+1}} + \sum_{n=0}^{\infty} \frac{2^n}{z^{n+1}} = \sum_{n=0}^{\infty} \frac{(-1)^n + 2^{n+1}}{2^{n+1} z^{n+1}} \quad \text{при } |z| > 2.$$

Задача 9. Рассмотреть различные разложения в ряд

Лорана функции  $f(z) = \frac{3z^2 + 1}{z(z^2 + 1)}$  выбрав  $z_0 = i$ .

Решение. Данная функция имеет 3 особые точки  $z_1 = 0, z_2 = i, z_3 = -i$ , в силу чего имеются три круговых кольца с центром в точке  $z_0 = i$ , в которых функция  $f(z)$  аналитична:

$$0 < |z - i| < 1, 1 < |z - i| < 2, 2 < |z - i| < \infty.$$

В каждом из этих колец функция  $f(z)$  разлагается в ряд Лорана единственным образом.

1) В кольце  $0 < |z - i| < 1$ :

$$\begin{aligned} f(z) &= \frac{3z^2 + 1}{z(z^2 + 1)} = \frac{1}{z} + \frac{1}{z - i} + \frac{1}{z + i} = \frac{1}{z - i} + \frac{1}{(z - i) + i} + \frac{1}{(z - i) + 2i} = \\ &= \frac{1}{z - i} + \frac{1}{i} \frac{1}{1 + \frac{z - i}{i}} + \frac{1}{2i} \frac{1}{1 + \frac{z - i}{2i}} = \frac{1}{z - i} + \frac{1}{i} \sum_{n=0}^{\infty} \frac{(-1)^n (z - i)^n}{i^n} + \\ &+ \frac{1}{2i} \sum_{n=0}^{\infty} \frac{(-1)^n (z - i)^n}{2^n i^n} = \frac{1}{z - i} + \sum_{n=0}^{\infty} \frac{(-1)^n (z - i)^n (2^{n+1} + 1)}{2^{n+1} i^{n+1}}; \end{aligned}$$

2) В кольце  $1 < |z - i| < 2$

$$\begin{aligned} f(z) &= \frac{1}{z} + \frac{1}{z - i} + \frac{1}{z + i} = \frac{1}{z - i} + \frac{1}{(z - i) + i} + \frac{1}{(z - i) + 2i} = \\ &= \frac{1}{z - i} + \frac{1}{z - i} \frac{1}{1 + \frac{i}{z - i}} + \frac{1}{2i} \frac{1}{1 + \frac{z - i}{2i}} = \frac{1}{z - i} + \frac{1}{z - i} \sum_{n=0}^{\infty} \frac{(-1)^n i^n}{(z - i)^n} + \\ &+ \frac{1}{2i} \sum_{n=0}^{\infty} \frac{(-1)^n (z - i)^n}{(2i)^n} = \frac{1}{z - i} + \sum_{n=0}^{\infty} \frac{(-1)^n i^n}{(z - i)^{n+1}} + \sum_{n=0}^{\infty} \frac{(-1)^n (z - i)^n}{(2i)^{n+1}}; \end{aligned}$$

3) В кольце  $2 < |z - i| < \infty$



$$\begin{aligned}
 f(z) &= \frac{1}{z} + \frac{1}{z-i} + \frac{1}{z+i} = \frac{1}{z-i} + \frac{1}{(z-i)+i} + \frac{1}{(z-i)+2i} = \\
 &= \frac{1}{z-i} + \frac{1}{z-i} \frac{1}{1+\frac{i}{z-i}} + \frac{1}{z-i} \frac{1}{1+\frac{2i}{z-i}} = \frac{1}{z-i} + \frac{1}{z-i} \sum_{n=0}^{\infty} \frac{(-1)^n i^n}{(z-i)^n} + \\
 &+ \frac{1}{z-i} \sum_{n=0}^{\infty} \frac{(-1)^n (2i)^n}{(z-i)^n} = \frac{1}{z-i} + \sum_{n=0}^{\infty} \frac{(-1)^n i^n (1+2^n)}{(z-i)^{n+1}}.
 \end{aligned}$$

Данная задача иллюстрирует тот факт, что для функции разложение ее в ряд Лорана имеет, вообще говоря, разный вид для разных областей.

Задача 10. Найти все разложения функции  $f(z) = \frac{\alpha z + \beta}{z(z-a)(z-b)}$  в ряд Лорана по степеням  $z$ .

Решение. Пусть  $|a| < |b|$ . Тогда данная функция может быть разложена в ряд Лорана в кольцах:

$$I) |a| < |z| < |b|, \quad II) 0 < |z| < |a|, \quad III) |b| < |z| < \infty,$$

где она является аналитической.

Представим данную функцию в виде

$$f(z) = \frac{\alpha z + \beta}{z(z-a)(z-b)} = \frac{A}{z-a} + \frac{B}{z-b} + \frac{C}{z}.$$

I. Дробь  $\frac{A}{z-a}$  разлагается вне круга  $k: |z| > |a|$  по степеням  $z$  с отрицательными показателями, т.е.

$$\frac{A}{z-a} = \frac{A}{z} \cdot \frac{1}{1-\frac{a}{z}} = \frac{A}{z} \sum_{n=0}^{\infty} \left(\frac{a}{z}\right)^n, \text{ где } \left|\frac{a}{z}\right| < 1 \Rightarrow |z| > |a|.$$

Дробь  $\frac{B}{z-b}$  разлагается внутри круга  $k_1: |z| < |b|$  по степеням  $z$  с положительными показателями, т.е.  $|z| < |b|$

$$\frac{B}{z-b} = \frac{B}{-b} \cdot \frac{1}{1-\frac{z}{b}} = -\frac{B}{b} \sum_{n=0}^{\infty} \left(\frac{z}{b}\right)^n, \text{ где } \left|\frac{z}{b}\right| < 1 \Rightarrow |z| < |b|.$$

Итак, 
$$\frac{\alpha z + \beta}{z-z-a} = A \sum_{n=0}^{\infty} \frac{a^n}{z^{n+1}} - B \sum_{n=0}^{\infty} \frac{z^n}{b^{n+1}} + \frac{C}{z}, \quad \text{где}$$

$$|a| < |z| < |b|.$$

II. Дроби  $\frac{A}{z-a}$  и  $\frac{B}{z-b}$  разложим в ряд по степеням  $z$  с положительными показателями внутри круга  $|z| < |a|$ : 
$$\frac{A}{z-a} = -\frac{A}{a} \cdot \frac{1}{1-\frac{z}{a}} = -\frac{A}{a} \sum_{n=0}^{\infty} \left(\frac{z}{a}\right)^n, \text{ где } |z| < |a|; \frac{B}{z-b} = -\frac{B}{b} \sum_{n=0}^{\infty} \left(\frac{z}{b}\right)^n,$$

Итак, 
$$f z = -\frac{A}{a} \sum_{n=0}^{\infty} \left(\frac{z}{a}\right)^n - \frac{B}{b} \sum_{n=0}^{\infty} \left(\frac{z}{b}\right)^n + \frac{C}{z}, \text{ где } 0 < |z| < |a|.$$

III. Дроби  $\frac{A}{z-a}$  и  $\frac{B}{z-b}$  разложим по степеням  $z$  с отрицательными показателями, т.е.

$$\frac{A}{z-a} = \frac{A}{z} \sum_{n=0}^{\infty} \left(\frac{a}{z}\right)^n, \text{ где } |z| > |a|; \frac{B}{z-b} = \frac{B}{z} \sum_{n=0}^{\infty} \left(\frac{b}{z}\right)^n, \text{ где } |z| > |b|.$$

Итак, 
$$f z = A \sum_{n=0}^{\infty} \frac{a^n}{z^{n+1}} + B \sum_{n=0}^{\infty} \frac{b^n}{z^{n+1}} + \frac{C}{z}, \quad |z| > |b|.$$

Задача 11. Найти все лорановские разложения  $f z$  по степеням  $z-z_0$ , если  $f z = \frac{z+3}{z-z-3}$ ,  $z_0 = 1-i$ .

Решение. Рассмотрим разложение функции  $f(z)$  в ряд Лорана в кольце  $|z_0| < |z - z_0| < |z_0 - 3|$ , т.е.  $\sqrt{2} < |z - 1 + i| < \sqrt{5}$ .

Представим данную функцию  $f(z)$  в виде:

$$f(z) = \frac{z+3}{z(z-3)} = \frac{A}{z} + \frac{B}{z-3} = \frac{A(z-3) + Bz}{z(z-3)} \Rightarrow$$

$$\Rightarrow z+3 = A + B(z-3), \quad A = -1, \quad B = 2.$$

Таким образом,  $f(z) = -\frac{1}{z} + \frac{2}{z-3}$ .

Дробь  $-\frac{1}{z}$  разложим по степеням  $z - z_0$  с отрицательными показателями вне круга  $|z - z_0| > |z_0|$ , т.е.

$$-\frac{1}{z} = -\frac{1}{z - z_0 + z_0} = -\frac{1}{z - z_0} \frac{1}{\left(1 + \frac{z_0}{z - z_0}\right)} = \sum_{n=0}^{\infty} \frac{-1^{n+1} z_0^n}{z - z_0^{n+1}} =$$

$$= \sum_{n=0}^{\infty} \frac{-1^{n+1} (1-i)^n}{z - 1 + i^{n+1}}, \quad \text{где } |z - 1 + i| > \sqrt{2}.$$

Дробь  $\frac{2}{z-3}$  разложим по степеням  $z - z_0$  с положительными показателями внутри круга  $k: |z - z_0| < |z_0 - 3|$ , т.е.

$$\frac{2}{z-3} = \frac{2}{z - z_0 + z_0 - 3} = \frac{2}{z_0 - 3} \cdot \frac{1}{1 + \frac{z - z_0}{z_0 - 3}} =$$

$$\frac{2}{z_0 - 3} \sum_{n=0}^{\infty} \frac{-1^n (z - z_0)^n}{(z_0 - 3)^n} =$$

$$= 2 \sum_{n=0}^{\infty} \frac{z-1+i^n}{2+i^{n+1}}, \text{ где } \left| \frac{z-z_0}{z_0-3} \right| < 1 \Rightarrow |z-z_0| < |z_0-3|, \text{ или } |z-1+i| < \sqrt{5}.$$

$$\text{Итак, } f(z) = \sum_{n=0}^{\infty} \frac{-1^n (1-i)^n}{z-1+i^{n+1}} + 2 \sum_{n=0}^{\infty} \frac{z-1+i^n}{2+i^{n+1}},$$

где  $\sqrt{2} < |z-1+i| < \sqrt{5}$ .

Остальные случаи разложения данной функции в ряд Лорана предлагается рассмотреть самостоятельно.

Для разложения функции в ряд Лорана иногда используют готовые разложения элементарных функций в ряд Тейлора.

Задача 12. Функцию  $f(z) = z^4 \cdot e^{\frac{1}{z}}$  разложить в ряд Лорана в окрестности точки  $z_0 = 0$ .

Решение. Функция  $f(z)$  является аналитической в кольце  $0 < |z| < \infty$ . Следовательно, она разложима в ряд Лорана. Воспользуемся разложением показательной функции  $e^{\xi}$  в ряд Тейлора в окрестности точки  $\xi_0 = 0$ :

$$e^{\xi} = 1 + \xi + \frac{\xi^2}{2!} + \dots + \frac{\xi^n}{n!} + \dots$$

и положим  $\xi = \frac{1}{z}$ :

$$\begin{aligned} f(z) &= z^4 \left( 1 + \frac{1}{z} + \frac{1}{2!z^2} + \frac{1}{3!z^3} + \frac{1}{4!z^4} + \frac{1}{5!z^5} + \dots + \frac{1}{n!z^n} + \dots \right) = \\ &= z^4 + z^3 + \frac{z^2}{2!} + \frac{z}{3!} + \frac{1}{4!} + \frac{1}{5!z} + \dots + \frac{1}{n!z^{n-4}} + \dots \end{aligned}$$

В силу единственности ряда Лорана полученное разложение функции  $f(z)$  по степеням  $z$  является рядом Лорана для функции  $f(z) = z^4 e^{\frac{1}{z}}$  в кольце  $0 < |z| < \infty$ .

### Задачи для самостоятельного решения

Задача 1. Найти область сходимости следующих рядов:

$$1.1. \sum_{n=1}^{\infty} \frac{(-1)^{n-1}}{n 3^n (z-5+3i)^n}; \quad 1.2. \sum_{n=1}^{\infty} \frac{e^{in}}{(z+1)^n} + \sum_{n=0}^{\infty} \frac{(z+1)^n}{e^{in+\frac{1}{2}}};$$

$$1.3. \sum_{n=1}^{\infty} \left( \frac{n}{2^n (z-1)^{n+1}} + \frac{n(z-1)^{n-1}}{3^n} \right).$$

Ответ: 1.1.  $|z-5+3i| > \frac{1}{3}$ , 1.2. Расходится во всей плоскости, 1.3. Кольцо  $\frac{1}{2} < |z-1| < 3$ .

Задача 2. Разложить в ряд Тейлора функцию  $f(z) = \sin(2z+i)$  по степеням  $z$ . Указать область сходимости полученного разложения.

$$\text{Ответ: } \operatorname{ch} 1 \sum_{n=1}^{\infty} \frac{(-1)^{n-1} (2z)^{2n-1}}{(2n-1)!} + i \operatorname{sh} 1 \sum_{n=0}^{\infty} \frac{(-1)^n (2z)^{2n}}{(2n)!},$$

сходится во всей плоскости.

Задача 3. Разложить в ряд Тейлора функцию  $f(z) = \frac{z+1}{2z^2+4z-5}$  в окрестности точки  $z_0 = 0$ . Указать область сходимости полученного ряда.

$$\text{Ответ: } -\frac{1}{5} - \frac{9}{25}z - \frac{41}{125}z^2 - \dots, \text{ сходится при } |z| < 1.$$

Задача 4. Разложить в ряд Лорана функцию  $f(z) = \frac{z+1}{z^2-z}$  в кольце  $0 < |z-1| < 1$ .

Ответ:  $\sum_{n=-1}^{\infty} (-1)^{n+1} (z-1)^n$ .

Задача 5. Разложить в ряд Лорана функцию  $f(z) = \frac{1}{z^2 + 2z + 8}$  по степеням  $(z-2)$ . Указать область сходимости.

Ответ:  $\sum_{n=-1}^{\infty} \frac{(-1)^{n+1} (z-2)^n}{6^{n+2}}$ ,  $0 < |z-2| < 6$ .

Задача 6. Разложить в ряд Лорана функцию  $f(z) = \frac{1}{z^2 + 2z - 8}$  в кольце  $2 < |z| < 4$ .

Ответ:  $\frac{1}{6} \left( \sum_{n=0}^{\infty} \frac{(-1)^{n+1} z^n}{4^{n+1}} + \sum_{n=0}^{\infty} \frac{2^n}{z^n} \right)$ .

Задача 7. Рассмотреть различные разложения в ряд Лорана функции  $f(z) = \frac{3z^2 + 1}{z(z^2 + 1)}$  выбрав  $z_0 = 0$ .

Ответ: 1) в кольце  $0 < |z| < 1$ :  $\sum_{n=0}^{\infty} \frac{1 + (-1)^n 2z^{2n+2}}{z}$ ;

2) в кольце  $1 < |z| < \infty$ :  $\sum_{n=0}^{\infty} \frac{z^{2n} + (-1)^n 2}{z^{2n+1}}$ .

Задача 8. Разложить функцию  $f(z) = \frac{4z-3}{3z^2-5z+2}$  в окрестности бесконечно удаленной точки  $z_0 = \infty$ .

Ответ:  $\sum_{n=0}^{\infty} \frac{3^{n+1} + 2^n}{3^{n+1} z^{n+1}}$ ,  $|z| > 1$ .

Задача 9. Разложить функцию  $f(z) = e^{\frac{2z+1}{z-3}}$  в окрестности  $z_0 = 3$ , указать область сходимости полученного разложения.

Ответ:  $e^2 \sum_{n=0}^{\infty} \frac{7^n}{n!(z-3)^n}$ ,  $0 < |z-3| < \infty$  .

## §6. ИЗОЛИРОВАННЫЕ ОСОБЫЕ ТОЧКИ. ВЫЧЕТЫ И ИХ ПРИЛОЖЕНИЯ

### 6.1. Изолированные особые точки

Точка, в которой нарушается аналитичность функции  $f(z)$ , называется **особой**.

Точка  $z_0$  называется **изолированной особой** точкой, если существует такая окрестность  $0 < |z - z_0| < R$ , в которой  $f(z)$  аналитична.

Различают три типа изолированных особых точек в зависимости от поведения функции в их окрестности:

1. Точка  $z_0$  называется **устранимой** особой точкой, если существует конечный предел  $\lim_{z \rightarrow z_0} f(z)$ .

2. Точка  $z_0$  называется **существенно особой**, если  $\lim_{z \rightarrow z_0} f(z)$  не существует.

3. Точка  $z_0$  называется **полюсом**, если  $\lim_{z \rightarrow z_0} f(z) = \infty$ .

Разложение функции в ряд Лорана, в окрестности изолированной особой точки, имеет различный вид в зависимости от характера особой точки.

**Теорема.** Для того, чтобы  $z_0$  была устранимой особой точкой необходимо и достаточно, чтобы ряд Лорана не содержал главной части.

Для того, чтобы  $z_0$  была полюсом необходимо и достаточно, чтобы главная часть ряда Лорана содержала лишь конечное число членов

$$f(z) = \frac{C_{-n}}{(z - z_0)^n} + \dots + \frac{C_{-1}}{(z - z_0)} + \sum_{n=0}^{\infty} C_n (z - z_0)^n .$$

При этом номер старшей отрицательной степени совпадает с порядком полюса.

Для того чтобы  $z_0$  была существенно особой точкой необходимо и достаточно, чтобы главная часть ряда Лорана содержала бесконечно много членов.

Для успешного решения задач необходимо помнить разложение в ряд некоторых основных элементарных функций (стр.48).

Для определения полюса и его порядка полезно следующее

**Замечание.** Пусть  $f(z) = \frac{A(z)}{B(z)}$ , где  $A(z)$  и  $B(z)$  - аналитические функции, причем  $z_0$  является нулем  $B(z)$  кратности  $n$ , а  $A(z_0) \neq 0$ . Тогда  $z_0$  - полюс кратности  $n$  для функции  $f(z)$ .

Задача 1. Найти особые точки функции

$$f(z) = \frac{e^z}{(z^2 + 1)(z - i)z^3}.$$

Решение. В нашем случае  $A(z) = e^z$ ,  $B(z) = (z^2 + 1)(z - i)z^3$  - аналитические функции во всей комплексной плоскости. Найдем нули знаменателя:  $z_1 = i$ ,  $z_2 = -i$ ,  $z_3 = 0$ . Запишем знаменатель в виде произведения линейных множителей  $B(z) = (z - i)^2(z + i)z^3$ . Так как  $A(i) \neq 0$ ,  $A(-i) \neq 0$ ,  $A(0) \neq 0$ , то  $z_1 = i$  - полюс кратности 2,  $z_2 = -i$  - полюс кратности 1 (простой полюс),  $z_3 = 0$  - полюс кратности 3.

Задача 2. Найти все особые точки функций  $f(z)$ , определить их тип.

$$2.1. f(z) = \frac{e^z - 1}{z}. \quad 2.2. f(z) = \frac{\sin z}{z + 2^3 \cdot z^2}. \quad 2.3. f(z) = e^{\frac{1}{z-1}}.$$



Решение. 2.1. Функцию  $f(z) = \frac{e^z - 1}{z}$  разложим в ряд по степеням  $z$ :

$$f(z) = \frac{1}{z} \left( 1 + \frac{z}{1!} + \frac{z^2}{2!} + \frac{z^3}{3!} + \dots - 1 \right) = 1 + \frac{z}{2!} + \frac{z^2}{3!} + \dots,$$

т.е. в окрестности изолированной особой точки  $z_0 = 0$ . Так как полученный ряд не содержит степеней  $z$  с отрицательными показателями, то точка  $z_0 = 0$  является устранимой особой точкой.

2.2. Функция  $f(z) = \frac{\sin z}{z + 2^3 \cdot z^2}$  имеет две изолированные

особые точки  $z_1 = -2$  и  $z_2 = 0$ . Определим их тип. Пусть

$z_1 = -2$ , представим функцию в виде  $f(z) = \frac{\phi(z)}{z + 2^3}$ , где

$\phi(z) = \frac{\sin z}{z^2}$ ,  $\phi(-2) \neq 0$ . Тогда согласно теореме 1  $z_1 = -2$  есть полюс порядка  $n = 3$ .

Пусть  $z_2 = 0$ , представим функцию в виде  $f(z) = \frac{\phi(z)}{\psi(z)}$ ,

где  $\phi(z) = \sin z$ , причем  $\phi(0) = 0$ , а  $\psi(z) = z + 2^3 z^2$ , причем  $\psi(0) = 0$  и  $m = 2$ .

Для  $\phi(z) = \sin z$  имеем:  $\psi'(z) = \cos z$  и  $\psi'(0) = \cos 0 = 1 \neq 0$ , откуда следует, что  $k = 1$ , т.е.

$$\phi(z) = z \cdot \phi_1(z) \text{ и } \phi_1(0) \neq 0.$$

Следовательно, точка  $z_2 = 0$  есть полюс порядка  $n = 2 - 1 = 1$ , т.е. простой полюс.

2.3. Функция  $f(z) = e^{\frac{1}{z-1}}$  имеет изолированную особую точку  $z_0 = 1$ , в окрестности которой разложение ее в ряд имеет вид:

$$e^{\frac{1}{z-1}} = 1 + \frac{1}{z-1} + \frac{1}{2! (z-1)^2} + \dots + \frac{1}{n! (z-1)^n} + \dots$$

Этот ряд содержит бесконечное множество степеней  $z-1$  с отрицательными показателями; следовательно,  $z=1$  — существенно особая точка.

Бесконечно удаленную точку  $z = \infty$  называют изолированной особой точкой функции  $f(z)$ , если в некоторой ее окрестности (т.е. вне круга с центром в точке  $z_0 = 0$  достаточно большого радиуса) нет других особых точек функции  $f(z)$ . Для изучения поведения функции  $f(z)$  в окрестности точки

$z = \infty$  полагают  $z' = \frac{1}{z}$ . Тогда окрестность точки  $z = \infty$  перейдет в окрестность точки  $z' = 0$  и  $f(z) = f\left(\frac{1}{z'}\right) = \phi(z')$ . Если  $z' = 0$  является устранимой, полюсом или существенно особой точкой для функции  $\phi$ , то  $z = \infty$  считают, соответственно, устранимой, полюсом или существенно особой точкой функции  $f(z)$ .

Можно показать, что точка  $z = \infty$  будет устранимой, полюсом или существенно особой точкой функции  $f(z)$ , если ряд Лорана для  $f(z)$  в этой точке окрестности не содержит степеней  $z$  с положительными показателями, содержит их в конечном числе или бесконечное множество соответственно.

Задача 3. Исследовать поведение функции  $f(z) = \frac{z}{4-z^3}$  в окрестности бесконечно удаленной точки.

Решение. Введем переменную  $z' = \frac{1}{z}$ . Тогда

$$f(z) = \frac{z}{4-z^3} = \frac{\frac{1}{z'}}{4-\frac{1}{z'^3}} = \frac{z'^2}{4z'^3-1} = \phi(z').$$

Так как  $\phi(z')$  ограничена в окрестности точки  $z' = 0$ ,  $z' = 0$  является устранимой особой точкой для  $\phi(z')$ , то и точка  $z = \infty$  является также устранимой особой точкой для функции  $f(z)$ .

Задача 4. Исследовать поведение функции  $f(z) = z^2 \cdot e^{\frac{2}{z}}$  в окрестности бесконечно удаленной точки.

Решение. Разложим данную функцию в ряд Лорана:

$$\begin{aligned} f(z) &= z^2 \cdot e^{\frac{2}{z}} = z^2 + \frac{2}{z \cdot 1!} z^2 + \left(\frac{2}{z}\right)^2 \frac{1}{2!} z^2 + \left(\frac{2}{z}\right)^3 \frac{1}{3!} z^2 + \dots = \\ &= z^2 + 2z + 2 + \frac{2^3}{3!z} + \dots \end{aligned}$$

Это разложение содержит конечное число степеней  $z$  с положительными показателями, причем наивысший показатель степени  $z$  равен 2. Поэтому точка  $z = \infty$  является полюсом второго порядка для данной функции  $f(z)$ .

## 6.2. Вычеты

**Вычетом** функции  $f(z)$  в особой точке  $z_0$  называется число, равное коэффициенту  $C_{-1}$  при первой отрицательной степени в лорановском разложении (1).

Заметим, что в устранимой особой точке вычет всегда равен нулю, так как ряд Лорана содержит только правильную часть.

Для определения вычета в полюсе можно получить более удобные формулы.

Пусть  $z_0$  - полюс кратности  $n$ , тогда

$$C_{-1} = \operatorname{Res}_{z_0} f(z) = \frac{1}{(n-1)!} \lim_{z \rightarrow z_0} \frac{d^{n-1}}{dz^{n-1}} [(z - z_0)^n f(z)]. \quad (4)$$

В частности, если  $z_0$  - полюс первой кратности (простой полюс), получаем

$$C_{-1} = \operatorname{Res}_{z_0} f(z) = \lim_{z \rightarrow z_0} [(z - z_0) f(z)]. \quad (5)$$

Если  $f(z) = \frac{A(z)}{B(z)}$ , где  $A(z)$  и  $B(z)$  - аналитические функции и  $z_0$  - простой полюс  $f(z)$ , то из формулы (5) легко получить

$$C_{-1} = \operatorname{Res}_{z_0} f(z) = \frac{A(z_0)}{B'(z_0)}. \quad (6)$$

Действительно,

$$\begin{aligned} C_{-1} = \operatorname{Res}_{z_0} f(z) &= \lim_{z \rightarrow z_0} (z - z_0) \frac{A(z)}{B(z)} = \lim_{z \rightarrow z_0} \frac{A(z)}{(B(z) - B(z_0))/(z - z_0)} = \\ &= \frac{A(z_0)}{B'(z_0)}. \end{aligned}$$

Задача 1. Найти вычеты функции  $f(z) = \frac{\cos z}{(z-1)(z+2)}$ .

Решение. Для  $f(z)$  точки  $z_1 = 1$  и  $z_2 = -2$  являются простыми полюсами. Для нахождения вычетов в этих точках воспользуемся формулой (6)

$$A(z) = \cos z, B(z) = (z-1)(z+2), B'(z) = 2z+1.$$

$$\operatorname{Res}_1 f(z) = \frac{\cos 1}{3}, \operatorname{Res}_{-2} f(z) = \frac{\cos 2}{-3}.$$

Задача 2. Найти вычеты функции  $f(z) = \frac{2z^3 + 1}{z + 1} \cdot \frac{1}{z - 4}$  от-

носительно всех полюсов.

Решение. Данная функция имеет простой полюс  $z = 4$  и полюс порядка  $m = 3$  в точке  $z = -1$ . Воспользуемся формулой (16):

$$\operatorname{res}_{z=4} f(z) = \lim_{z \rightarrow 4} \frac{2z^3 + 1}{z + 1} \cdot \frac{z - 4}{z - 4} = \lim_{z \rightarrow 4} \frac{2z^3 + 1}{z + 1} = \frac{2 \cdot 4^3 + 1}{5^3} = \frac{129}{125}.$$

Используя формулу (18), получаем при  $m = 3$ :

$$\begin{aligned} \operatorname{res}_{z=-1} f(z) &= \frac{1}{2!} \lim_{z \rightarrow -1} \frac{d^2}{dz^2} \left[ \frac{2z^3 + 1}{z + 1} \cdot \frac{1}{z - 4} \right] = \\ &= \frac{1}{2!} \lim_{z \rightarrow -1} \left( \frac{2z^3 + 1}{z - 4} \right)'' = \frac{1}{2!} \lim_{z \rightarrow -1} \frac{4z^3 - 24z^2 + 96z + 2}{(z - 4)^3} = \frac{61}{125}. \end{aligned}$$

Задача 3. Найти вычет функции  $f(z)$  относительно изоли-

рованных особых точек  $f(z) = \frac{\cos \frac{2}{z-2} + 1}{z-2}$ .

Решение. Функция  $f(z)$  имеет изолированную особую точку  $z_0 = 2$ . Разложим  $f(z)$  в ряд Лорана в кольце  $0 < |z - 2| < \infty$ , для чего используем разложение функции  $\cos \xi$  в ряд Тейлора в окрестности точки  $\xi_0 = 0$ :

$$\cos \xi = 1 - \frac{\xi^2}{2!} + \frac{\xi^4}{4!} - \dots \text{ и положим } \xi = \frac{1}{z-2}:$$

$$f(z) = \frac{1}{z-2} \cdot \left( 1 - \frac{1}{2! (z-2)^2} + \frac{1}{4! (z-2)^4} - \dots + 1 \right) =$$

$$= \frac{2}{z-2} - \frac{1}{2! (z-2)^3} + \frac{1}{4! (z-2)^5} - \dots$$

В силу единственности ряда Лорана, полученное разложение функции  $f(z)$  по степеням  $z-2$  является рядом Лорана для данной функции в кольце  $0 < |z-2| < \infty$ . Так как этот ряд Лорана содержит бесконечное число степеней с отрицательными показателями, то точка  $z_0 = 2$  является существенно особой точкой. Следовательно,

$$\operatorname{res}_{z=2} f(z) = C_{-1} = 2.$$

Задача 4. Найти вычет функции  $f(z)$  относительно изолированных особых точек  $f(z) = \frac{\sin 2z - z}{z}$ .

Решение. Функция  $f(z) = \frac{\sin 2z - z}{z}$  имеет изолированную особую точку  $z_0 = 0$ . Разложим  $f(z)$  в ряд Лорана в кольце  $0 < |z| < \infty$ , для чего используем разложение функции  $\sin \xi$  в ряд Тейлора в окрестности точки  $\xi_0 = 0$ :

$$\sin \xi = \xi - \frac{\xi^3}{3!} + \frac{\xi^5}{5!} - \dots \text{ и положим } \xi = 2z:$$

$$f(z) = \left( 2z - \frac{2z^3}{3!} + \frac{2z^5}{5!} - \dots - z \right) \frac{1}{z} =$$

$$= 1 - \frac{2^3 z^2}{3!} + \frac{2^5 z^4}{5!} - \dots$$

В силу единственности ряда Лорана, полученное разложение функции  $f(z)$  по степеням  $z$  является рядом Лорана для данной функции в кольце  $0 < |z| < \infty$ . Так как этот ряд не содержит степеней с отрицательными показателями, то точка  $z_0 = 0$  является устранимой особой точкой. Следовательно,  $\operatorname{res}_{z=0} f(z) = 0$ .

### 6.3. Приложение теории вычетов

Теория вычетов широко используют для вычисления:

- а) контурных интегралов;
- б) определенных интегралов.

а) Вычисление контурных интегралов основано на применении двух теорем о вычетах.

**Первая теорема о вычетах.** Пусть  $f(z)$  - аналитическая функция в области  $D$ , кроме конечного числа изолированных особых точек  $z_1, z_2, \dots, z_n$ , лежащих в этой области, и пусть  $\gamma$  - замкнутый контур, охватывающий точки  $z_1, z_2, \dots, z_n$ . Тогда

$$\oint_{\gamma} f(z) dz = 2\pi i \sum_{k=1}^n \operatorname{Res}_{z_k} f(z). \quad (7)$$

**Вторая теорема о вычетах.** Если  $f(z)$  аналитична во всей комплексной плоскости, за исключением изолированных особых точек  $z_1, z_2, \dots, z_{n-1}$  и  $z_n = \infty$ , то

$$\sum_{k=1}^n \operatorname{Res}_{z_k} f(z) = 0.$$

б) Интегралы вида  $\int_0^{2\pi} R(\sin x, \cos x) dx$ , где  $R$  - символ рациональной функции, с помощью замены  $z = e^{ix}$  приводятся к

контурным интегралам от рациональных относительно  $z$  функций.

Выражаем синус и косинус по формулам Эйлера и делаем замену  $e^{ix} = z$ . Получим:  $\sin x = \frac{z - z^{-1}}{2i}$ ,  $\cos x = \frac{z + z^{-1}}{2}$ . Под-

ставляя эти выражения в подынтегральную функцию, получим

$R\left(\frac{z - z^{-1}}{2i}, \frac{z + z^{-1}}{2}\right) = F(z)$  — рациональную функцию. Из

$e^{ix} = z$  находим  $dz = ie^{ix} dx$  и  $dx = \frac{1}{iz} dz$ . Так как  $x \in 0, 2\pi$ , то

точка  $z = e^{ix}$  описывает единичную окружность  $C: |z| = 1$ .

Следовательно,  $\int_0^{2\pi} R \sin x, \cos x dx = \oint_{|z|=1} F(z) \frac{dz}{iz}$ .

Последний интеграл по замкнутому контуру можно вычислить с помощью основной теоремы Коши

$$\int_0^{2\pi} R \sin x, \cos x dx = \oint_{|z|=1} F(z) \frac{dz}{iz} = 2\pi i \sum_{|z|<1} \operatorname{Res} \frac{F(z)}{iz}.$$

в) Интеграл вида  $\int_{-\infty}^{\infty} f(x) dx$

Лемма Жордана. Пусть  $f(z)$  — аналитическая функция в верхней полуплоскости, за исключением конечного числа изолированных особых точек  $z_k$ ,  $k = 1, \dots, n$ , и не имеет особых точек на действительной оси. Если  $\lim_{z \rightarrow \infty} z f(z) = 0$ , то

$\lim_{R \rightarrow \infty} \int_{C_R} f(z) dz = 0$ , где  $C_R$  — полуокружность с центром в нача-



ле координат и радиусом  $R$ , охватывающая все особые точки в верхней полуплоскости.

**Теорема 1.** Пусть  $f(z)$  – функция, удовлетворяющая условиям леммы Жордана. Тогда

$$\int_{-\infty}^{\infty} f(x) dx = 2\pi i \sum_{k=1}^n \operatorname{res} f(z)_{z=z_k}, \quad (8)$$

где  $z_k$  – полюсы функции  $f(z)$  в верхней полуплоскости.

**Замечание.** Формула (8) имеет место и в том случае, когда функция  $f(z) = e^{i\alpha z} F(z)$ , где  $\alpha > 0$ , а функция  $F(z)$  аналитична на действительной оси, в верхней полуплоскости имеет лишь конечное число особых точек  $z_1, z_2, \dots, z_n$  и  $\lim_{z \rightarrow \infty} F(z) = 0$ .

г) Интегралы вида  $\int_{-\infty}^{\infty} f(x) \cos tx dx, \int_{-\infty}^{\infty} f(x) \sin tx dx$

**Теорема.** Пусть  $f(x)$  – аналитическая функция в верхней полуплоскости, за исключением конечного числа полюсов  $z_k, k = 1, \dots, n$ , и  $f(z) \rightarrow 0$  при  $|z| \rightarrow \infty$  равномерно относительно  $\arg z$ . Тогда при  $t > 0$

$$\int_{-\infty}^{\infty} f(x) \cos tx dx = 2\pi \operatorname{Re} \left( i \sum_{k=1}^n \operatorname{res} f(z)_{z=z_k} e^{itz} \right),$$

$$\int_{-\infty}^{\infty} f(x) \sin tx dx = 2\pi \operatorname{Im} \left( i \sum_{k=1}^n \operatorname{res} f(z)_{z=z_k} e^{itz} \right),$$

где  $z_k$  – полюса функции  $f(z)$  в верхней полуплоскости,  $k = 1, \dots, n$ .

### Решение типовых задач

Задача 1. Найти особые точки  $f(z)$  и определить их харак-

тер: а)  $f(z) = \frac{\sin z}{z}$ ; б)  $f(z) = \cos \frac{1}{z}$ .

Решение. Для данных функций особой точкой является  $z_0 = 0$ . Для определения характера этой точки воспользуемся разложениями

$$\begin{aligned} \text{а) } \frac{\sin z}{z} &= \frac{1}{z} \left( z - \frac{z^3}{3!} + \frac{z^5}{5!} \dots + (-1)^{n+1} \frac{z^{2n+1}}{(2n+1)!} + \dots \right) = \\ &= 1 - \frac{z^2}{3!} + \frac{z^4}{5!} \dots + (-1)^{n+1} \frac{z^{2n}}{(2n+1)!} + \dots \end{aligned}$$

Разложение функции  $\frac{\sin z}{z}$  в окрестности точки  $z_0 = 0$  содержит только правильную часть. Следовательно,  $z_0 = 0$  является для данной функции устранимой особой точкой.

$$\text{б) } \cos \frac{1}{z} = 1 - \frac{1}{2!z^2} + \frac{1}{4!z^4} + \dots + (-1)^n \frac{1}{(2n)!z^{2n}} + \dots$$

В окрестности  $z_0 = 0$  главная часть ряда Лорана содержит бесконечно много членов. Следовательно, для функции  $\cos \frac{1}{z}$  точка  $z_0 = 0$  является существенно особой.

Задача 2. Определить изолированные особые точки и указать их тип для следующих функций:

$$\text{а) } f(z) = \frac{z-2}{z^2(z^2+1)}; \quad \text{б) } f(z) = \frac{z-\sin z}{z^3}; \quad \text{в) } f(z) = \cos \frac{1}{1-z}.$$

Решение. а) Числитель и знаменатель функции  $f(z) = \frac{z-2}{z^2(z^2+1)}$  являются аналитическими функциями во всей плоскости  $z$ , причем знаменатель  $z^2(z^2+1) = 0$  при

$z_1 = 0, z_2 = i, z_3 = -i$ , числитель же в этих точках отличен от нуля. Следовательно, точки  $z_1 = 0, z_2 = i, z_3 = -i$  являются изолированными особыми точками данной функции типа полюсов. Так как  $z_1 = 0$  является нулем знаменателя кратности 2, то для исходной функции- это полюс 2-го порядка. Аналогично,  $z_2 = i, z_3 = -i$  простые полюсы данной функции.

б) Функции  $z - \sin z$  и  $z^3$  являются аналитическими во всей плоскости, а их отношение  $\frac{z - \sin z}{z^3}$  аналитично во всей плоскости, кроме точки  $z = 0$ , в которой знаменатель обращается в нуль. Значит, точка  $z = 0$  является изолированной особой точкой. Для выяснения характера этой особенности разложим данную функцию в окрестности  $z = 0$  в ряд Лорана:

$$\begin{aligned} \frac{z - \sin z}{z^3} &= \frac{1}{z^2} - \frac{1}{z^3} \sin z = \frac{1}{z^2} - \frac{1}{z^3} \left( z - \frac{z^3}{3!} + \dots + \frac{(-1)^{n+1} z^{2n-1}}{(2n-1)!} + \dots \right) = \\ &= \frac{1}{3!} - \frac{z^2}{5!} + \frac{z^4}{7!} - \dots + \frac{(-1)^{n+1} z^{2n-2}}{(2n+1)!} + \dots = \sum_{n=1}^{\infty} \frac{(-1)^{n+1} z^{2n-2}}{(2n+1)!}. \end{aligned}$$

В ряде Лорана все члены главной части равны нулю, то есть точка  $z = 0$  устранимая особая точка данной функции.

в) Функция  $f(z) = \cos \frac{1}{1-z}$  имеет единственную особую точку  $z = 1$ . Разложим  $\cos \frac{1}{1-z}$  в окрестности  $z = 1$  в ряд Лорана

$$f(z) = \cos \frac{1}{1-z} = 1 - \frac{1}{2!(1-z)^2} + \frac{1}{4!(1-z)^4} - \dots + \frac{(-1)^n}{(2n)!(1-z)^{2n}} + \dots$$

Точка  $z = 1$  является существенно особой точкой, так как полученное разложение содержит в главной части бесконечное множество членов.

Задача 3. Исследовать характер бесконечно удаленной точки для следующих функций:

а)  $f(z) = \frac{z+2}{z(z-1)^2}$ ; б)  $f(z) = \frac{1-\cos z}{z^2}$ ; в)  $f(z) = e^{\frac{1}{z}} + 2z^2 - 5$ .

Решение. а) Изолированные особые точки данной функции  $z_1 = 0, z_2 = 1$ . Значит, область  $|z| > 1$  является окрестностью точки  $z = \infty$ , где нет особых точек.

Разложим в  $|z| > 1$  функцию в ряд Лорана по степеням  $z$ , для этого произведем деление  $z+2$  на  $z^3 - 2z^2 + z$

$$f(z) = \frac{z+2}{z(z-1)^2} = \frac{1}{z^2} + \frac{4}{z^3} + \frac{7}{z^4} + \frac{10}{z^5} + \dots$$

Очевидно,  $z = \infty$  является устранимой особой точкой (в разложении отсутствуют положительные степени  $z$ ). К этому выводу можно прийти иначе, вычислив предел

$$\lim_{z \rightarrow \infty} \frac{z+2}{z(z-1)^2} = 0. \text{ То, что этот предел конечен, говорит о том,}$$

что  $f(z)$  имеет в  $z = \infty$  устранимую особенность.

б) Окрестностью точки  $z = \infty$ , где не содержится других особых точек данной функции, является область  $0 < |z| < \infty$ . Представим функцию  $f(z)$  рядом Лорана в этой области по степеням  $z$

$$f(z) = \frac{1-\cos z}{z^2} = \frac{1}{2!} - \frac{z^2}{4!} + \frac{z^4}{6!} - \frac{z^6}{8!} + \dots = \sum_{n=0}^{\infty} \frac{(-1)^{n+1} z^{2n}}{(2n+2)!}.$$

Так как полученное разложение содержит бесчисленное множество положительных степеней  $z$ , то заключаем, что  $z = \infty$  существенно особая точка данной функции.

в) В области  $0 < |z| < \infty$  разложим данную функцию по степеням  $z$ :

$$f(z) = 1 + \frac{1}{z} + \frac{1}{2!z^2} + \frac{1}{3!z^3} + \dots + \frac{1}{n!z^n} + \dots + 2z^2 - 5 =$$

$$= 2z^2 - 5 + \sum_{n=0}^{\infty} \frac{1}{n!z^n}.$$

Очевидно, что  $z = \infty$  - полюс второго порядка.

Задача 4. Найти вычет функции  $f(z) = \cos \frac{3z+4}{z+1}$  в точке  $z_0 = -1$ .

Решение. Воспользуемся результатом задачи 7 (5.2). Коэффициент  $C_{-1} = -\sin 3$ . Следовательно,  $\operatorname{Res}_{-1} f(z) = -\sin 3$ .

Задача 5. Найти вычет функции  $f(z) = e^{\frac{2z+1}{z-3}}$  в точке  $z_0 = 3$ .

Решение. Запишем ряд Лорана для данной функции, воспользовавшись разложением в ряд функции  $e^z$  (стр.41)

$$f(z) = e^{\frac{2z+1}{z-3}} = e^{\frac{2(z-3)+7}{z-3}} = e^{2+\frac{7}{z-3}} = e^2 \cdot e^{\frac{7}{z-3}} = e^2 \left( 1 + \frac{7}{z-3} + \right.$$

$$\left. + \frac{7^2}{2!(z-3)^2} + \dots \right).$$

Находим коэффициент при первой отрицательной степени

$$C_{-1} = \operatorname{Res}_3 f(z) = 7e^2.$$

Задача 6. Найти вычеты функции  $f(z) = \frac{z}{(z+1)(z+i)^2}$ .

Решение. Для  $f(z)$  точка  $z_1 = -1$  - полюс первой кратности;  $z_2 = -i$  - полюс второй кратности.

Вычет  $f(z)$  в точке  $z_1$  найдем по формуле (5)

$$\operatorname{Res}_{-1} f(z) = \lim_{z \rightarrow -1} (z+1) \frac{z}{(z+1)(z+i)^2} = \lim_{z \rightarrow -1} \frac{z}{(z+i)^2} = \frac{-1}{(-1+i)^2} =$$

$$= -\frac{(1+i)^2}{(1-i)^2(1+i)^2} = -\frac{(1+i)^2}{4} = -\frac{i}{2}.$$

Найдем вычет  $f(z)$  в точке  $z_2$  по формуле (4)

$$\begin{aligned} \operatorname{Res}_{-i} f(z) &= \frac{1}{(2-1)!} \lim_{z \rightarrow -i} \frac{d}{dz} [(z+i)^2 \frac{z}{(z+1)(z+i)^2}] = \lim_{z \rightarrow -i} \frac{d}{dz} \left[ \frac{z}{z+1} \right] = \\ &= \lim_{z \rightarrow -i} \frac{z+1-z}{(z+1)^2} = \lim_{z \rightarrow -i} \frac{1}{(z+1)^2} = \frac{1}{(1-i)^2} = \frac{(1+i)^2}{(1-i)^2(1+i)^2} = \frac{2i}{4} = \frac{i}{2}. \end{aligned}$$

Задача 7. Вычислить вычеты в особых точках следующих функций:

$$\text{а) } f(z) = \frac{\cos z}{z^3 - \frac{\pi}{2} z^2}; \quad \text{б) } f(z) = z^2 \sin \frac{1}{z}.$$

Решение. а) Особыми точками функции  $\frac{\cos z}{z^3 - \frac{\pi}{2} z^2}$  являются

точки  $z_1 = 0, z_2 = \frac{\pi}{2}$ . Так как  $\lim_{z \rightarrow 0} f(z) = \lim_{z \rightarrow 0} \frac{\cos z}{z^2(z - \frac{\pi}{2})} = \infty$ , то

$z_1 = 0$  является полюсом (второго порядка). Следовательно, применяя формулу вычисления вычета в полюсе порядка  $n$ :

$$\operatorname{Res}_{z_0} f(z) = \frac{1}{(n-1)!} \lim_{z \rightarrow z_0} \frac{d^{n-1}}{dz^{n-1}} [(z-z_0)^n f(z)],$$

получим:

$$\operatorname{Res}_{z=0} f(z) = \frac{1}{(2-1)!} \lim_{z \rightarrow 0} \frac{d}{dz} \left( \frac{z^2 \cos z}{z^2(z - \frac{\pi}{2})} \right) = \lim_{z \rightarrow 0} \frac{(z - \frac{\pi}{2}) \sin z - \cos z}{(z - \frac{\pi}{2})^2} = -\frac{4}{\pi^2}.$$

Точка  $z_2 = \frac{\pi}{2}$  является устранимой особой точкой данной

функции, так как  $\lim_{z \rightarrow \frac{\pi}{2}} \frac{\cos z}{z^2(z - \frac{\pi}{2})} = \lim_{z \rightarrow \frac{\pi}{2}} \frac{\sin(z - \frac{\pi}{2})}{z^2(z - \frac{\pi}{2})} = \frac{4}{\pi^2}$  - конечное

число. Следовательно,  $\operatorname{Res} f(z) = 0$ .

б) Данная функция имеет особую точку  $z = 0$ . Разложим ее в окрестности  $z = 0$  в ряд Лорана:

$$\begin{aligned} f(z) &= z^2 \sin 1z = z^2 \left( \frac{1}{z} - \frac{1}{3!z^3} + \frac{1}{5!z^5} - \dots + \frac{(-1)^{n+1}}{(2n-1)!z^{2n-1}} + \dots \right) = \\ &= z - \frac{1}{3!z} + \frac{1}{5!}z^2 - \dots + \frac{(-1)^{n+1}}{(2n-1)!z^{2n-3}} + \dots \end{aligned}$$

Очевидно,  $z = 0$  существенно особая точка данной функции и

$$\operatorname{Res}_{z=0} f(z) = -\frac{1}{3!} = -\frac{1}{6}.$$

Задача 8. Вычислить вычеты относительно бесконечно удаленной точки функций:

$$\text{а) } f(z) = \frac{z^6 + 5z^5 - 2z^4}{z^5 + 3}; \quad \text{б) } f(z) = \frac{\sin z}{z^2 + 4}.$$

Решение. а) Особыми точками данной функции являются корни уравнения  $z^5 + 3 = 0$ . Так как они лежат на окружности  $|z| = \sqrt[5]{3}$ , то окрестностью бесконечно удаленной точки, где данная функция аналитична, является область  $|z| > \sqrt[5]{3}$ . В этой области разложим данную функцию в ряд Лорана по степеням  $z$  разделив числитель на знаменатель:

$$f(z) = \frac{z^6 + 5z^5 - 2z^4}{z^5 + 3} = z + 5 - \frac{2}{z} - \frac{3}{z^4} - \frac{9}{z^5} - \dots$$

Так как  $\operatorname{Res}_{z=\infty} f(z) = -C_{-1}$ , где  $C_{-1}$  - коэффициент при  $\frac{1}{z}$ , то

$$\operatorname{Res}_{z=\infty} f(z) = 2.$$

б) Точки  $z_1 = 2i, z_2 = -2i$  являются простыми полюсами данной функции. Определим вычеты в этих точках:

$$\operatorname{Res}_{z=2i} f(z) = \lim_{z \rightarrow 2i} \frac{\sin z}{z^2 + 4} \cdot (z - 2i) = \frac{\sin 2i}{4i} = \frac{\operatorname{sh} 2}{4};$$

$$\operatorname{Res}_{z=-2i} f(z) = \lim_{z \rightarrow -2i} \frac{\sin z}{z^2 + 4} \cdot (z + 2i) = \frac{\sin(-2i)}{-4i} = \frac{\operatorname{sh} 2}{4}.$$

$$\text{Тогда } \operatorname{Res}_{z=\infty} f(z) = -(\operatorname{Res}_{2i} f(z) + \operatorname{Res}_{-2i} f(z)) = -\frac{\operatorname{sh} 2}{2}.$$

Задача 9. Вычислить интеграл  $\oint_{\gamma} \frac{1}{z} e^{\frac{z-1}{z}} dz$ , где  $\gamma$  - окружность  $|z| = 1$ .

Решение. Подынтегральная функция  $\frac{1}{z} e^{\frac{z-1}{z}}$  имеет особую точку  $z = 0$ , которая содержится внутри  $|z| = 1$ , поэтому согласно основной теореме о вычетах:

$$\oint_{\gamma} \frac{1}{z} e^{\frac{z-1}{z}} dz = 2\pi i \operatorname{Res}_0 f(z).$$

Разложим  $f(z) = \frac{1}{z} e^{\frac{z-1}{z}}$  в окрестности  $z = 0$  в ряд Лорана:

$$\begin{aligned} f(z) &= \frac{1}{z} e^{\frac{z-1}{z}} = e \cdot \frac{1}{z} \cdot e^{-\frac{1}{z}} = \frac{e}{z} \left( 1 - \frac{1}{z} + \frac{1}{2!} z^2 - \frac{1}{3! z^3} + \dots \right) = \\ &= \frac{e}{z} - \frac{e}{z^2} + \frac{e}{2! z^3} - \frac{e}{3! z^4} + \dots, \end{aligned}$$



Отсюда  $\operatorname{Res}_0 f(z) = e$ . Следовательно,  $\oint_{\gamma} \frac{1}{z} e^{\frac{z-1}{z}} dz = e2\pi i$ .

Задача 10. Вычислить интеграл  $\oint_{\gamma} \frac{dz}{z(z-1)(z^5-32)}$ , где  $\gamma$ :

а) окружность  $|z| = \frac{3}{2}$ ; б) окружность  $|z| = 3$ .

Решение. Особыми точками подынтегральной функции являются корни уравнения  $z^5 = 32$  (эти точки лежат на окружности  $|z| = 2$ ),  $z = 0$  и  $z = 1$ .

а) Внутри контура  $|z| = \frac{3}{2}$  лежат  $z = 0$  и  $z = 1$ . Значит,

$$\oint_{\gamma} \frac{dz}{z(z-1)(z^5-32)} = 2\pi i (\operatorname{Res}_0 f(z) + \operatorname{Res}_1 f(z)).$$

Так как  $z = 0$  и  $z = 1$  - простые полюсы, то

$$\operatorname{Res}_{z=0} f(z) = \lim_{z \rightarrow 0} \frac{1}{z(z-1)(z^5-32)} \cdot z = \frac{1}{32},$$

$$\operatorname{Res}_{z=1} f(z) = \lim_{z \rightarrow 1} \frac{1}{z(z-1)(z^5-32)} \cdot (z-1) = -\frac{1}{31},$$

Тогда 
$$\oint_{\gamma} \frac{dz}{z(z-1)(z^5-32)} = 2\pi i \left( \frac{1}{32} - \frac{1}{31} \right) = -\frac{\pi i}{496}.$$

б) Внутри контура  $|z| = 3$  содержатся все особые точки подынтегральной функции. Воспользуемся тем, что

$$\oint_{\gamma} \frac{dz}{z(z-1)(z^5-32)} = -2\pi i \operatorname{Res}_{\infty} f(z).$$

Учитывая, что в  $|z| > 2$ , функция  $f(z) = \frac{1}{z(z-1)(z^5-32)}$  представима по степеням  $z$  в виде:

$$\frac{1}{z(z-1)(z^5-32)} = \frac{1}{z^7} + \frac{1}{z^8} + \frac{1}{z^9} + \dots, \text{ получим}$$

$$\operatorname{Res} f(z) = 0, \text{ то есть } \oint_{\gamma} \frac{dz}{z(z-1)(z^5-32)} = -2\pi i \cdot 0 = 0.$$

Задача 11. Вычислить  $\oint_C \frac{e^z + 2}{z^2 + 2z} dz$ , где  $C$  – окружность  $|z| = 3$ .

Решение. Подынтегральная функция  $f(z) = \frac{e^z + 2}{z^2 + 2z}$  имеет два простых полюса  $z_1 = 0$  и  $z_2 = -2$ , которые расположены внутри круга  $|z| < 3$ . Согласно теореме Коши, получаем:

$$\oint_C \frac{e^z + 2}{z^2 + 2z} dz = 2\pi i \left[ \operatorname{res} f(z)_{z=0} + \operatorname{res} f(z)_{z=-2} \right].$$

Найдем вычеты:

$$\operatorname{res} f(z)_{z=0} = \left. \frac{e^z + 2}{z + 2} \right|_{z=0} = \frac{e^0 + 2}{0 + 2} = \frac{3}{2},$$

$$\operatorname{res} f(z)_{z=-2} = \left. \frac{e^z + 2}{z} \right|_{z=-2} = \frac{2 + e^{-2}}{-2}.$$

$$\text{Итак, } \oint_C \frac{e^z + 2}{z^2 + 2z} dz = 2\pi i \left( \frac{3}{2} - \frac{2 + e^{-2}}{2} \right) = \pi i (1 - e^{-2}).$$

Задача 12. Вычислить  $\oint_{|z|=\frac{1}{7}} z^2 \cdot \operatorname{sh} \frac{3}{z} dz$ .

Решение. Подынтегральная функция  $f(z) = z^2 \operatorname{sh} \frac{3}{z}$  имеет

изолированную особую точку  $z_0 = 0$  внутри круга  $|z| < \frac{1}{7}$ . Для определения характера изолированной особой точки разложим функцию  $f(z)$  в ряд Лорана в кольце  $0 < |z| < \infty$ . Воспользуемся разложением функции  $sh \xi$  в ряд Тейлора в окрестности точки  $\xi_0 = 0$ :  $sh \xi = \xi + \frac{\xi^3}{3!} + \frac{\xi^5}{5!} + \frac{\xi^7}{7!} + \dots$  и положим  $\xi = \frac{3}{z}$ :

$$f(z) = z^2 \left( \frac{3}{z} + \frac{3^3}{3!z^3} + \frac{3^5}{5!z^5} + \dots \right) = 3z + \frac{3^3}{3!z} + \frac{3^5}{5!z^3} + \dots$$

В силу единственности ряда Лорана, полученное разложение функции  $f(z)$  по степеням  $z$  является рядом Лорана для данной функции в кольце  $0 < |z| < \infty$ . Так как главная часть этого ряда Лорана содержит бесконечное множество слагаемых, то точка  $z_0 = 0$  является существенно особой точкой, поэтому  $res_{z=0} f(z) = C_{-1} = \frac{3^3}{3!} = 4,5$ .

Согласно теореме Коши получаем:

$$\oint_{|z|=\frac{1}{7}} z^2 \cdot sh \frac{3}{z} dz = 2\pi i res_{z=0} f(z) = 2\pi i \cdot 4,5 = 9\pi i.$$

Задача 13. Вычислить  $\oint_{|z|=\frac{1}{4}} \frac{2-3z^3+2z^5}{z^4} dz$ .

Решение. Подынтегральная функция  $f(z) = \frac{2-3z^3+2z^5}{z^4}$

имеет изолированную особую точку  $z_0 = 0$  внутри круга

$|z| < \frac{1}{4}$ . Так как  $f(z) = \frac{\phi(z)}{\psi(z)}$ , где  $\phi(z) = 2 - 3z^4 + 2z^5$ , причем

$\phi(0) = 2 \neq 0$ , а  $\psi(z) = z^4$ , причем  $\psi(0) = 0$ ,  $\psi'(0) = 0$ ,

$\psi''(0) = 0$ ,  $\psi'''(0) = 0$ ,  $\psi^{IV}(0) = 24 \neq 0$ , то  $z_0 = 0$  есть полюс

4-го порядка. Следовательно,

$$\operatorname{res}_{z=0} f(z) = \frac{1}{3!} \lim_{z \rightarrow 0} \frac{d^3}{dz^3} f(z) \cdot z^4 = -3.$$

Согласно теореме Коши получаем:

$$\oint_{|z|=\frac{1}{4}} \frac{2-3z^3+2z^5}{z^4} dz = 2\pi i \operatorname{res}_{z=0} f(z) = 2\pi i \cdot (-3) = -6\pi i.$$

Задача 14. 
$$\oint_{|z-1|=1} \frac{2z^2+1}{z-1} \frac{dz}{z^2+1}.$$

Решение. Функция  $f(z) = \frac{2z^2+1}{z-1} \frac{1}{z^2+1}$  имеет простые

полюсы в точках  $z_0 = 1$ ,  $z_1 = i$ ,  $z_2 = -i$ . Внутри круга  $|z-1| < 1$  находится один полюс  $z_0 = 1$  первого порядка, поэтому

$\operatorname{res}_{z_0=1} f(z) = \frac{\phi(z_0)}{\psi'(z_0)}$ , где  $\phi(z) = 2z^2+1$ ,  $\phi(1) = 3 \neq 0$  и

$\psi(z) = (z-1)(z^2+1)$ ,  $\psi'(z) = z^2+1 + (z-1) \cdot 2z = 3z^2 - 2z + 1$ ,

$\psi'(1) = 4 - 2 = 2 \neq 0$ . Имеем,  $\operatorname{res}_{z=1} f(z) = \frac{\phi(1)}{\psi'(1)} = \frac{3}{2}$ .

Следовательно, по теореме Коши:

$$\oint_{|z|=1} \frac{2z^2 + 1}{z - 1} \frac{dz}{z^2 + 1} = 2\pi i \frac{3}{2} = 3\pi i.$$

Задача 15. Вычислить  $I = \int_0^{2\pi} \frac{2 + \cos \phi}{5 + \sin \phi} d\phi$ .

Решение. Пусть  $e^{i\phi} = z$ , тогда

$$\cos \phi = \frac{e^{i\phi} + e^{-i\phi}}{2} = \frac{z + z^{-1}}{2} = \frac{z^2 + 1}{2z},$$

$$\sin \phi = \frac{e^{i\phi} - e^{-i\phi}}{2i} = \frac{z - z^{-1}}{2i} = \frac{z^2 - 1}{2iz},$$

$i\phi = \ln z$ ,  $d\phi = \frac{dz}{iz}$ ; при  $\phi \in 0, 2\pi$  точка  $z = e^{i\phi}$  описывает ок-

ружность  $C: |z| = 1$ . Следовательно,

$$I = \oint_{|z|=1} \frac{2 + \frac{z^2 + 1}{2z}}{5 + \frac{z^2 - 1}{2iz}} \frac{dz}{iz} = \oint_{|z|=1} \frac{z^2 + 4z + 1}{z^2 + 10iz - 1} dz,$$

где  $f(z) = \frac{z^2 + 4z + 1}{z^2 + 10iz - 1}$ .

Подынтегральная функция имеет три простых полюса:

$$z_1 = 0, \quad z_{2,3} = -5i \pm \sqrt{-25 + 1} = -5i \pm \sqrt{24}i, \text{ где}$$

$$z_2 = -5 + \sqrt{24}i, \quad z_3 = -5 - \sqrt{24}i,$$

$$|z_2| = \left| \sqrt{24} - 5i \right| = \left| \sqrt{24} - 5 \right| < 1,$$

$$|z_3| = \left| -5 + \sqrt{24}i \right| = 5 + \sqrt{24} > 1.$$

Итак, внутри единичной окружности  $C$  находятся два простых полюса:

$$z_1 = 0 \text{ и } z_2 = \sqrt{24} - 5i = 2\sqrt{6} - 5i.$$

Найдем вычеты:

$$\begin{aligned} \operatorname{res}_{z=0} f(z) &= \left. \frac{z^2 + 4z + 1}{z^2 + 10iz - 1} \right|_{z=0} = \left. \frac{z^2 + 4z + 1}{z^3 + 10iz^2 - z} \right|_{z=0} = \\ &= \left. \frac{z^2 + 4z + 1}{3z^2 + 20iz - 1} \right|_{z=0} = \frac{1}{-1} = -1; \text{ аналогично,} \end{aligned}$$

$$\operatorname{res}_{z=z_2} f(z) = \left. \frac{z^2 + 4z + 1}{3z^2 + 20iz - 1} \right|_{z=z_2} = \left. \frac{z_2^2 + 4z_2 + 1}{3z_2^2 + 20iz_2 - 1} \right|_{z=z_2} = 1 - i\sqrt{6}.$$

$$\begin{aligned} \text{Итак, } I &= 2\pi i \cdot \operatorname{res}_0 f(z) + \operatorname{res}_{z_2} f(z) = \\ &= 2\pi i (-1 + 1 - i\sqrt{6}) = 2\sqrt{6}\pi. \end{aligned}$$

Задача 16. Вычислить  $I = \int_0^{2\pi} \frac{dx}{5 + 4\cos x}$ .

Решение.  $\int_0^{2\pi} \frac{dx}{5 + 4\cos x} = \left. \begin{aligned} z = e^{ix}, dz = ie^{ix} dx = iz dx, \\ \cos x = \frac{1}{2}(e^{ix} + e^{-ix}) = \frac{1}{2}\left(z + \frac{1}{z}\right) \end{aligned} \right| =$

$$= -i \oint_{|z|=1} \frac{dz}{2z^2 + 5z + 2} = \left. \begin{aligned} 2z^2 + 5z + 2 = 0 \\ z_1 = -2, z_2 = -\frac{1}{2} \end{aligned} \right| =$$

$$= -i \cdot 2\pi i \operatorname{Res} f(-1/2) = 2\pi/3.$$

Задача 17. Вычислить интеграл  $\int_{-\infty}^{\infty} \frac{dx}{(x^2 + 1)^3}$ .

Решение. Введем в рассмотрение функцию  $f(z) = \frac{1}{(z^2 + 1)^3}$ , которая на действительной оси, то есть при  $z = x$ , совпадает с подынтегральной функцией  $f(x) = \frac{1}{(x^2 + 1)^3}$ . Функция

$f(z) = \frac{1}{(z^2 + 1)^3}$  имеет в верхней полуплоскости полюс третьего

порядка в точке  $z = i$ . Вычет  $f(z)$  относительно этого полюса равен :

$$\operatorname{Res}_i f(z) = \frac{1}{2!} \lim_{z \rightarrow i} \frac{d^2}{dz^2} \left( \frac{1}{(z-i)^3(z+i)^3} (z-i)^3 \right) = \frac{1}{2} \lim_{z \rightarrow i} \frac{12}{(z+i)^5} = -\frac{3i}{16}.$$

Тогда  $\int_{-\infty}^{\infty} \frac{dx}{(x^2 + 1)^3} = 2\pi i \left(-\frac{3i}{16}\right) = \frac{3\pi}{8}$ .

Задача 18. Вычислить интеграл  $\int_{-\infty}^{\infty} \frac{x \sin x}{x^2 - 2x + 10} dx$ .

Решение. Подынтегральная функция является мнимой частью функции  $\frac{xe^{ix}}{x^2 - 2x + 10}$ , значения которой совпадают со значениями на действительной оси функции  $f(z) = \frac{ze^{iz}}{z^2 - 2z + 10}$ . Функция  $F(z) = \frac{z}{z^2 - 2z + 10}$  имеет в верхней полуплоскости полюс 1-го порядка в точке  $z_0 = 1 + 3i$  и  $\lim_{z \rightarrow \infty} F(z) = 0$ , то есть выполнены сформулированные в замечании условия, поэтому

$$\int_{-\infty}^{\infty} \frac{x e^{ix}}{x^2 - 2x + 10} dx = 2\pi i \operatorname{Res}_{1+3i} \frac{z e^{iz}}{z^2 - 2z + 10} = 2\pi i \frac{(1+3i)e^{i(1+3i)}}{2(1+3i-1)} =$$

$$= \frac{\pi}{3} e^{-3+i}(1+3i) = \frac{\pi}{3} e^{-3}(\cos 1 - 3\sin 1 + i(3\cos 1 + \sin 1)).$$

Таким образом,

$$\int_{-\infty}^{\infty} \frac{x \sin x}{x^2 - 2x + 10} dx = \operatorname{Im} \int_{-\infty}^{\infty} \frac{x e^{ix}}{x^2 - 2x + 10} dx = \frac{\pi e^{-3}}{3} (\cos 1 - 3\sin 1).$$

Задача 19. Вычислить  $I = \int_{-\infty}^{\infty} \frac{x \sin tx}{\pi x^2 + 4} dx$ .

Решение. По условию,  $f(x) = \frac{x}{\pi x^2 + 4}$ , значит

$$f(z) = \frac{z}{\pi z^2 + 4}. \text{ Функция } f(z) \text{ имеет простой полюс } z = 2i$$

в верхней полуплоскости. Поэтому на основании теоремы 2 получаем:

$$\int_{-\infty}^{\infty} \frac{x \sin tx}{\pi x^2 + 4} dx = 2\pi \operatorname{Im} \operatorname{res}_{z=2i} f(z) e^{itz} =$$

$$= 2\pi \operatorname{Im} \left( i \frac{z e^{itz}}{z + i \cdot 2} \Big|_{z=2i} \right) = 2 \operatorname{Im} \left( \frac{i \cdot 2i \cdot e^{it \cdot 2i}}{4i} \right) = e^{-2t}.$$

Задача 20. Вычислить  $I = \int_0^{\infty} \frac{x^2 \cos 2x dx}{x^4 + 16}$ .

Решение. По условию,  $f(x) = \frac{x^2}{x^4 + 16}$  и  $f(z) = \frac{z^2}{z^4 + 16}$ .

Функция  $f(z)$  удовлетворяет условиям теоремы 2. Найдем



полюсы  $f(z)$  в верхней полуплоскости:

$$z^4 + 16 = 0, \quad z = \sqrt[4]{-16} = \sqrt[4]{16} e^{\pi i} = 2 \cdot e^{\frac{\pi + 2\pi k}{4} i}, \quad k = 0, 1, 2, 3;$$

$$z_0 = 2 \cdot e^{\frac{\pi i}{4}} = 2 \left( \cos \frac{\pi}{4} + i \sin \frac{\pi}{4} \right) = \sqrt{2} (1 + i), \quad \text{Im } z_0 = \sqrt{2} > 0;$$

$$z_1 = 2 \cdot e^{\frac{3\pi i}{4}} = \sqrt{2} (-1 + i), \quad \text{Im } z_1 = \sqrt{2} > 0;$$

$$z_2 = 2 \cdot e^{\frac{5\pi i}{4}} = \sqrt{2} (-1 - i), \quad \text{Im } z_2 = -\sqrt{2} < 0;$$

$$z_3 = 2 \cdot e^{\frac{7\pi i}{4}} = \sqrt{2} (1 - i), \quad \text{Im } z_3 = -\sqrt{2} < 0.$$

Функция имеет простые полюсы  $z_0, z_1$  в верхней полуплоскости, поэтому на основании теоремы 2 имеем:

$$I = \int_{-\infty}^{\infty} \frac{x^2 \cos 2x}{x^4 + 16} dx = 2\pi \operatorname{Re} \left( i \operatorname{res}_{z_0} f(z) e^{2zi} + \operatorname{res}_{z_1} f(z) e^{2zi} \right),$$

$$\text{где } \operatorname{res}_{z_0} f(z) e^{2zi} = \left. \frac{z^2 e^{2zi}}{4z^3} \right|_{z=z_0} = \frac{e^{2z_0 i}}{4z_0},$$

$$\operatorname{res}_{z_1} f(z) e^{2zi} = \left. \frac{z^2 e^{2zi}}{4z^3} \right|_{z=z_1} = \frac{e^{2z_1 i}}{4z_1}.$$

Следовательно,

$$I = 2\pi \operatorname{Re} \left( i \left( \frac{e^{2z_0 i}}{4z_0} + \frac{e^{2z_1 i}}{4z_1} \right) \right) = \frac{\pi e^{-2\sqrt{2}}}{2} (\cos 2\sqrt{2} - \sin 2\sqrt{2}).$$

Задача 21. Вычислить  $I = \int_0^{\infty} \frac{\cos x dx}{x^2 + 4}$ .

Решение.

$$I = \frac{1}{2} \int_{-\infty}^{\infty} \frac{\cos x dx}{x^2 + 4} = \frac{1}{2} \operatorname{Re} \int_{-\infty}^{\infty} \frac{e^{ix} dx}{x^2 + 4} = \frac{1}{2} \operatorname{Re} (2\pi i \operatorname{Res}_{z=2i} \left( \frac{e^{iz}}{z^2 + 4} \right)) = \frac{\pi}{4e^2}.$$

### Задачи для самостоятельного решения

Задача 1. Определить характер изолированных особых точек функций:

1.1.  $f(z) = \frac{z^2 - 1}{z^6 + 2z^5 + z^4}$ ;    1.2.  $f(z) = z \operatorname{sh} \frac{1}{z}$

1.3.  $f(z) = \cos \frac{1}{z-2} + \sin \frac{2+2\pi - \pi z}{2(z-2)}$ .

Ответ: 1.1.  $z = 0$  - полюс четвертого порядка;

$z = -1$  - простой полюс;

1.2.  $z = 0$  - существенно особая точка;

1.3. в)  $z = 2$  - устранимая точка.

Задача 2. Исследовать характер бесконечно удаленной точки для функций:

2.1.  $f(z) = \cos \frac{z}{1-z}$ ;    2.2.  $f(z) = \frac{z+2}{e^z}$ ;

2.3.  $f(z) = 1 - z + 2z^2 + \sin \frac{1}{z}$ .

Ответ: 2.1.  $z = \infty$  - устранимая особая точка;

2.2.  $z = \infty$  - существенно особая точка;

2.3.  $z = \infty$  - полюс 2-го порядка.

Задача 3. Определить вычеты в особых точках функций:

3.1.  $f(z) = \frac{1}{z^3 - z^5}$ ;    3.2.  $f(z) = \frac{\sin 2z}{(z+1)^3}$ ;    3.3.  $f(z) = \operatorname{tg} z$ .

Ответ: 3.1.  $\operatorname{Res}_0 f(z) = 1$ ,  $\operatorname{Res}_1 f(z) = -\frac{1}{2}$ ,  $\operatorname{Res}_{-1} f(z) = -\frac{1}{2}$ ;

$$3.2. \operatorname{Res}_{-1} f(z) = 2 \sin 2; 3.3. \operatorname{Res}_{\frac{\pi}{2}(2k+1)} f(z) = -1.$$

Задача 4. Найти вычеты в бесконечно удаленной точке функций:

$$4.1. f(z) = \frac{z^6 + 5z^3}{z^4 + 16}; 4.2. f(z) = \frac{\sin z}{z^2}; 4.3. f(z) = z \cos z.$$

$$\text{Ответ: } 4.1. \operatorname{Res}_{\infty} f(z) = -5; 4.2. \operatorname{Res}_{\infty} f(z) = 0;$$

$$4.3. \operatorname{Res}_{\infty} f(z) = 1.$$

Задача 5. Вычислить интегралы:

$$5.1. \oint_{\gamma} \frac{z+2}{e^z - 1} dz, \text{ где } \gamma - \text{окружность } |z-2| = 7;$$

$$5.2. \oint_{|z|=3} \frac{\cos z}{(z-1)(z+2)} dz;$$

$$5.3. \oint_{\gamma} \frac{z dz}{(z+1)(z+i)^2}, \text{ где } \gamma: 4x^2 + \frac{y^2}{4} = 1.$$

$$\text{Ответ: } 5.1. 12\pi i; 5.2. \frac{2}{3}\pi i(\cos 1 - \cos 2); 5.3. -\pi.$$

Задача 6. Вычислить интеграл  $\oint_{\gamma} \frac{\cos 2z}{z^2 + 1} dz$  где  $\gamma$  - окруж-

ность  $|z+i| = \frac{3}{2}$ .

$$\text{Ответ: } -\frac{1}{2} \operatorname{sh} 2.$$

Задача 7. Вычислить интеграл  $\oint_{\gamma} \frac{z^5 + 5z^4 - z + 1}{z^5 + 2} dz$  где  $\gamma$  -

окружность  $|z| = 3$ .

$$\text{Ответ: } 10\pi i.$$

Задача 8. Вычислить интегралы

$$8.1. \int_{-\infty}^{\infty} \frac{x^2 dx}{(x^2 + 4)^2}; 8.2. \int_{-\infty}^{\infty} \frac{x^2 dx}{(x^2 + 1)(x^2 + 4)}; 8.3. \int_{-\infty}^{\infty} \frac{x^2 dx}{(x^2 + 4x + 13)^2};$$

$$8.4. \int_{-\infty}^{\infty} \frac{x^2 + 1}{x^4 + 1} dx; 8.5. \int_{-\infty}^{\infty} \frac{dx}{(x^2 + 1)^n}.$$

Ответ: 8.1.  $\frac{\pi}{4}$ ; 8.2.  $\frac{\pi}{3}$ ; 8.3.  $-\frac{\pi}{27}$ ; 8.4.  $\pi\sqrt{2}$ ;

$$8.5. \frac{\pi}{2^{2n-2}} \frac{n(n+1)\dots(2n-2)}{(n-1)!}.$$

Задача 9. Вычислить интегралы:

$$9.1. \int_{-\infty}^{\infty} \frac{x \sin x}{x^2 + 4x + 20} dx; 9.2. \int_{-\infty}^{\infty} \frac{x \cos x}{x^2 + x + 1} dx; 9.3. \int_{-\infty}^{\infty} \frac{(x+1) \sin 2x}{x^2 + 2x + 2} dx$$

$$9.4. \int_0^{\infty} \frac{\cos x}{x^2 + 9} dx.$$

Ответ: 9.1.  $\frac{\pi e^{-4}}{2} (\sin 2 + 2 \cos 2)$ ; 9.2.  $\frac{\pi e^{-\sqrt{5}/2}}{2} (\sqrt{3} \sin \frac{1}{2} - \cos \frac{1}{2})$ ;

9.3.  $\pi e^{-2} \cos 2$ ; 9.4.  $\frac{\pi}{6} e^{-3}$ .

## §7. ОПЕРАЦИОННОЕ ИСЧИСЛЕНИЕ

Операционное (символическое) исчисление применяется для решения линейных обыкновенных дифференциальных уравнений и уравнений с частными производными, дифференциально-разностных уравнений и интегральных уравнений типа свертки, к которым приводятся задачи главным образом по переходным процессам линейных физических систем электротехники, радиотехники, импульсной техники, теории автоматического регулирования и других отраслей науки и техники.

Метод символического исчисления основан на том, что над оператором дифференцирования  $\frac{d}{dt} = p$  и некоторыми функциями этого оператора производится определенная система действий. В этой системе действий дифференцирование функции  $x = x(t)$  рассматривается как умножение оператора  $p$  на функцию  $X = X(p)$  этого оператора  $\frac{dx}{dt} = pX(p)$ ,

$\frac{d^2x}{dt^2} = p^2X(p), \dots, \frac{d^n x}{dt^n} = p^n X(p)$ , а интегрирование как деление на оператор  $p$  функции этого оператора  $\int_0^t x dt = \frac{X(p)}{p}, \int_0^t dt \int_0^t f(t) dt = \frac{X(p)}{p^2}, \dots$

## 7.1. ОСНОВНЫЕ ПОНЯТИЯ И ОПРЕДЕЛЕНИЯ.

### 1. Оригинал и изображение.

**Оригиналом** называется функция  $f(t)$ , определенная на всей числовой оси  $t$  и удовлетворяющая следующим условиям:

1.  $f(t)$  непрерывна во всей области определения, за исключением, может быть, конечного числа точек разрыва I рода на каждом отрезке конечной длины;
2.  $f(t) = 0$  при  $t < 0$ ;
3.  $f(t)$  при  $t \rightarrow \infty$  возрастает не быстрее некоторой экспоненциальной функции, то есть существуют такие числа  $M > 0, s_0 \geq 0$ , что для всякого  $t \geq 0$  выполняется неравенство  $|f(t)| < Me^{s_0 t}$ , где наименьшее из чисел  $s_0$ , при котором выполняется неравенство, называется **показателем роста оригинала**.

Замечание 1. Оригинал  $f(t)$  может принимать действительные значения и может быть комплексной функцией действительного переменного, то есть иметь вид  $f(t) = f_1(t) + if_2(t)$ . Каждая из функций  $f_1(t), f_2(t)$  должны удовлетворять условиям оригинала.

Замечание 2. В дальнейшем для краткости записи будем писать  $y = f(t)$ . Под этим будем понимать следующее:

$$y = \begin{cases} f(t), & \text{если } t \geq 0; \\ 0, & \text{если } t < 0. \end{cases}$$

Пример 1. Показать, что функция

$$f(t) = \begin{cases} \operatorname{ch}(5 - 2i)t, & \text{если } t \geq 0; \\ 0, & \text{если } t < 0 \end{cases}$$

является оригиналом.

Решение. 1) Функция  $f(t)$  непрерывна для  $\forall t \geq 0$ ,

2) она равна нулю при  $\forall t < 0$ ,

$$3) \operatorname{ch}(5 - 2i)t = \frac{e^{(5-2i)t} + e^{-(5-2i)t}}{2} = \frac{e^{5t} \cdot e^{-2it}}{2} + \frac{e^{-5t} \cdot e^{2it}}{2}.$$

Оценим модуль этой функции

$$\begin{aligned} |\operatorname{ch}(5 - 2i)t| &= \left| \frac{e^{5t} \cdot e^{-2it}}{2} + \frac{e^{-5t} \cdot e^{2it}}{2} \right| \leq \left| \frac{e^{5t} \cdot e^{-2it}}{2} \right| + \left| \frac{e^{-5t} \cdot e^{2it}}{2} \right| = \\ &= \frac{e^{5t}}{2} + \frac{e^{-5t}}{2} < \frac{e^{5t}}{2} + \frac{e^{5t}}{2} = e^{5t}. \end{aligned}$$

Таким образом,  $M = 1; s_0 = 5$ . Так как функция  $f(t)$  удовлетворяет всем требованиям, предъявляемым к оригиналу, то она является оригиналом.

Пример 2. Функция  $f(t) = \frac{1}{t-5}$  не является оригиналом, так как при  $t = 5$  имеет разрыв второго рода.

Если  $f(t)$ - оригинал, то, очевидно,  $|f(t)|$  будет оригиналом с тем же показателем роста;

-линейная комбинация оригиналов есть оригинал;

-если  $f(t)$ - оригинал, то  $f(\alpha t)$  ( $\alpha$  - положительное число),  $tf(t)$ ,  $f(t - \tau)$  ( $\tau$  - действительное число),  $e^{\lambda t} f(t)$  ( $\lambda$  - ком-

плексное число),  $\int_0^t f(u)du$  тоже будут оригиналами.

**Изображением** функции  $f(t)$  называется функция  $F(p)$  комплексного переменного  $p = s + i\sigma$ , которая определяется равенством

$$F(p) = \int_0^{\infty} f(t)e^{-pt} dt. \quad (7.1)$$

Интеграл (7.1) называется **интегралом Лапласа** функции  $f(t)$ . Операция перехода от оригинала  $f(t)$  к изображению  $F(p)$  называется преобразованием Лапласа. Теория преобразования Лапласа называют операционным исчислением. Тот факт, что  $f(t)$  и  $F(p)$  относятся друг к другу как оригинал и изображение, записывают так:  $f(t) \Leftrightarrow F(p)$  или  $L[f(t)] = F(p)$ ;  $F(p) \Leftrightarrow f(t)$ .

Можно доказать, что при выполнении условий 1-3 для функции  $f(t)$  несобственный интеграл  $\int_0^{\infty} f(t)e^{-pt} dt$  сходится абсолютно и равномерно при  $\operatorname{Re} p = s > s_0$ .

**Упражнения.** Проверить, какие из указанных функций являются функциями-оригиналами:

1.  $f(t) = b^t \eta(t), b > 0, b \neq 1$ ;
2.  $f(t) = e^{(2+4i)t} \eta(t)$ ;
3.  $f(t) = \frac{1}{t-3} \eta(t)$ ;
4.  $f(t) = t^2 \eta(t)$ ;
5.  $f(t) = \operatorname{ch}(3-i)t \eta(t)$ ;
6.  $f(t) = \operatorname{tg} t \eta(t)$ ;

$$7. f(t) = t' \eta(t); \quad 8. f(t) = e^{-t} \cos t \eta(t);$$

$$9. f(t) = e^{t^2} \eta(t); \quad 10. f(t) = e^{-t^2} \eta(t);$$

$$11. f(t) = \frac{1}{t^2 + 2} \eta(t).$$

Ответ: 1. да; 2. да; 3. нет; 4. да; 5. да; 6. нет; 7. нет; 8. да; 9. нет; 10. да; 11. да.

## 2. Единичная функция Хевисайда и ее изображение.

**Единичной функцией Хевисайда** называется функция вида

$$\eta(t) = \begin{cases} 1, & \text{при } t \geq 0, \\ 0, & \text{при } t < 0. \end{cases}$$

График функции имеет вид

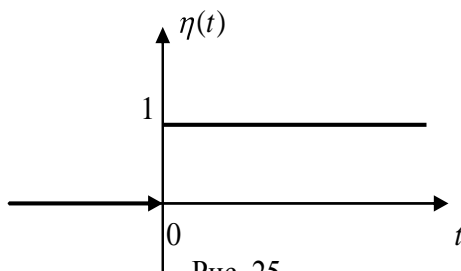


Рис. 25.

Любой оригинал  $y = \begin{cases} f(t), & \text{при } t \geq 0, \\ 0, & \text{при } t < 0 \end{cases}$  при помощи единичной

функции  $\eta(t)$  может быть записан в виде  $y = f(t)\eta(t)$ . Легко показать, что  $\eta(t)$  является оригиналом. Найдем его изображение. Для этого применим преобразование Лапласа

$$\eta(t) \Leftrightarrow \int_0^{\infty} \eta(t) e^{-pt} dt = \int_0^{\infty} 1 \cdot e^{-pt} dt = \lim_{b \rightarrow +\infty} \int_0^b e^{-pt} dt = \lim_{b \rightarrow +\infty} \left. \frac{e^{-pt}}{-p} \right|_0^b =$$



$$= \lim_{b \rightarrow +\infty} \left( \frac{1}{p} - \frac{1}{p} e^{-pb} \right).$$

Найдем  $\lim_{b \rightarrow +\infty} \frac{e^{-pb}}{p}$ . Так как  $p = s + i\sigma$ ,  $\operatorname{Re} p = s > s_0 \geq 0$ , а

$$|e^{-ib\sigma}| = 1, \text{ то } \lim_{b \rightarrow +\infty} \frac{e^{-pb}}{p} = \lim_{b \rightarrow +\infty} \frac{e^{-sb} \cdot e^{-ib\sigma}}{p} = 0. \text{ Таким образом,}$$

$$\eta(t) \Leftrightarrow \frac{1}{p}.$$

### 3. Некоторые теоремы об изображении.

**Теорема 1** (о существовании изображения).

Всякий оригинал  $f(t)$  имеет своим изображением функцию комплексного переменного  $F(p)$ , определенную в полуплоскости  $\operatorname{Re} p = s > s_0$ , где  $s_0$  - показатель роста оригинала (рис.26).

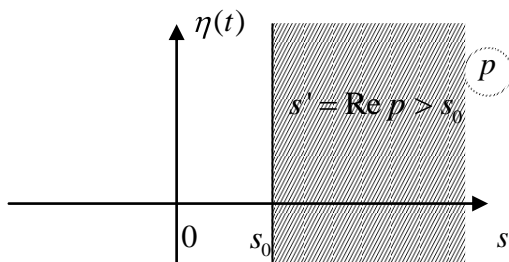


Рис.26.

**Теорема 2** (о поведении изображения на бесконечности).

Если функция  $F(p)$  - изображение, то  $\lim_{\operatorname{Re} p \rightarrow +\infty} F(p) = 0$ .

Для этой теоремы нет обратной, то есть из условия

$\lim_{\operatorname{Re} p \rightarrow +\infty} F(p) = 0$ . не следует, что  $F(p)$  - изображение.

Пример 1. Функции  $F(p) = \sqrt{p}$ ,  $F(p) = e^p$ ,  $F(p) = p$  не стремятся к нулю при  $\operatorname{Re} p \rightarrow +\infty$  и поэтому не могут служить изображениями.

Пример 2. Функция  $F(p) = e^{-p} \rightarrow 0$  при  $\operatorname{Re} p = s \rightarrow +\infty$ , но не существует функции  $f(t)$ , для которой  $e^{-p}$  было бы изображением.

**Теорема 3** (о линейности изображения)

Если  $f_1(t) \Leftrightarrow F_1(p)$  и  $f_2(t) \Leftrightarrow F_2(p)$ , то  $c_1 f_1(t) + c_2 f_2(t) \Leftrightarrow c_1 F_1(p) + c_2 F_2(p)$ , где  $c_1, c_2$  - комплексные постоянные.

**Теорема 4** (об аналитичности изображения)

Если функция  $F(p)$  является изображением некоторого оригинала  $f(t)$ , то  $F(p)$  - функция аналитическая в полуплоскости  $\operatorname{Re} p = s > s_0$ , где  $s_0$  - показатель роста оригинала.

#### 4. Изображение простейших оригиналов

1. Пусть  $f(t) = c$ , где  $c = \text{const}$ . Тогда  $f(t) \Leftrightarrow \frac{c}{p}$ , то есть

$c \Leftrightarrow \frac{c}{p}$ . Действительно, так как  $1 \Leftrightarrow \frac{1}{p}$  при  $\operatorname{Re} p = s > 0$ , то

на основании теоремы 3 имеем  $c \cdot 1 \Leftrightarrow c \cdot \frac{1}{p}$  при  $\operatorname{Re} p = s > 0$ .

2.  $f(t) = e^{\alpha t}$ . Найдем  $F(p)$  по определению

$$\begin{aligned} e^{\alpha t} &\Leftrightarrow \int_0^{\infty} e^{\alpha t} \cdot e^{-pt} dt = \int_0^{\infty} e^{(\alpha-p)t} dt = \lim_{b \rightarrow +\infty} \frac{1}{\alpha - p} e^{(\alpha-p)t} \Big|_0^b = \\ &= \frac{1}{\alpha - p} \lim_{b \rightarrow +\infty} (e^{(\alpha-p)b} - 1) = \frac{1}{p - \alpha}, \end{aligned}$$

если  $\operatorname{Re}(\alpha - p) < 0$ , и  $\frac{1}{\alpha - p} \lim_{b \rightarrow +\infty} (e^{(\alpha-p)b} - 1) = \infty$ , если

$\operatorname{Re}(\alpha - p) > 0$ .

Таким образом  $e^{\alpha t} \Leftrightarrow \frac{1}{p - \alpha}$ , если  $\operatorname{Re} p > \operatorname{Re} \alpha$ .

3.  $f(t) = \cos \omega t$ , ( $\omega$  - положительное число). Выразим косинус через показательные функции:  $\cos \omega t = \frac{e^{i\omega t} + e^{-i\omega t}}{2}$ .

Зная, что  $e^{\alpha t} \Leftrightarrow \frac{1}{p - \alpha}$ , при  $\operatorname{Re} p > \operatorname{Re} \alpha$ , и учитывая свойство линейности изображения, получим

$$\cos \omega t \Leftrightarrow \frac{1}{2} \left( \frac{1}{p - i\omega} + \frac{1}{p + i\omega} \right) = \frac{p}{p^2 + \omega^2}.$$

Так как в данном случае  $\alpha = \mp i\omega$ , то  $\operatorname{Re} \alpha = 0$ , и, следовательно,  $\cos \omega t \Leftrightarrow \frac{p}{p^2 + \omega^2}$  при  $\operatorname{Re} p > 0$ .

4.  $f(t) = \sin \omega t$ , ( $\omega$  - положительное число). Проводя рассуждения, аналогичные предыдущим, и учитывая, что  $\sin \omega t = \frac{e^{i\omega t} - e^{-i\omega t}}{2i}$ , получим

$$\sin \omega t \Leftrightarrow \frac{\omega}{p^2 + \omega^2} \text{ при } \operatorname{Re} p > 0.$$

5.  $f(t) = \operatorname{ch} at$ , ( $a$  - положительное число). Запишем  $\operatorname{ch} at$  в виде:  $\operatorname{ch} at = \frac{e^{at} + e^{-at}}{2}$ . Тогда

$$\operatorname{ch} at \Leftrightarrow \frac{1}{2} \left( \frac{1}{p - a} + \frac{1}{p + a} \right) = \frac{p}{p^2 - a^2},$$

при  $\operatorname{Re} p > \operatorname{Re} \alpha = a$ .

$$\operatorname{ch} at \Leftrightarrow \frac{p}{p^2 - a^2} \text{ при } \operatorname{Re} p > a.$$

6.  $f(t) = \text{sh } at$ , ( $a$  - положительное число). Используя

формулу  $\text{sh } at = \frac{e^{at} - e^{-at}}{2}$ , получим

$$\text{sh } at \Leftrightarrow \frac{a}{p^2 - a^2} \text{ при } \text{Re } p > a.$$

Пример. Найти изображение заданных функций

1.  $2 \sin 3t - \cos \frac{t}{2}$ ; 2.  $\cos^2 t$ ; 3.  $\text{sh}^3 t$ ; 4.  $\sin^2(t - a)$ .

Решение.

$$\begin{aligned} 1. \quad 2 \sin 3t - \cos \frac{t}{2} &\Leftrightarrow 2 \cdot \frac{3}{p^2 + 9} - \frac{p}{p^2 + \frac{1}{4}} = \frac{6}{p^2 + 9} - \frac{4p}{4p^2 + 1} = \\ &= \frac{24p^2 + 6 - 4p^3 - 36p}{(p^2 + 9)(4p^2 + 1)} = -\frac{4p^3 + 12p - 6}{(p^2 + 9)(4p^2 + 1)}; \end{aligned}$$

$$2. \quad \cos^2 t = \frac{1 + \cos 2t}{2} = \frac{1}{2} + \frac{1}{2} \cos 2t = \frac{1}{2} \cdot \frac{1}{p} + \frac{1}{2} \cdot \frac{p}{p^2 + 4} = \frac{p^2 + 2}{p(p^2 + 4)};$$

$$\begin{aligned} 3. \quad \text{sh}^3 t &= \left(\frac{e^t - e^{-t}}{2}\right)^3 = \frac{1}{8}(e^{3t} - 3e^t + 3e^{-t} - e^{-3t}) = \\ &= \frac{1}{8} \left(\frac{1}{p-3} - \frac{3}{p-1} + \frac{3}{p+1} - \frac{1}{p+3}\right) = \frac{6}{(p^2 - 1)(p^2 - 9)}; \end{aligned}$$

$$\begin{aligned} 4. \quad \sin^2(t - a) &= \frac{1 - \cos 2(t - a)}{2} = \frac{1}{2} - \frac{1}{2} \cos 2(t - a) = \frac{1}{2} - \\ &- \frac{1}{2}(\cos 2t \cdot \cos 2a + \sin 2t \cdot \sin 2a) \Leftrightarrow \frac{1}{2} \cdot \frac{1}{p} - \frac{1}{2}(\cos 2a \cdot \frac{p}{p^2 + 4} + \\ &+ \sin 2a \cdot \frac{2}{p^2 + 4}) = \frac{1}{2} \left(\frac{1}{p} - \frac{1}{p^2 + 4}(p \cos 2a - 2 \sin 2a)\right). \end{aligned}$$

**Упражнения.** Пользуясь определением, найти изображения следующих функций:

1.  $f(t) = t$ ; 2.  $f(t) = \sin 3t$ ; 3.  $f(t) = te^t$ ; 4.  $f(t) = t^\alpha$  ( $\alpha > -1$ ).

Ответы: 1.  $\frac{1}{p^2}$ ; 2.  $\frac{p}{p^2+9}$ ; 3.  $\frac{1}{(p-1)^2}$ ; 4.  $\frac{\Gamma(\alpha+1)}{p^{\alpha+1}}$ .

## 7.2. ОСНОВНЫЕ ТЕОРЕМЫ ПРЕОБРАЗОВАНИЯ ЛАПЛАСА

### 1. Теорема подобия

Если  $f(t) \Leftrightarrow F(p)$ , то  $f(at) \Leftrightarrow \frac{1}{a}F\left(\frac{p}{a}\right)$  для любого  $a > 0$ .

Пример. Найти изображение следующих функций:

а)  $f(t) = \cos mt \cdot \cos nt$ ; б)  $f(t) = \sin mt \cdot \cos nt$ .

Решение. а) Преобразовав  $f(t)$  по формулам тригонометрии, получим  $f(t) = \frac{1}{2}(\cos(m-n)t + \cos(m+n)t)$ , и, следовательно,

$$F(p) = \frac{1}{2} \left( \frac{p}{p^2 + (m-n)^2} + \frac{p}{p^2 + (m+n)^2} \right) = \frac{p(p^2 + m^2 + n^2)}{(p^2 + m^2 + n^2)^2 - 4m^2n^2};$$

б) Аналогично,

$$\begin{aligned} f(t) &= \frac{1}{2}(\sin(m+n)t + \sin(m-n)t) \Leftrightarrow \frac{1}{2} \left( \frac{m+n}{p^2 + (m+n)^2} + \frac{m-n}{p^2 + (m-n)^2} \right) = \\ &= \frac{m(p^2 + m^2 - n^2)}{(p^2 + m^2 + n^2)^2 - 4m^2n^2}. \end{aligned}$$

**Упражнения.** Пользуясь теоремами линейности и подобия, найти изображения следующих функций:

1.  $f(t) = \sin^2 t$ .                      2.  $f(t) = \cos^3 t$ .

3.  $f(t) = \sin mt \sin nt$ .        4.  $f(t) = \sin^4 t$ .

Ответы: 1.  $\frac{2}{p(p^2+4)}$ .

2.  $\frac{p^3+7p}{(p^2+9)(p^2+1)}$ .

3.  $\frac{2mnp}{(p^2+m^2-n^2)^2-4m^2n^2}$ .

4.  $\frac{1}{8} \left( \frac{3}{p} + \frac{p}{p^2+16} - \frac{4p}{p^2+1} \right)$ .

## 2. Теорема смещения

Если  $f(t) \Leftrightarrow F(p)$ , то  $e^{\alpha t} f(t) \Leftrightarrow F(p - \alpha)$  для любого  $\alpha \in \mathbb{C}$  при  $\operatorname{Re} p > s_0 + \operatorname{Re} \alpha$ .

Пример 1. Найти изображение функций:

а)  $e^{\alpha t} \sin \omega t$ ; б)  $e^{\alpha t} \cos \omega t$ ; в)  $e^{\alpha t} \operatorname{sh} at$ ; г)  $e^{\alpha t} \operatorname{ch} at$ .

Решение. Так как  $\sin \omega t \Leftrightarrow \frac{\omega}{p^2 + \omega^2}$ ,  $\cos \omega t \Leftrightarrow \frac{p}{p^2 + \omega^2}$ ,  
 $\operatorname{sh} at \Leftrightarrow \frac{a}{p^2 - a^2}$ ,  $\operatorname{ch} at \Leftrightarrow \frac{p}{p^2 - a^2}$ , то, применяя теорему смещения, получим:

$$\text{а) } e^{\alpha t} \sin \omega t \Leftrightarrow \frac{\omega}{(p - \alpha)^2 + \omega^2}; \quad \text{б) } e^{\alpha t} \cos \omega t \Leftrightarrow \frac{p - \alpha}{(p - \alpha)^2 + \omega^2};$$

$$\text{в) } e^{\alpha t} \operatorname{sh} at \Leftrightarrow \frac{a}{(p - \alpha)^2 - a^2}; \quad \text{г) } e^{\alpha t} \operatorname{ch} at \Leftrightarrow \frac{p - \alpha}{(p - \alpha)^2 - a^2}.$$

Пример 2. Найти изображение функции  $f(t) = e^{-t} \sin^2 t$ .

Решение. Представим  $f(t)$  в виде:

$$f(t) = e^{-t} \sin^2 t = e^{-t} \cdot \frac{1 - \cos 2t}{2} = \frac{1}{2} e^{-t} - \frac{1}{2} e^{-t} \cos 2t.$$

Тогда

$$f(t) \Leftrightarrow \frac{1}{2} \cdot \frac{1}{p+1} - \frac{1}{2} \cdot \frac{p+1}{(p+1)^2 + 4} = \frac{1}{2} \left( \frac{1}{p+1} - \frac{p+1}{p^2 + 2p + 5} \right) =$$
$$= \frac{2}{(p+1)(p^2 + 2p + 5)}.$$

**Упражнения.** Найти изображения функций:

1.  $\operatorname{sh} \alpha t \operatorname{ch} \beta t$ .
2.  $\operatorname{ch} \alpha t \operatorname{ch} \beta t$ .
3.  $\operatorname{sh} \alpha t \operatorname{sh} \beta t$ .
4.  $\operatorname{sh} \alpha t - \sin \alpha t$ .
5.  $\operatorname{ch} \alpha t - \cos \alpha t$ .
6.  $\operatorname{sh} \alpha t + \sin \alpha t$ .
7.  $\operatorname{ch} \alpha t + \cos \alpha t$ .
8.  $\cos \alpha t \operatorname{ch} \beta t$ .
9.  $\sin \alpha t \operatorname{sh} \beta t$ .

Ответы: 1.  $\frac{\alpha(p^2 - \alpha^2 + \beta^2)}{(p^2 - (\alpha - \beta)^2)(p^2 - (\alpha + \beta)^2)}$ .

2.  $\frac{p(p^2 - \alpha^2 - \beta^2)}{(p^2 - (\alpha - \beta)^2)(p^2 - (\alpha + \beta)^2)}$ .

3.  $\frac{2\alpha\beta p}{(p^2 - (\alpha + \beta)^2)(p^2 - (\alpha - \beta)^2)}$ . 4.  $\frac{2\alpha^3}{p^4 - \alpha^4}$ . 5.  $\frac{2\alpha^2 p}{p^4 - \alpha^4}$ .

6.  $\frac{2\alpha p^2}{p^4 - \alpha^4}$ . 7.  $\frac{2p^3}{p^4 - \alpha^4}$ . 8.  $\frac{p(p^2 + \alpha^2 - \beta^2)}{(p^2 + \alpha^2 - \beta^2)^2 + 4\alpha^2 \beta^2}$ .

9.  $\frac{2\alpha\beta p}{(p^2 + \alpha^2 - \beta^2)^2 + 4\alpha^2 \beta^2}$ .

### 3. Теорема запаздывания

Если  $f(t) \Leftrightarrow F(p)$ , то  $f(t-b) \Leftrightarrow e^{-bp} F(p)$  для любого  $b \in [0, \infty)$ .

По определению оригинала имеем:

$$y = \begin{cases} f(t-b) & \text{при } t \geq b, \\ 0 & \text{при } t < b. \end{cases}$$

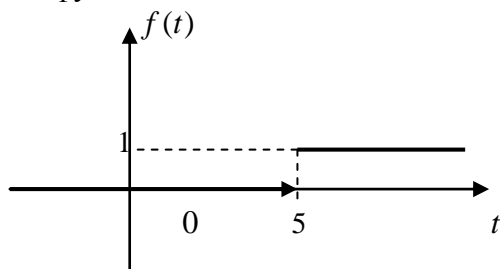
График функции  $y = f(t-b)$  сдвинут по оси  $t$  относительно графика функции  $y = f(t)$  на величину  $b$ . Процесс, описываемый функцией  $f(t-b)$ , начинается как бы с опозданием на время  $b$ , относительно процесса, описываемого функцией  $f(t)$ . Отсюда и появился термин «запаздывание». Исходя из физического толкования, теорему запаздывания можно сформулировать так: запаздывание оригинала на положительную величину  $b$  соответствует умножению изображения на  $e^{-bp}$ .

Пример 1. Найти изображение функции  $f(t) = \eta(t-5)$ .

Решение. Запишем функцию в виде

$$f(t) = \begin{cases} 1 & \text{при } t \geq 5, \\ 0 & \text{при } t < 5. \end{cases}$$

График этой функции имеет вид



Так как изображением функции  $\eta(t)$  является  $F(p) = \frac{1}{p}$ , то используя теорему запаздывания, получим  $\eta(t-5) \Leftrightarrow \frac{e^{-5p}}{p}$ .

Пример 2. Найти изображение функции

$$f(t) = \eta(t-2) \sin^2\left(\frac{t-2}{2}\right).$$

Решение.

$$\begin{aligned} f(t) &= \eta(t-2) \sin^2\left(\frac{t-2}{2}\right) = \eta(t-2) \frac{1 - \cos(t-2)}{2} = \frac{1}{2} \eta(t-2) - \\ &- \frac{1}{2} \eta(t-2) \cos(t-2) \Leftrightarrow \frac{1}{2p} e^{-2p} - \frac{1}{2} \frac{p}{p^2+1} e^{-2p} = \frac{1}{2} e^{-2p} \left(\frac{1}{p} - \frac{p}{p^2+1}\right) = \\ &= \frac{e^{-2p}}{2p(p^2+1)}. \end{aligned}$$

Пример 3. Найти изображение функции  $f(t) = \eta\left(t - \frac{\pi}{4}\right) \sin t$ .

Решение. Представим функцию  $f(t)$  в виде

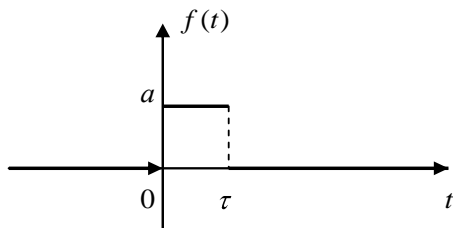
$$\begin{aligned} f(t) &= \eta\left(t - \frac{\pi}{4}\right) \sin t = \eta\left(t - \frac{\pi}{4}\right) \frac{\sqrt{2}}{2} (\sin(t - \frac{\pi}{4}) + \cos(t - \frac{\pi}{4})) = \\ &= \frac{\sqrt{2}}{2} (\eta\left(t - \frac{\pi}{4}\right) \sin(t - \frac{\pi}{4}) + \eta\left(t - \frac{\pi}{4}\right) \cos(t - \frac{\pi}{4})). \end{aligned}$$



Тогда  $F(p) = \frac{\sqrt{2}}{2} \left( \frac{e^{-\frac{\pi}{4}p}}{p^2 + 1} + \frac{pe^{-\frac{\pi}{4}p}}{p^2 + 1} \right) = \frac{\sqrt{2}e^{-\frac{\pi}{4}p}(1 + p)}{2(p^2 + 1)}$ .

Теорема запаздывания является удобным способом для нахождения изображений кусочно-непрерывных оригиналов, заданных графически.

Пример 1. Найти изображение функции, заданной графически:



Запишем аналитическое выражение для функции  $f(t)$ :

$$f(t) = \begin{cases} a, & \text{при } 0 \leq t < \tau; \\ 0, & \text{при } t < 0 \text{ и } t \geq \tau. \end{cases}$$

Функцию  $f(t)$  с помощью обобщенной единичной функции можно записать формулой:  $f(t) = [\eta(t) - \eta(t - \tau)]a$ .

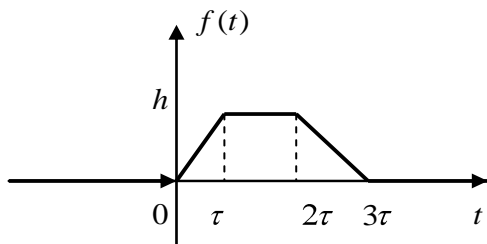
Находим изображение оригинала. Имеем  $f(t) \Leftrightarrow a \frac{1 - e^{-p\tau}}{p}$ ,

так как  $\eta(t) \Leftrightarrow \frac{1}{p}$  и  $\eta(t - \tau) \Leftrightarrow e^{-p\tau} \frac{1}{p}$ .

Пример 2. Найти изображение функции

$$f(t) = \begin{cases} \frac{h}{\tau}t, & \text{при } 0 \leq t < \tau; \\ h, & \text{при } \tau \leq t < 2\tau; \\ -\frac{h}{\tau}(t - 3\tau), & \text{при } 2\tau \leq t < 3\tau; \\ 0, & \text{при } t \geq 3\tau. \end{cases}$$

Решение. Построим график функции  $f(t)$  :



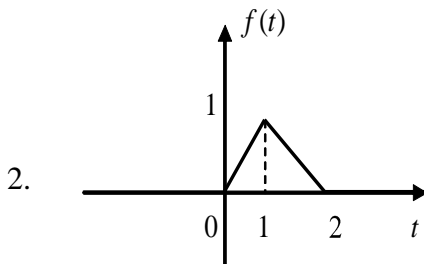
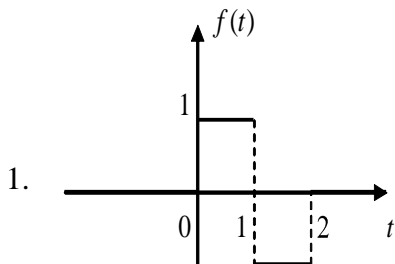
Используя функцию Хевисайда, запишем  $f(t)$  в виде:

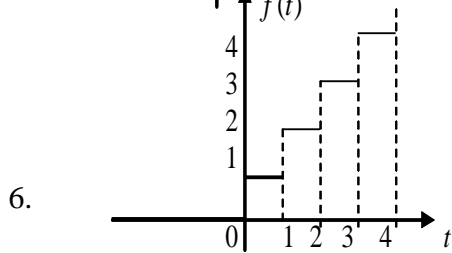
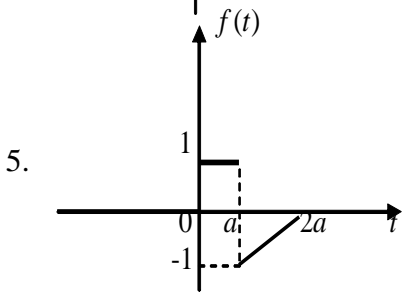
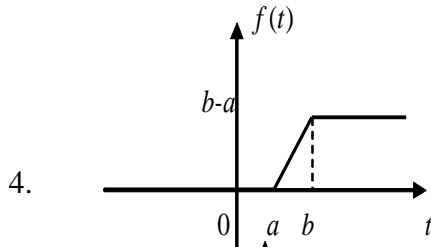
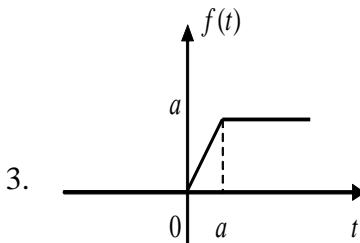
$$\begin{aligned}
 f(t) &= \frac{h}{\tau} t[\eta(t) - \eta(t - \tau)] + h[\eta(t - \tau) - \eta(t - 2\tau)] - \\
 &- \frac{h}{\tau} (t - 3\tau)[\eta(t - 2\tau) - \eta(t - 3\tau)] = \frac{h}{\tau} t\eta(t) + h(1 - \frac{t}{\tau})\eta(t - \tau) - \\
 &- (h + \frac{h}{\tau} (t - 3\tau))\eta(t - 2\tau) + \frac{h}{\tau} (t - 3\tau)\eta(t - 3\tau) = \frac{h}{\tau} t\eta(t) - \\
 &- \frac{h}{\tau} (t - \tau)\eta(t - \tau) - \frac{h}{\tau} (t - 2\tau)\eta(t - 2\tau) + \frac{h}{\tau} (t - 3\tau)\eta(t - 3\tau).
 \end{aligned}$$

Теперь перейдем от оригинала к изображению, используя теорему запаздывания:

$$\begin{aligned}
 F(p) &= \frac{h}{\tau} \cdot \frac{1}{p^2} - \frac{h}{\tau} \cdot \frac{1}{p^2} e^{-\tau p} - \frac{h}{\tau} \cdot \frac{1}{p^2} e^{-2\tau p} + \frac{h}{\tau} \cdot \frac{1}{p^2} e^{-3\tau p} = \\
 &= \frac{h}{\tau} \cdot \frac{1}{p^2} (1 - e^{-\tau p} - e^{-2\tau p} + e^{-3\tau p}).
 \end{aligned}$$

**Упражнения.** Найти изображения следующих функций, заданных графически:





Ответы: 1.  $\frac{1-2e^{-p}+e^{-2p}}{p}$ . 2.  $\frac{1-2e^{-p}+e^{-2p}}{p^2}$ . 3.  $\frac{1-e^{-ap}}{p^2}$ .

4.  $\frac{e^{-ap}-e^{-bp}}{p^2}$ . 5.  $\frac{1}{p(e^p-1)}$ . 6.  $\frac{1}{p} + \frac{1-2ap}{ap^2}e^{-ap} - \frac{1}{ap^2}e^{-2ap}$ .

Пример 3. Найти изображение периодической с периодом  $l$  функции  $f(t)$ .

Решение. Введем функцию

$$f_0(t) = \begin{cases} f(t), & \text{при } 0 \leq t < l, \\ 0, & \text{при } t \geq l. \end{cases}$$

Тогда  $f_0(t) = f(t)\eta(t) - f(t)\eta(t-l) = f(t)\eta(t) - f(t-l)\eta(t-l)$ , так как  $f(t) = f(t-l)$  при  $t \geq l$ , в силу периодичности. Переходя к изображениям, получим:

$$F_0(p) = F(p) - F(p)e^{-lp}, \text{ где } F_0(p) = \int_0^l f(t)e^{-pt} dt.$$

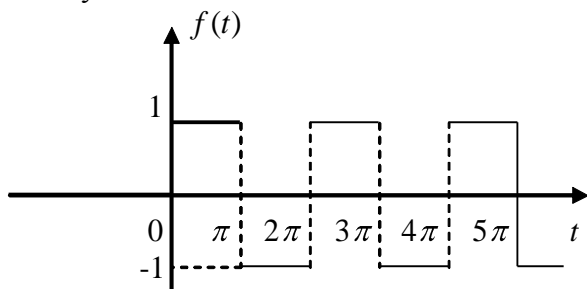
Следовательно,  $F(p) = \frac{F_0(p)}{1 - e^{-lp}} = \frac{1}{1 - e^{-lp}} \int_0^l f(t) e^{-pt} dt$ .

Пример 4. Найти изображения периодических функций:

$$1. f(t) = f(t + 2\pi) = \frac{\sin t}{|\sin t|} = \begin{cases} 1, & 2\pi n < t < (2n+1)\pi, \\ -1, & (2n+1)\pi < t < (2n+2)\pi, \\ 0, & t < 0, \end{cases}$$

$n = 0, 1, 2, \dots$

Решение. Функция  $\frac{\sin t}{|\sin t|}$  имеет много общего с тригонометрической функцией  $\sin t$ , поэтому она называется прямоугольным синусом.



Находим изображение  $F(p)$ .

Получим

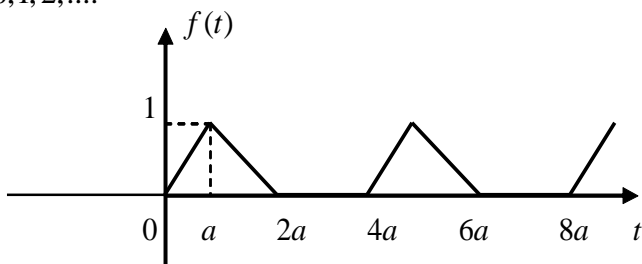
$$\begin{aligned} F(p) &= \frac{1}{1 - e^{-2\pi p}} \int_0^{2\pi} e^{-pt} f(t) dt = \frac{1}{1 - e^{-2\pi p}} \left( \int_0^{\pi} e^{-pt} dt - \int_{\pi}^{2\pi} e^{-pt} dt \right) = \\ &= \frac{1}{1 - e^{-2\pi p}} \left( \frac{e^{-pt}}{-p} \Big|_0^{\pi} + \frac{e^{-pt}}{p} \Big|_{\pi}^{2\pi} \right) = \frac{1}{1 - e^{-2\pi p}} \left( -\frac{e^{-\pi p}}{p} + \frac{1}{p} + \frac{e^{-2\pi p}}{p} - \frac{e^{-\pi p}}{p} \right) = \\ &= \frac{(1 - e^{-\pi p})^2}{p(1 - e^{-2\pi p})} = \frac{1}{p} \cdot \frac{1 - e^{-\pi p}}{1 + e^{-\pi p}}, \end{aligned}$$

или  $\frac{\sin t}{|\sin t|} \Leftrightarrow \frac{1}{p} \operatorname{th} \frac{\pi p}{2}$ .

Пример 5. Найти изображение периодической функции

$$f(t) = f(t + 4a) = \begin{cases} \frac{t}{a} - 4n, & 4na < t < (4n + 1)a, \\ -\frac{t}{a} + 4n + 2, & (4n + 1)a < t < (4n + 2)a, \\ 0, & (4n - 2)a < t < (4n + 4)a, t < 0, \end{cases}$$

$n = 0, 1, 2, \dots$



Перейдя к изображению, получаем

$$\begin{aligned} F(p) &= \frac{1}{1 - e^{-4ap}} \int_0^{4a} e^{-pt} f(t) dt = \frac{1}{1 - e^{-4ap}} \left( \int_0^a e^{-pt} \frac{t}{a} dt + \int_a^{2a} e^{-pt} \left(2 - \frac{t}{a}\right) dt \right) = \\ &= \frac{1}{a(1 - e^{-4ap})} \left( -\frac{te^{-pt}}{p} - \frac{e^{-pt}}{p^2} \right) \Big|_0^a + \left( \frac{te^{-pt}}{p} + \frac{e^{-pt}}{p^2} - \frac{2ae^{-pt}}{p} \right) \Big|_a^{2a} = \\ &= \frac{(1 - e^{-ap})^2}{ap^2(1 - e^{-4ap})} \quad \text{или} \quad f(t) = \frac{\operatorname{th} \frac{ap}{2}}{ap^2(1 + e^{-2ap})}. \end{aligned}$$

**Упражнения.** Найти изображения периодических функций:

$$1. f(t) = f(t + 2a) = \begin{cases} 1, & 2na < t < (2n + 1)a, \\ -1, & (2n + 1)a < t < (2n + 2)a, \\ 0, & t < 0, \end{cases}$$

$$n = 0, 1, 2, \dots$$

2.

$$f(t) = f(t + 2a) = \begin{cases} \frac{t}{a} - 2n, & 2na < t < (2n + 1)a, \\ -\frac{t}{a} + 2(n + 1), & (2n + 1)a < t < (2n + 2)a, \\ 0, & t < 0, \end{cases}$$

$$n = 0, 1, 2, \dots$$

3.

$$f(t) = f(t + 2a) = \begin{cases} \frac{2t}{a} - (4n + 1), & 2na < t < (2n + 1)a, \\ -\frac{2t}{a} + 4n + 3, & (2n + 1)a < t < (2n + 2)a, \\ 0, & t < 0, \end{cases}$$

$$n = 0, 1, 2, \dots$$

$$4. f(t) = f(t + a) = \begin{cases} \frac{2t}{a} - (2n + 1), & na < t < (n + 1)a, \\ 0, & t < 0. \end{cases}$$

$$n = 0, 1, 2, \dots$$

$$5. f(t) = f(t + 2a) = \begin{cases} \frac{t}{a} - 2n, & 2na < t < (2n + 1)a, \\ 0, & (2n + 1)a < t < (2n + 2)a, \quad t < 0. \end{cases}$$

$$n = 0, 1, 2, \dots$$

Ответы: 1.  $\frac{1}{p} \operatorname{th} \frac{ap}{2}$ . 2.  $\frac{1}{ap^2} \operatorname{th} \frac{ap}{2}$ . 3.  $\frac{2}{ap^2} \operatorname{th} \frac{ap}{2} - \frac{1}{p}$ .

4.  $\frac{2 + ap + (2 + ap)e^{-ap}}{ap^2(e^{-ap} - 1)}$ . 5.  $\frac{1 - (1 + ap)e^{-ap}}{ap^2(1 - e^{-2ap})}$ .

#### 4. Дифференцирование оригинала

Если  $f(t) \Leftrightarrow F(p)$  и существует функция  $f'(t)$ , являющаяся оригиналом, то

$$f'(t) \Leftrightarrow pF(p) - f(0), \text{ где } f(0) = \lim_{t \rightarrow 0^+} f(t).$$

Предположим теперь, что  $f(t)$   $n$ -раз непрерывно дифференцируемая на  $[0, \infty)$  функция и  $f^{(n)}(t)$  является оригиналом. Тогда, используя полученное соотношение  $f'(t) \Leftrightarrow pF(p) - f(0)$ , получим:

$$f''(t) \Leftrightarrow p(pF(p) - f(0)) - f'(0) = p^2F(p) - pf(0) - f'(0);$$

$$f'''(t) \Leftrightarrow p(p^2F(p) - pf(0) - f'(0)) - f''(0) = p^3F(p) - p^2f(0) - pf'(0) - f''(0);$$

...

$$f^{(n)}(t) \Leftrightarrow p^n F(p) - p^{n-1} f(0) - \dots - f^{(n-1)}(0).$$

Следствие. Если начальные условия нулевые, то есть  $f(0) = f'(0) = \dots = f^{(n-1)}(0) = 0$ , то  $f^{(n)}(t) \Leftrightarrow p^n F(p)$ .

Пример 1. Зная, что  $\sin \omega t \Leftrightarrow \frac{\omega}{p^2 + \omega^2}$ , найти изображение

для функции  $\cos \omega t$ .

Решение. Так как  $(\sin \omega t)' = \omega \cos \omega t$ , то

$$\omega \cos \omega t \Leftrightarrow p \frac{\omega}{p^2 + \omega^2} - \sin 0 = \frac{p\omega}{p^2 + \omega^2}.$$

Отсюда:  $\cos \omega t \Leftrightarrow \frac{p}{p^2 + \omega^2}$ .

Пример 2. Найти изображения дифференциальных выражений при заданных начальных условиях:

а)  $x'''(t) + 6x''(t) + x'(t) - 2x(t)$ ;  $x(0) = x'(0) = 0$ ;  $x''(0) = 1$ ;

б)  $x''(t) + 5x'(t) - 7x(t) + 2$ ;  $x(0) = \alpha$ ;  $x'(0) = 0$ .

Решение. По теореме дифференцирования оригинала имеем:

а)  $x'(t) \Leftrightarrow pX(p) - x(0) = pX(p)$ ;

$$x''(t) \Leftrightarrow p^2 X(p) - px(0) - x'(0) = p^2 X(p)$$
;

$$x'''(t) \Leftrightarrow p^3 X(p) - p^2 x(0) - px'(0) - x''(0) = p^3 X(p) - 1.$$

Тогда

$$x'''(t) + 6x''(t) + x'(t) - 2x(t) \Leftrightarrow p^3 X(p) - 1 + 6p^2 X(p) + pX(p) - 2X(p) = (p^3 + 6p^2 + p - 2)X(p) - 1.$$

б)  $x'(t) \Leftrightarrow pX(p) - x(0) = pX(p) - \alpha$ ;

$$x''(t) \Leftrightarrow p^2 X(p) - px(0) - x'(0) = p^2 X(p) - p\alpha.$$

Тогда

$$x''(t) + 5x'(t) - 7x(t) + 2 \Leftrightarrow p^2 X(p) - \alpha p + 5pX(p) - 5\alpha - 7X(p) + \frac{2}{p} = (p^2 + 5p - 7)X(p) - p\alpha - 5\alpha + \frac{2}{p}.$$

**Упражнения.** Найти изображения дифференциальных выражений при заданных начальных условиях:

1.  $x'' + 3x' + 2x + 1$  при условии  $x(0) = -1$ ;  $x'(0) = -2$ .

2.  $x^{IV} + x''' + 2x'' - 3x' - 5$  при условии  $x(0) = 1$ ;  $x'(0) = -1$ ;

$x''(0) = -3$ ;  $x'''(0) = 5$ .

3.  $x''' - 2x' + x - 1$  при условии  $x(0) = x'(0) = x''(0) = 0$ .

4.  $x'' + 5x' - 7x + 2$  при условии  $x(0) = 1$ ;  $x'(0) = 0$ .

5.  $x''' + 6x'' + x' - 2x$  при условии  $x(0) = -3$ ;  $x'(0) = 7$ ;  $x''(0) = 1$ .



## 5. Интегрирование оригинала

Если  $f(t) \Leftrightarrow F(p)$ , то  $\int_0^t f(t) dt$  является оригиналом и имеет

место соотношение  $\int_0^t f(t) dt \Leftrightarrow \frac{F(p)}{p}$ .

Таким образом, интегрирование оригинала соответствует делению на  $p$  изображения подынтегральной функции.

Пример 1. Найти изображение оригинала  $f(t) \Leftrightarrow \int_0^t \text{sh } 5t dt$ .

Решение. Так как  $\text{sh } 5t \Leftrightarrow \frac{5}{p^2 + 25}$ , то  $\int_0^t \text{sh } 5t dt \Leftrightarrow \frac{5}{p(p^2 + 25)}$ .

Пример 2. Найти изображение оригинала  $f(t) = \int_0^t \sin^2 \omega t dt$ .

Решение. Преобразуем  $f(t)$  следующим образом

$$f(t) = \int_0^t \sin^2 \omega t dt = \frac{1}{2} \int_0^t (1 - \cos 2\omega t) dt = \frac{1}{2} \left( \int_0^t 1 \cdot dt - \int_0^t \cos 2\omega t dt \right).$$

Тогда  $F(p) = \frac{1}{2} \left( \frac{1}{p^2} - \frac{p}{p^2 + 4\omega^2} \right)$ .

Упражнения.

1.  $f(t) = \int_0^t \sin \tau d\tau$ .    2.  $f(t) = \int_0^t (\tau + 1) \cos \omega \tau d\tau$ .

3.  $f(t) = \int_0^t \tau \text{sh } 2\tau d\tau$ .    4.  $f(t) = \int_0^t \cos^2 \omega \tau d\tau$ .

5.  $f(t) = \int_0^t \text{ch } \omega \tau d\tau$ .    6.  $f(t) = \int_0^t \tau^2 e^{-\tau} d\tau$ .

Ответы: 1.  $\frac{1}{p(p^2+1)}$ . 2.  $\frac{p^3+p^2+p\omega^2-\omega^2}{p(p^2+\omega^2)^2}$ . 3.  $\frac{4}{(p^2-4)^2}$ .  
 4.  $\frac{p^2+2\omega^2}{p^2(p^2+4\omega^2)}$ . 5.  $\frac{1}{p^2-\omega^2}$ . 6.  $\frac{2}{p(p+1)^3}$ .

### 6. Дифференцирование изображения

Если  $f(t) \Leftrightarrow F(p)$ , то  $F'(p) \Leftrightarrow -tf(t)$ .

Следствие. Используя это свойство легко получить следующие соотношения:  $t^2 f(t) \Leftrightarrow F''(p)$ ;  $-t^3 f(t) \Leftrightarrow F'''(p)$ ;  
 ...  $(-1)^n t^n f(t) \Leftrightarrow F^{(n)}(p)$ .

В частности, если  $f(t) = \eta(t)$ , то  $(-1)^n t^n \Leftrightarrow \left(\frac{1}{p}\right)^{(n)} = \frac{(-1)^n n!}{p^{n+1}}$ .

Таким образом,  $t^n \Leftrightarrow \frac{n!}{p^{n+1}}$ .

Пример 3. Найти изображение функций:

а)  $f(t) = te^{5t}$ ; б)  $f(t) = t^2 \sin 3t$ .

Решение. а) Так как изображение оригинала  $e^{5t} \Leftrightarrow \frac{1}{p-5}$ , то

$$-te^{5t} \Leftrightarrow \left(\frac{1}{p-5}\right)' = -\frac{1}{(p-5)^2}. \text{ Или } te^{5t} \Leftrightarrow \frac{1}{(p-5)^2}.$$

б) Имеем  $\sin 3t \Leftrightarrow \frac{3}{p^2+9}$ . Тогда по следствию

$$\begin{aligned} t^2 \sin 3t &\Leftrightarrow \left(\frac{3}{p^2+9}\right)'' = -\left(\frac{6p}{(p^2+9)^2}\right)' = \frac{-6((p^2+9)^2 - 2(p^2+9) \cdot 2p^2)}{(p^2+9)^4} = \\ &= \frac{-6(p^2+9-4p^2)}{(p^2+9)^3} = \frac{18(p^2-3)}{(p^2+9)^3}. \end{aligned}$$

**Упражнения.** Найти изображения следующих функций:

1.  $f(t) = t^2 \cos t$ . 2.  $f(t) = t(e^t + \operatorname{ch} t)$ . 3.  $f(t) = (t+1) \sin 2t$ .

4.  $f(t) = t \operatorname{sh} 3t$ .

Ответы: 1.  $\frac{2p^3 - 6p}{(p^2 + 1)^3}$ . 2.  $\frac{2(p^2 + p + 1)}{(p^2 - 1)^2}$ . 3.  $\frac{2p^2 + 4p + 8}{(p^2 + 4)^2}$ .

4.  $\frac{6p}{(p^2 - 1)^2}$ .

### 7. Интегрирование изображения.

Если  $f(t) \Leftrightarrow F(p)$  и  $\frac{f(t)}{t}$  является оригиналом, то имеет

место соотношение  $\frac{f(t)}{t} \Leftrightarrow \int_p^\infty F(p) dp$ .

Пример 1. Найти изображение функции  $\frac{\operatorname{sh} t}{t}$ .

Решение. Известно, что  $\operatorname{sh} t \Leftrightarrow \frac{1}{p^2 - 1}$ . Тогда

$$\frac{\operatorname{sh} t}{t} \Leftrightarrow \int_p^\infty \frac{dp}{p^2 - 1} = \lim_{b \rightarrow +\infty} \int_p^b \frac{dp}{p^2 - 1} = \lim_{b \rightarrow +\infty} \frac{1}{2} \ln \left| \frac{p-1}{p+1} \right| \Big|_p^b = \frac{1}{2} \ln \left| \frac{p+1}{p-1} \right|.$$

Таким образом,  $\frac{\operatorname{sh} t}{t} \Leftrightarrow \frac{1}{2} \ln \left| \frac{p+1}{p-1} \right|$ .

Пример 2. Найти изображения функций:

1.  $Si(t) = \int_0^t \frac{\sin \tau}{\tau} d\tau$  (интегральный синус)

2.  $\operatorname{sh} i(t) = \int_0^t \frac{\operatorname{sh} u}{u} du$  (интегральный гиперболический синус).

Решение.

1. Из соотношения  $\sin t \Leftrightarrow \frac{1}{p^2 + 1}$ , по теореме интегрирования

изображения, имеем  $\frac{\sin t}{t} \Leftrightarrow \int_p^\infty \frac{dp}{p^2+1} = \operatorname{arctg} p \Big|_p^\infty = \operatorname{arctg} \frac{1}{p}$ . От-

сюда, по теореме интегрирования оригинала, получим

$$Si(t) = \int_0^t \frac{\sin \tau}{\tau} d\tau \Leftrightarrow \frac{1}{p} \operatorname{arctg} \frac{1}{p}.$$

2. Имеем  $i \operatorname{sh} i(t) = Si(it) \Leftrightarrow \frac{1}{p} \operatorname{arctg} \frac{i}{p} = \frac{i}{p} \operatorname{Arth} \frac{1}{p}$  или

$$\operatorname{sh} i(t) \Leftrightarrow \frac{1}{2} \ln \frac{p+1}{p-1}.$$

Упражнения. Найти изображения следующих функций:

1.  $\frac{e^t - 1}{t}$ . 2.  $\frac{e^t - 1}{t}$ . 3.  $\frac{\sin^2 t}{t}$ . 4.  $\frac{1 - \cos t}{t}$ . 5.  $\frac{\cos t - \cos 2t}{t}$ .
6.  $\frac{e^t - 1 - t}{t}$ . 7.  $\frac{e^t - e^{-t}}{t}$ .

Ответы: 1.  $\ln \frac{p}{p-1}$ . 2.  $\ln \frac{p+1}{p}$ . 3.  $\frac{1}{2} \ln \frac{\sqrt{p^2+4}}{p}$ .

$$4. \ln \frac{\sqrt{p^2+1}}{p}. 5. \frac{1}{2} \ln \frac{p^2+4}{p^2+1}. 6. \ln \frac{p}{p-1} - \frac{1}{p}. 7. \ln \frac{p+1}{p-1}.$$

## 8. Свертка функций. Свойства свертки. Изображение свертки.

1) Пусть  $f_1(t)$  и  $f_2(t)$  - непрерывные функции на  $[0, \infty)$ .

Определение. Сверткой функций  $f_1(t)$  и  $f_2(t)$ ,  $t \in [0, \infty)$  называется функция от  $t$  обозначаемая  $f_1(t) * f_2(t)$  и определяемая

интегралом вида  $\int_0^t f_1(\tau) f_2(t-\tau) d\tau$ , то есть

$$f_1(t) * f_2(t) = \int_0^t f_1(\tau) f_2(t-\tau) d\tau.$$

Пример. Найти свертку функций  $f_1(t) = t, f_2(t) = \sin 3t$ .

Решение.

$$f_1(t) * f_2(t) = \int_0^t \tau \sin 3(t - \tau) d\tau =$$

$$= \left| \begin{array}{l} \tau = u \quad du = d\tau \\ \sin 3(t - \tau) d\tau = dv \quad v = \frac{1}{3} \cos 3(t - \tau) \end{array} \right| = \frac{\tau}{3} \cos 3(t - \tau) \Big|_0^t -$$

$$- \frac{1}{3} \int_0^t \cos 3(t - \tau) d\tau = \frac{t}{3} - \frac{1}{9} \sin 3t.$$

2) Свойства свертки.

а) Коммутативность.

Выражение для свертки функций не зависит от порядка, в котором берутся эти функции, то есть  $f_1(t) * f_2(t) = f_2(t) * f_1(t)$

$$\text{или } \int_0^t f_1(\tau) f_2(t - \tau) d\tau = \int_0^t f_2(\tau) f_1(t - \tau) d\tau.$$

б) Ассоциативность:  $(f_1 * f_2) * f_3 = f_1 * (f_2 * f_3)$ .

в) Рефлексивность:  $(f_1 + f_2) * f_3 = f_1 * f_3 + f_2 * f_3$ .

г) Если  $f_1(t)$  и  $f_2(t)$  - оригиналы, то их свертка  $f_1 * f_2$  - тоже оригинал.

Пример. Для оригиналов  $f_1(t) = t, f_2(t) = e^{2t}$  проверить свойство коммутативности свертки.

Решение. Найдем

$$f_1(t) * f_2(t) = \int_0^t \tau e^{2(t-\tau)} d\tau = \left| \begin{array}{l} \tau = u \quad du = d\tau \\ e^{2\tau} d\tau = dv \quad v = \frac{e^{-2\tau}}{-2} \end{array} \right| = \left( \tau \frac{e^{-2\tau}}{-2} \right) \Big|_0^t +$$

$$+ \frac{1}{2} \int_0^t e^{-2\tau} d\tau e^{2t} = e^{2t} \left( \frac{te^{-2t}}{-2} - \frac{1}{4} (e^{-2t} - 1) \right) = -\frac{t}{2} + \frac{1}{4} e^{2t} - \frac{1}{4}.$$

Аналогично

$$f_2(t) * f_1(t) = \int_0^t (t-\tau)e^{2\tau} d\tau = t \int_0^t e^{2\tau} d\tau - \int_0^t \tau e^{2\tau} d\tau = \frac{t}{2} e^{2\tau} \Big|_0^t - \left( \frac{\tau e^{2\tau}}{2} \Big|_0^t - \frac{1}{2} \int_0^t e^{2\tau} d\tau \right) = \frac{te^{2t}}{2} - \frac{t}{2} - \frac{te^{2t}}{2} + \frac{1}{4} e^{2t} \Big|_0^t = -\frac{t}{2} + \frac{1}{4} e^{2t} - \frac{1}{4}.$$

Таким образом,  $f_1(t) * f_2(t) = f_2(t) * f_1(t)$ .

3) Теорема Э.Бореля (теорема умножения изображений).

Если  $f_1(t) \Leftrightarrow F_1(p)$  и  $f_2(t) \Leftrightarrow F_2(p)$ , то свертке функций  $f_1(t) * f_2(t)$  соответствует произведение изображений.

$f_1(t) * f_2(t) \Leftrightarrow F_1(p) \cdot F_2(p)$ ,  $\text{Re } p > \max(s_0', s_0'')$ , где  $s_0', s_0''$  - показатели роста оригиналов  $f_1(t)$  и  $f_2(t)$ .

Пример. Найти изображение свертки следующих оригиналов:

а)  $f_1(t) = t^2, f_2(t) = \cos 2t$ ; б)  $f_1(t) = t, f_2(t) = e^t \sin t$ ;

в)  $\int_0^t \tau e^{t-\tau} \sin(t-\tau) d\tau$ .

Решение. а) Так как  $t^2 \Leftrightarrow \frac{2}{p^3}$ ;  $\cos 2t \Leftrightarrow \frac{p}{p^2+4}$ , то

$$f_1 * f_2 \Leftrightarrow \frac{2}{p^3} \cdot \frac{p}{p^2+4}.$$

б) Аналогично,  $t \Leftrightarrow \frac{1}{p^2}$ ;  $e^t \sin t \Leftrightarrow \frac{1}{(p-1)^2+1}$ , поэтому

$$f_1(t) * f_2(t) \Leftrightarrow \frac{1}{p^2(p^2-2p+2)}.$$

в) Данный интеграл можно рассматривать как свертку оригиналов  $f_1(t) = t$  и  $f_2(t) = e^t \sin t$ . Известно, что

$$t \Leftrightarrow \frac{1}{p^2}; e^t \sin t \Leftrightarrow \frac{1}{(p-1)^2+1}, \text{ и, следовательно,}$$

$$\int_0^t \tau e^{t-\tau} \sin(t-\tau) d\tau \Leftrightarrow \frac{1}{p^2(p^2 - 2p + 2)}.$$

### 9. Интеграл Дюамеля

Пусть  $f_1(t)$  и  $f_2(t)$  - оригиналы, непрерывные и дифференцируемые на  $[0, \infty)$ ,  $f_1'(t), f_2'(t)$  являются оригиналами. Тогда, если  $f_1(t) \Leftrightarrow F_1(p)$  и  $f_2(t) \Leftrightarrow F_2(p)$ , то

$$f_1(t) \cdot f_2(0) + \int_0^t f_1(\tau) f_2'(t-\tau) d\tau \Leftrightarrow pF_1(p) \cdot F_2(p).$$

Эта формула называется формулой Дюамеля и применяется для решения дифференциальных уравнений с постоянными коэффициентами. Интеграл, стоящий слева называется интегралом Дюамеля. В силу свойства коммутативности свертки формула Дюамеля может быть записана также в виде

$$f_2(t) \cdot f_1(0) + \int_0^t f_2(\tau) f_1'(t-\tau) d\tau \Leftrightarrow pF_1(p) \cdot F_2(p);$$

$$f_1(t) \cdot f_2(0) + \int_0^t f_1(t-\tau) f_2'(\tau) d\tau \Leftrightarrow pF_1(p) \cdot F_2(p);$$

$$f_2(t) \cdot f_1(0) + \int_0^t f_2(t-\tau) f_1'(\tau) d\tau \Leftrightarrow pF_1(p) \cdot F_2(p).$$

Пример 1.  $f(t) = 1 + \sin 3t - 2 \cos 4t + 3e^{-2t}$ . Найти  $F(p)$ .

Решение. Используя теорему линейности и формулы соответствия, получим:

$$F(p) = \frac{1}{p} + \frac{3}{p^2 + 9} - 2 \cdot \frac{p}{p^2 + 16} + \frac{3}{p + 2}.$$

Пример 2.  $f(t) = e^{-t} \cdot \sin 2t \cdot \sin 4t$ . Найти  $F(p)$ .

Решение.  $\sin 2t \cdot \sin 4t = \frac{1}{2} (\cos 2t - \cos 4t)$ .

Используя теорему линейности, теорему затухания и формулы соответствия, получим:

$$F p = \frac{1}{2} \cdot \frac{p+1}{p^2+4} - \frac{1}{2} \cdot \frac{p+1}{p^2+16}.$$

Пример 3.  $f t = \frac{\sin 4t}{t}$ . Найти  $F p$ .

Решение.  $\sin 4t \Leftrightarrow \frac{4}{p^2+16}$ .

Используя теорему об интегрировании изображения, находим:

$$\begin{aligned} \frac{\sin 4t}{t} &\Leftrightarrow \int_p^\infty \frac{4}{p^2+16} dp = \lim_{N \rightarrow \infty} \int_p^N \frac{4}{p^2+16} dp = \lim_{N \rightarrow \infty} \operatorname{arctg} \frac{p}{4} \Big|_p^N = \\ &= \frac{\pi}{2} - \operatorname{arctg} \frac{p}{4} = \operatorname{arctg} \frac{p}{4}. \end{aligned}$$

Пример 4.  $f t = t^2 \cdot \cos t$ . Найти  $F p$ .

Решение.  $\cos t \Leftrightarrow \frac{p}{p^2+1}$ . Используя теорему о дифференцировании изображения, находим:

$$\begin{aligned} t^2 \cdot \cos t &\Leftrightarrow -1^2 \cdot \left( \frac{p}{p^2+1} \right)'' = \left( \frac{p^2+1-2p \cdot p}{p^2+1^2} \right)' = \left( \frac{1-p^2}{1+p^2} \right)' = \\ &= \frac{-2p \cdot 1 + p^2 \cdot 2}{p^2+1^4} = \frac{2p^3-6p}{p^2+1^3}. \end{aligned}$$

Если функция  $f t$  задана разными выражениями на разных промежутках, то ее надо предварительно представить в виде  $\sum_{k=1}^n f_k t - \tau_k \eta t - \eta_k$ , а затем воспользоваться теоремой запаздывания.

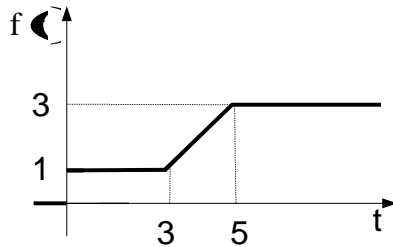


Пример 5. Найти изображение функции

$$f(t) = \begin{cases} 1, & 0 \leq t \leq 1 \\ 0, & t < 0, t > 1. \end{cases}$$

Решение. Представим  $f(t)$  в виде  $f(t) = \eta(t) - \eta(t-1)$ . Имеем  $\eta(t) \Leftrightarrow \frac{1}{p}$ ;  $\eta(t-1) \Leftrightarrow \frac{e^{-p}}{p}$ . Используя свойство линейности, получим  $f(t) \Leftrightarrow \frac{1}{p} - \frac{e^{-p}}{p}$ .

Пример 6. Найти  $F(p)$ , если оригинал  $f(t)$  задан графиком:



Решение.

$$\text{В аналитической форме } f(t) = \begin{cases} 0, & t < 0, \\ 1, & 0 \leq t < 3, \\ t-2, & 3 \leq t < 5, \\ 3, & t \geq 5. \end{cases}$$

Заметим, что на интервале  $[3,5)$  уравнение прямой найдено по формуле

$$\frac{t-t_1}{t_2-t_1} = \frac{f(t)-f(t_1)}{f(t_2)-f(t_1)} \Rightarrow \frac{t-3}{5-3} = \frac{f(t)-1}{3-1} \Rightarrow f(t) = t-2.$$

Имеем

$$\begin{aligned}
 f(t) &= \eta(t-3) - \eta(t-5) + (t-2)\eta(t-3) - \eta(t-5) + \\
 &+ 3\eta(t-5) = \eta(t) + \eta(t-3) - \eta(t-5) \Leftrightarrow \\
 &\Leftrightarrow \frac{1}{p} + e^{-3p} \frac{1}{p^2} - e^{-5p} \frac{1}{p^2};
 \end{aligned}$$

### 7.3. ФОРМУЛЫ ОБРАЩЕНИЯ ЛАПЛАСА

Формула, позволяющая по известному изображению  $F(p)$  определить ее оригинал  $f(t)$ , называется **формулой обращения**. Общий способ нахождения оригинала по данному изображению дают следующие теоремы:

#### 1. Теорема обращения. Теорема единственности.

Если  $f(t)$  - оригинал, а  $F(p)$  - его изображение, то во всех точках непрерывности оригинала имеет место соотношение

$$f(t) = \frac{1}{2\pi i} \int_{s-i\infty}^{s+i\infty} F(p) e^{pt} dp. \quad (7.2)$$

Здесь интегрирование производится по любой бесконечной прямой  $\operatorname{Re} p = s > s_0$ , лежащей в полуплоскости абсолютной сходимости интеграла Лапласа от функции  $f(t)$ ,  $s_0$  - показатель роста оригинала (рис.27). Формула (7.2) носит название **формулы Римана-Меллина**

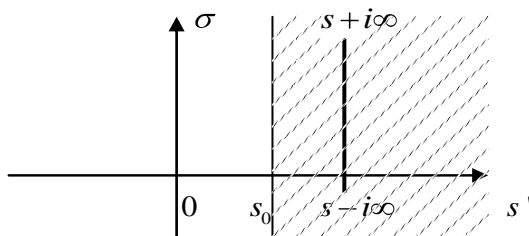


Рис.27.

**Теорема единственности.** Если два оригинала  $f_1(t)$  и  $f_2(t)$  имеют одно изображение  $F(p)$ , то функции  $f_1(t)$  и

$f_2(t)$  совпадают во всех точках непрерывности.

Замечание. Непосредственное применение формулы обращения часто затруднительно, и обычно применяют теоремы разложения, являющиеся следствиями из нее.

### 2. Обобщенная теорема разложения.

Если  $F(p)$ - изображение, то его оригинал может быть найден по формуле  $f(t) = \sum_{k=1}^n \operatorname{res}_{p=p_k} F(p)e^{pt}$ , где  $p_k$  - особые точки функции  $F(p)$ .

### 3. Нахождение оригинала для дробно-рационального изображения.

При нахождении оригинала для изображения, являющегося правильной рациональной дробью вида  $F(p) = \frac{A(p)}{B(p)}$ , где  $A(p)$  и  $B(p)$  - полиномы, можно пользоваться теоремами:

**Теорема 1.** Если изображение является правильной рациональной дробью, то есть  $F(p) = \frac{A(p)}{B(p)}$ , где  $B(p)$  имеет

только простые корни  $p_1, p_2, \dots, p_n$ , то оригинал находится по формуле:

$$f(t) = \sum_{k=1}^n \frac{A(p_k)}{B'(p_k)} e^{p_k t}. \quad (7.3)$$

**Теорема 2.** Если изображение есть правильная рациональная дробь, то есть  $F(p) = \frac{A(p)}{B(p)}$ , где  $B(p)$  имеет корни

$p_1, p_2, \dots, p_n$  кратности  $r_1, r_2, \dots, r_n$ , то оригинал находится по формуле:

$$f(t) = \sum_{k=1}^n \frac{1}{(r_k - 1)!} \lim_{p \rightarrow p_k} \frac{d^{r_k-1}}{dp^{r_k-1}} ((p - p_k)^{r_k} \frac{A(p)}{B(p)} e^{pt}). \quad (7.4)$$

Пример 1. Найти оригинал для изображения

$$F(p) = \frac{p^2}{(p^2 + 4)(p - 3)}.$$

Решение. Знаменатель дроби  $(p^2 + 4)(p - 3)$  имеет простые корни  $p_1 = 3, p_2 = 2i, p_3 = -2i$ . Тогда по формуле (3), учитывая, что  $((p^2 + 4)(p - 3))' = 3p^2 - 6p + 4$ , получим

$$\begin{aligned} f(t) &= \frac{9e^{3t}}{13} + \frac{(2i)^2 e^{2it}}{3(2i)^2 - 6(2i) + 4} + \frac{(-2i)^2 e^{-2it}}{3(-2i)^2 - 6(-2i) + 4} = \\ &= \frac{9}{13} e^{3t} + \frac{e^{2it}}{2 + 3i} + \frac{e^{-2it}}{2 - 3i} = \frac{9}{13} e^{3t} + \frac{1}{13} ((2 - 3i)e^{2it} + (2 + 3i)e^{-2it}) = \\ &= \frac{9}{13} e^{3t} + \frac{1}{13} (4 \cos 2t + 6 \sin 2t). \end{aligned}$$

Замечание. Если функция  $F(p)$  имеет комплексно-сопряженные полюсы  $p = \alpha \pm i\beta$ , то легко показать, что и вычеты функции в этих точках будут комплексно-сопряженными, поэтому их сумма равна удвоенной действительной части, то есть

$$\operatorname{res}_{p=\alpha+i\beta} F(p) + \operatorname{res}_{p=\alpha-i\beta} F(p) = 2 \operatorname{Re} \operatorname{res}_{p=\alpha+i\beta} F(p) = 2 \operatorname{Re} \operatorname{res}_{p=\alpha-i\beta} F(p).$$

С учетом последнего замечания получаем:

$$f(t) = \frac{9}{13} e^{3t} + 2 \operatorname{Re} \left( \frac{e^{2it}}{2 + 3i} \right) = \frac{9}{13} e^{3t} + \frac{2}{13} (2 \cos 2t + 3 \sin 2t).$$

Пример 2. Найти оригинал для изображения

$$F(p) = \frac{1}{(p + 2)^3 (p + 1)^2}.$$

Решение. Корни знаменателя  $p_1 = -2$  кратности  $r_1 = 3$ ,  $p_2 = -1$  кратности  $r_2 = 2$ . Тогда по формуле (4)

$$f(t) = \operatorname{res}_{p=-2} F(p) e^{pt} + \operatorname{res}_{p=-1} F(p) e^{pt},$$

$$\begin{aligned} \text{где } \operatorname{res}_{p=-2} F(p)e^{pt} &= \frac{1}{2!} \lim_{p \rightarrow -2} \frac{d^2}{dp^2} \left( (p+2)^3 \frac{e^{pt}}{(p+2)^3 (p+1)^2} \right) = \\ &= \frac{1}{2} \lim_{p \rightarrow -2} \left( \frac{t^2 e^{pt}}{(p+1)^2} - \frac{4te^{pt}}{(p+1)^3} + \frac{6e^{pt}}{(p+1)^4} \right) = \frac{1}{2} e^{-2t} (t^2 + 4t + 6). \end{aligned}$$

$$\begin{aligned} \operatorname{res}_{p=-1} F(p)e^{pt} &= \frac{1}{1!} \lim_{p \rightarrow -1} \frac{d}{dp} \left( (p+1)^2 \frac{e^{pt}}{(p+2)^3 (p+1)^2} \right) = \\ &= \lim_{p \rightarrow -1} \left( \frac{te^{pt}}{(p+2)^3} - \frac{3e^{pt}}{(p+2)^4} \right) = e^{-t} (t - 3). \end{aligned}$$

$$f(t) = \frac{1}{2} e^{-2t} (t^2 + 4t + 6) + e^{-t} (t - 3).$$

#### 4) Элементарный метод

Во многих случаях заданное изображение можно преобразовать к такому виду, когда оригинал легко восстановить непосредственно с помощью свойств преобразования Лапласа и таблицы изображений. Для преобразования изображения в этом случае применяют метод разложения рациональной дроби в сумму простейших дробей.

Пример 1. Найти оригинал для изображения  $F(p) = e^{-2p} \frac{p}{p^2 + 1}$ .

Решение. Применяя теорему запаздывания, получим  $f(t) = \begin{cases} \cos(t-2) & \text{при } t \geq 2; \\ 0 & \text{при } t < 2. \end{cases}$

Пример 2. Найти оригинал для изображения  $F(p) = \frac{3}{p(p^2 - 9)}$ .

Решение. Так как  $\operatorname{sh} 3t \Leftrightarrow \frac{3}{p^2 - 9}$ , то применяя теорему об

интегрировании оригинала, получим:

$$\frac{3}{p(p^2 - 9)} \Leftrightarrow \int_0^t \text{sh } 3t dt = \frac{\text{ch } 3t}{3} \Big|_0^t = \frac{1}{3}(\text{ch } 3t - 1).$$

Пример 3. Найти оригинал для изображения  
 $F(p) = \frac{p}{(p^2 + 4)^2}.$

Решение. Можно заметить, что  $F(p) = -\frac{1}{2} \left( \frac{1}{p^2 + 4} \right)'$ , и, следовательно, по свойству дифференцирования изображения имеем  $\frac{p}{(p^2 + 4)^2} \Leftrightarrow \frac{1}{4} t \sin 2t.$

Пример 4.  $F(p) = \frac{4p + 5}{(p - 2)^2 (p + 2)}.$  Найти оригинал.

Решение. Функция  $F(p)$  имеет два полюса:  $p_1 = 2$  – второй кратности и  $p_2 = -2$  – простой полюс. По теореме разложения находим:

$$f(t) = \text{Res} \left[ F(p) e^{pt}; p_1 \right] + \text{Res} \left[ F(p) e^{pt}; p_2 \right].$$

Находим

вычеты:

$$\begin{aligned} \text{Res} \left[ F(p) e^{pt}; p_1 \right] &= \frac{1}{1!} \lim_{p \rightarrow 2} \frac{d}{dp} \left( \frac{4p + 5}{p + 2} e^{pt} \right) = \\ &= \lim_{p \rightarrow 2} \frac{4e^{pt} + 4p + 5 t e^{pt}}{(p + 2)^2} = \frac{3}{16} e^{2t} + \frac{13}{4} t e^{2t}. \end{aligned}$$

$$\text{Res} \left[ F(p) e^{pt}; p_2 \right] = \lim_{p \rightarrow -2} \frac{4p + 5}{p - 2} e^{pt} = \frac{-3e^{-2t}}{16}.$$

$$f(t) = \frac{3}{16}e^{2t} + \frac{13}{4}te^{2t} - \frac{3}{16}e^{-2t} = \frac{13}{4}te^{2t} + \frac{3}{8}sh2t.$$

Если все полюсы  $F(p)$  простые, то формула \* принимает вид

$$F(p) = \frac{A(p)}{B(p)} \Leftrightarrow \sum_{k=1}^L \frac{A(p_k)}{B'(p_k)} e^{p_k t} = f(t),$$

где сумма берется по всем корням  $B(p)$ .

Пример 5.  $F(p) = \frac{1}{(p-1)(p-2)^2}$ . Найти  $f(t)$ .

Решение. Разложим дробь  $\frac{1}{(p-1)(p-2)^2}$  на простейшие

дроби:

$$\frac{1}{(p-1)(p-2)^2} = \frac{A}{p-1} + \frac{B}{p-2} + \frac{C}{(p-2)^2},$$

$$1 = A(p-2)^2 + B(p-1)(p-2) + C(p-1).$$

Полагая  $p=1$ , имеем  $A=1$ ,  
 $p=2$ , имеем  $C=1$ ,  
 $p=0$ , имеем  $1=4+2B-1$ ,  $B=-1$ .

$$F(p) = \frac{1}{p-1} - \frac{1}{p-2} + \frac{1}{(p-2)^2}.$$

Используя теорему линейности и формулы соответствия, получим:

$$f(t) = e^t - e^{2t} + te^{2t}.$$

При нахождении  $f(t)$  по  $F(p)$  иногда целесообразно использовать теорему о произведении изображений (теорему о свертке).

Пример 6. Найти оригинал по изображению

$$F(p) = \frac{1}{p^2(p^2 + 4)}.$$

Решение. 1 способ. Известно, что

$$\frac{1}{p^2} \Leftrightarrow t; \frac{1}{p^2 + 4} \Leftrightarrow \frac{1}{2} \sin 2t. \text{ Тогда по теореме Бореля име-}$$

$$\text{ем: } \frac{1}{2} t * \sin 2t \Leftrightarrow \frac{1}{p^2(p^2 + 4)}. \text{ Найдем свертку}$$

$$\frac{1}{2} t * \sin 2t = \frac{1}{2} \int_0^t \tau \sin 2(t - \tau) d\tau = \frac{1}{2} \left( \tau \frac{\cos 2(t - \tau)}{2} \Big|_0^t - \right.$$

$$\left. - \frac{1}{2} \int_0^t \cos 2(t - \tau) d\tau \right) = \frac{1}{4} t + \frac{1}{8} \sin 2(t - \tau) \Big|_0^t = \frac{1}{4} t - \frac{1}{8} \sin 2t.$$

$$\text{Таким образом, } \frac{1}{p^2(p^2 + 4)} \Leftrightarrow \frac{1}{4} t - \frac{1}{8} \sin 2t.$$

2 способ. Разлагаем  $F(p)$  на сумму простейших дробей:

$$\frac{1}{p^2(p^2 + 4)} = \frac{A}{p} + \frac{B}{p^2} + \frac{Cp + D}{p^2 + 4};$$

$$Ap(p^2 + 4) + B(p^2 + 4)(Cp + D)p^2 = 1. \text{ Отсюда}$$

$$A = C = 0; B = \frac{1}{4}; D = -\frac{1}{4}. \text{ Тогда}$$

$$F(p) = \frac{1}{4p^2} - \frac{1}{4(p^2 + 4)} \Leftrightarrow \frac{1}{4} t - \frac{1}{8} \sin 2t.$$

Пример 7. Найти оригинал для изображения

$$F(p) = \frac{1}{p^2 + 2p + 5}.$$

Решение. Выделим в знаменателе полный квадрат и воспользуемся теоремой смещения:



$$\frac{1}{p^2 + 2p + 5} = \frac{1}{(p+1)^2 + 4} = \frac{1}{2} \frac{2}{(p+1)^2 + 4} \Leftrightarrow \frac{1}{2} e^{-t} \sin 2t.$$

Пример 8. Найти оригинал для изображения

$$F(p) = \frac{p+3}{p^2 - 4p + 13}.$$

Решение. Выделим в знаменателе полный квадрат и воспользуемся теоремой сдвига:

$$\frac{p+3}{p^2 - 4p + 13} = \frac{p-2+5}{(p-2)^2 + 9} = \frac{p-2}{(p-2)^2 + 9} + \frac{5}{3} \frac{3}{(p-2)^2 + 9} \Leftrightarrow e^{2t} \cos 3t + \frac{5}{3} e^{2t} \sin 3t.$$

Пример 9. Найти оригинал для изображения

$$F(p) = \frac{e^{-3p}}{(p+4)^3}.$$

Решение. Найдем вначале оригинал для дроби  $\frac{1}{(p+4)^3}$ .

Известно, что  $\frac{1}{p^3} \Leftrightarrow \frac{t^2}{2!}$ . Используя теорему сдвига, имеем

$$\frac{1}{(p+4)^3} \Leftrightarrow \frac{t^2}{2} e^{-4t}. \text{ Умножение изображения на}$$

$e^{-3p}$  соответствует запаздыванию оригинала, поэтому

$$\frac{e^{-3p}}{(p+4)^3} \Leftrightarrow \frac{(t-3)^2}{2} e^{-4(t-3)} \eta(t-3).$$

В некоторых случаях удобно использовать формулу Дюамеля.

Пример 10.  $F(p) = \frac{p^3}{p^2 + 4} \cdot \frac{1}{p^2 + 9}$ . Найти  $f(t)$ .

Решение.  $\frac{p^3}{p^2 + 4} \cdot \frac{p^3}{p^2 + 9} = p \cdot \frac{p}{p^2 + 4} \cdot \frac{p}{p^2 + 9};$

$$\frac{p}{p^2 + 4} \Leftrightarrow \cos 2t; \quad \frac{p}{p^2 + 9} \Leftrightarrow \cos 3t.$$

По формуле Дюамеля имеем:

$$p \cdot \frac{p}{p^2 + 4} \cdot \frac{p}{p^2 + 9} \Leftrightarrow \cos 2t \cdot \cos 0 + \int_0^t \cos 2\tau \cdot -3 \sin 3(t - \tau) d\tau =$$

$$= \cos 2t - \frac{3}{2} \int_0^t \sin 3t - \tau + \sin 3t - 5\tau d\tau =$$

$$= \cos 2t - \frac{3}{2} \left( \cos 3t - \tau + \frac{1}{5} \cos 3t - 5\tau \right) \Big|_0^t =$$

$$= \cos 2t - \frac{3}{2} \cos 2t + \frac{3}{2} \cos 3t - \frac{3}{10} \cos 2t + \frac{3}{10} \cos 3t =$$

$$= -\frac{4}{5} \cos 2t + \frac{9}{5} \cos 3t.$$

Можно находить  $f(t)$  по  $F(p)$ , используя теорию вычетов (теорему разложения, которая выводится из (1)). А именно: если  $F(p)$  – правильная рациональная дробь, то

$$f(t) = \sum_{k=1}^m \operatorname{Res} [F(p) e^{pt}; p_k],$$

где  $p_k$  – полюсы функции  $F(p)$ .

В приложениях, главным образом электротехнических, важнее разновидность предыдущей формулы, когда

$$F(p) = \frac{A p}{pB p}, \text{ где степень } A p \text{ не превосходит степени}$$

$B p$  и  $B p$  имеет простые корни, отличные от нуля. Тогда

$$\frac{A p}{pB p} \Leftrightarrow \frac{A 0}{B 0} + \sum_{k=1}^L \frac{A p_k}{p_k B' p_k} e^{p_k t}.$$

**Упражнения.** Найти оригиналы для данных функций  $F(p)$ :

$$1. \frac{p+1}{p^2(p-1)(p+2)}. \quad 2. \frac{p^2+1}{p(p+1)(p+2)(p+3)}.$$

$$3. \frac{1}{(p-1)^2(p-2)^3}. \quad 4. \frac{1}{(p+1)^3(p+3)}.$$

$$5. \frac{1}{p^3(p+1)^4}. \quad 6. \frac{1}{(p+2)^3(p-1)^2}.$$

$$7. \frac{a^4}{p(p^2+a^2)^2}. \quad 8. \frac{1}{(p-2)^2(p+3)}.$$

$$9. \frac{5p+3}{(p-1)(p^2+2p+5)}. \quad 10. \frac{1}{(p+3)^3(p+1)}.$$

Ответы: 1.  $-\frac{3}{4} - \frac{1}{2}t + \frac{2}{3}e^t + \frac{1}{12}e^{-2t}$ . 2.  $\frac{1}{6} - e^{-t} + \frac{5}{2}e^{-2t} - \frac{5}{3}e^{-3t}$ .

$$3. \frac{1}{2}(t^2 e^{2t} - 4t e^{2t} + 6e^{2t} - 2t e^t - 6e^t). \quad 4. \frac{1}{8}((2t^2 - 2t + 1)e^{-t} - e^{-3t}).$$

$$5. \frac{t^2}{2} - 4t + 10 - e^{-t} \left( \frac{t^3}{6} + \frac{3}{2}t^2 + 6t + 10 \right).$$

$$6. \frac{e^t}{27}(t-1) + \frac{e^{-2t}}{18} \left( t^2 + \frac{4}{3}t + \frac{2}{3} \right). \quad 7. 1 - \cos at - \frac{at}{2} \sin at.$$

$$8. \frac{1}{25}(e^{-3t} + (5t-1)e^{2t}). \quad 9. e^t - e^{-t}(\cos 2t - \frac{3}{2}\sin 2t).$$

$$10. \frac{1}{8}(e^{-t} - e^{-3t}(2t^2 + 2t + 1)).$$

## 7.4. ПРИМЕНЕНИЕ ПРЕОБРАЗОВАНИЯ ЛАПЛАСА

### 1. Решение дифференциальных уравнений и систем дифференциальных уравнений с постоянными коэффициентами

Рассмотрим применение правил и теорем операционного исчисления к решению линейных дифференциальных уравнений с постоянными коэффициентами и их систем

Пусть дано дифференциальное уравнение  $n$ -го порядка с постоянными коэффициентами

$$a_n x^{(n)}(t) + \dots + a_1 x'(t) + a_0 x(t) = f(t). \quad (7.5)$$

Требуется найти решение уравнения для  $t \geq 0$  при начальных условиях

$$x(0) = x_0; x'(0) = x_0', \dots, x^{(n-1)}(0) = x_0^{(n-1)}. \quad (7.6)$$

Предполагаем, что искомое решение  $x(t)$ , его производные и правая часть  $f(t)$  дифференциального уравнения являются оригиналами.

Схема решения дифференциального уравнения.

1. Заменяем искомую функцию, ее производные, входящие в данное дифференциальное уравнение и правую часть их изображениями. В результате получается так называемое операторное уравнение.

2. Решаем операторное уравнение относительно изображения искомой функции.

3. Переходим от изображения искомой функции к оригиналу.

Схема решения систем дифференциальных уравнений такая же.

Пример 1. Найти решение дифференциального уравнения  $x'' + x' - 12x = 3$ , если  $x(0) = 1, x'(0) = 0$ .

Решение. Пусть  $x(t) \Leftrightarrow X(p)$ , тогда

$$x'(t) \Leftrightarrow pX(p) - x(0) = pX(p) - 1;$$

$$x''(t) \Leftrightarrow p^2 X(p) - px(0) - x'(0) = p^2 X(p) - p; \quad 3 = \frac{3}{p}.$$

Переходя в уравнении от оригиналов к изображениям, получим операторное уравнение

$$p^2 X(p) - p + pX(p) - 1 - 12X(p) = \frac{3}{p}.$$

Отсюда  $X(p) = \frac{3 + p + p^2}{p^3 + p^2 - 12p} = \frac{3 + p + p^2}{p(p-3)(p+4)} = \frac{A(p)}{B(p)}$ . Так

как корни знаменателя  $B(p)$  различны, то

$$x(t) = \frac{A(0)}{B'(0)} e^{0t} + \frac{A(-4)}{B'(-4)} e^{-4t} + \frac{A(3)}{B'(3)} e^{3t} = -\frac{1}{4} + \frac{15}{28} e^{-4t} + \frac{5}{7} e^{3t}.$$

Ответ:  $x(t) = -\frac{1}{4} + \frac{15}{28} e^{-4t} + \frac{5}{7} e^{3t}$ .

Пример 2. Найти частное решение дифференциального уравнения  $x'' - 3x' + 2x = 2e^{3t}$ ,  $x(0) = x'(0) = 0$ .

Решение. Пусть

$$x(t) \Leftrightarrow X(p); \quad x'(t) \Leftrightarrow pX(p) - x(0) = pX(p);$$

$$x''(t) \Leftrightarrow p^2 X(p) - px(0) - x'(0) = p^2 X(p); \quad e^{3t} \Leftrightarrow \frac{1}{p-3}.$$

Запишем операторное уравнение:

$$p^2 X(p) + 3pX(p) + 2X(p) = \frac{2}{p-3}.$$

Откуда

$$\begin{aligned} X(p) &= \frac{p}{p-3} \frac{2}{p^2 - 3p + 2} = \frac{p}{p-3} \frac{p}{p-2} \frac{1}{p-1} = \\ &= \frac{1}{p-1} - \frac{2}{p-2} + \frac{1}{p-3}. \end{aligned}$$

Используя теорему линейности и формулы соответствия, имеем:

$$x'' + 4x' + 4x = e^t - 2e^{2t} + e^{3t}.$$

Пример 3. Найти решение дифференциального уравнения  $x'' + 4x' + 4x = e^{-2t}(\cos t + 2\sin t)$ , если  $x(0) = -1, x'(0) = 1$ .

Решение. Пусть  $x(t) \Leftrightarrow X(p)$ , тогда

$$x'(t) \Leftrightarrow pX(p) - x(0) = pX(p) + 1;$$

$$x''(t) \Leftrightarrow p^2X(p) - px(0) - x'(0) = p^2X(p) + p - 1;$$

$$\cos t + 2\sin t \Leftrightarrow \frac{p}{p^2 + 1} + 2\frac{1}{p^2 + 1} = \frac{p + 2}{p^2 + 1}, \text{ и по теореме смеще-}$$

$$\text{ния } e^{-2t}(\cos t + 2\sin t) \Leftrightarrow \frac{p + 4}{(p + 2)^2 + 1}.$$

Переходя в уравнении от оригиналов к изображениям, получим операторное уравнение

$$p^2X(p) + p - 1 + 4pX(p) + 4 + 4X(p) = \frac{p + 4}{(p + 2)^2 + 1}.$$

Отсюда  $X(p) = -\frac{p^3 + 7p^2 + 16p + 11}{((p + 2)^2 + 1)(p + 2)^2}$ . Разложим изображение

$X(p)$  на элементарные дроби. Имеем

$$-\frac{p^3 + 7p^2 + 16p + 11}{((p + 2)^2 + 1)(p + 2)^2} = \frac{Ap + B}{(p + 2)^2 + 1} + \frac{C}{(p + 2)^2} + \frac{D}{p + 2},$$

$$\text{или } -p^3 - 7p^2 - 16p - 11 = (Ap + B)(p + 2)^2 + C((p + 2)^2 + 1) + D(p + 2)((p + 2)^2 + 1).$$

Сравнивая коэффициенты при одинаковых степенях  $p$ , находим  $A = -1, B = -4, C = 1, D = 0$ .

Тогда  $X(p) = -\frac{p + 4}{(p + 2)^2 + 1} + \frac{1}{(p + 2)^2}$ . Перейдя к оригиналу,

пользуясь свойством линейности и теоремой смещения, получаем искомое решение  $x(t) = e^{-2t}(t - \cos t - 2 \sin t)$ .

Ответ:  $x(t) = e^{-2t}(t - \cos t - 2 \sin t)$ .

Пример 4. Найти частное решение дифференциального уравнения  $x'' + 4x' + 4x = t^3 e^{-2t}$ ,  $x(0) = 1$ ,  $x'(0) = 2$ .

Решение.

$$x(t) \Leftrightarrow X(p); \quad x'(t) \Leftrightarrow pX(p) - x(0) = pX(p) - 1;$$

$$x''(t) \Leftrightarrow p^2 X(p) - px'(0) - x''(0) = p^2 X(p) - p - 2;$$

$$t^3 e^{-2t} \Leftrightarrow \frac{3!}{(p+2)^4};$$

$$p^2 X(p) - p - 2 + 4pX(p) - 4 + 4X(p) = \frac{3!}{(p+2)^4};$$

$$X(p) (p^2 + 4p + 4) = \frac{3!}{(p+2)^4} + p + 2 + 4;$$

$$X(p) = \frac{3!}{(p+2)^6} + \frac{1}{p+2} + \frac{4}{(p+2)^2}.$$

Используя формулы соответствия и теорему линейности, имеем:

$$x(t) = \frac{1}{20} t^5 e^{-2t} + e^{-2t} + 4te^{-2t}.$$

Пример 5. Найти решение системы дифференциальных уравнений

$$\begin{cases} x'' + 5y' - 4x = 0, \\ y'' - 5x' - 4y = 0, \end{cases}$$

удовлетворяющее начальным условиям :

$$x(0) = 0; x'(0) = 1; y(0) = 0; y'(0) = 0.$$

Решение. Пусть  $x(t) \Leftrightarrow X(p)$ ,  $y(t) \Leftrightarrow Y(p)$ , тогда

$$x'(t) \Leftrightarrow pX(p); y'(t) \Leftrightarrow pY(p); x''(t) \Leftrightarrow p^2 X(p) - 1; y''(t) \Leftrightarrow p^2 Y(p).$$

Преобразованная система имеет вид:

$$\begin{cases} (p^2 - 4)X(p) + 5pY(p) = 1, \\ -5pX(p) + (p^2 - 4)Y(p) = 0. \end{cases}$$

Определим  $X(p), Y(p)$ :

$$X(p) = \frac{p^2 - 4}{(p^2 + 16)(p^2 + 1)}; Y(p) = \frac{5p}{(p^2 + 16)(p^2 + 1)}.$$

Найдем по  $X(p)$  и  $Y(p)$  оригиналы  $x(t)$  и  $y(t)$ . Пусть

$$A(p) = p^2 - 4; B(p) = p^4 + 17p^2 + 16; p_{1,2} = \mp 4i, p_{3,4} = \mp i,$$

$B'(p) = 4p^3 + 34p$ . Тогда

$$\begin{aligned} x(t) &= \frac{A(4i)}{B'(4i)} e^{4it} + \frac{A(-4i)}{B'(-4i)} e^{-4it} + \frac{A(i)}{B'(i)} e^{it} + \frac{A(-i)}{B'(-i)} e^{-it} = \\ &= 2 \operatorname{Re}\left(-\frac{i}{6} e^{4it}\right) + 2 \operatorname{Re}\left(\frac{i}{6} e^{it}\right) = 2 \operatorname{Re}\left(-\frac{i}{6} (\cos 4t + i \sin 4t)\right) + \\ &+ 2 \operatorname{Re}\left(\frac{i}{6} (\cos t + i \sin t)\right) = \frac{1}{3} (\sin 4t - \sin t). \end{aligned}$$

$$Y(p) = \frac{5p}{(p^2 + 16)(p^2 + 1)}; A(p) = 5p; B(p) = p^4 + 17p^2 + 16.$$

$$\begin{aligned} y(t) &= 2 \operatorname{Re}\left(-\frac{1}{6} e^{4it}\right) + 2 \operatorname{Re}\left(\frac{1}{6} e^{it}\right) = -\frac{1}{3} \operatorname{Re}(\cos 4t + i \sin 4t) + \\ &+ \frac{1}{3} \operatorname{Re}(\cos t + i \sin t) = \frac{1}{3} (\cos t - \cos 4t) \end{aligned}$$

$$\text{Ответ: } x(t) = \frac{1}{3} (\sin 4t - \sin t); y(t) = \frac{1}{3} (\cos t - \cos 4t).$$

Пример 6. Решить систему

$$\begin{cases} \frac{dx}{dt} = 2y - x, & x(0) = 1, \\ \frac{dy}{dt} = -x - 4y, & y(0) = 1. \end{cases}$$



Решение. Пусть  $x(t) \Leftrightarrow X(p)$ ,  $y(t) \Leftrightarrow Y(p)$ , тогда

$$x'(t) \Leftrightarrow pX(p) - 1, \quad y'(t) \Leftrightarrow pY(p) - 1.$$

Система операторных уравнений имеет вид

$$\begin{cases} p+1 X(p) - 2Y(p) = 1, \\ X(p) + p+4 Y(p) = 1 \end{cases} \text{ и является СЛАУ.}$$

Решим ее по формуле Крамера:

$$\Delta = \begin{vmatrix} p+1 & -2 \\ 1 & p+4 \end{vmatrix} = p^2 + p + 4p + 4 + 2 = p^2 - 5p + 6.$$

$$\Delta_x = \begin{vmatrix} 1 & -2 \\ 1 & p+4 \end{vmatrix} = p + 4 + 2 = p + 6.$$

$$\Delta_y = \begin{vmatrix} p+1 & 1 \\ 1 & 1 \end{vmatrix} = p + 1 - 1 = p.$$

$$X(p) = \frac{p+6}{p^2 - 5p + 6} = \frac{p+6}{p+2} \cdot \frac{1}{p+3};$$

$$Y(p) = \frac{p}{p+2} \cdot \frac{1}{p+3}.$$

Раскладывая на простейшие дроби, имеем:

$$X(p) = \frac{4}{p+2} - \frac{3}{p+3}; \quad Y(p) = \frac{3}{p+3} - \frac{2}{p+2}.$$

Используя теорему линейности и таблицу соответствия, получаем:

$$x(t) = 4e^{-2t} - 3e^{-3t}, \quad y(t) = 3e^{-3t} - 2e^{-2t}.$$

### Упражнения.

Решить следующие дифференциальные уравнения при заданных начальных условиях:

1.  $x'' + 3x' = e^t; x(0) = 0; x'(0) = -1.$

ОТВЕТ:  $\frac{1}{4}e^t + \frac{5}{12}e^{-3t} - \frac{2}{3}$ .

2.  $x'' - 2x' = 2e^{2t}; x(0) = x'(0) = 0$ .

ОТВЕТ:  $\frac{1}{4}(1 - e^{2t} + 2te^{2t})$ .

3.  $4x'' + 12x' + 9x = 144e^{-\frac{3}{2}t}; x(0) = 1, x'(0) = 0, 5$ .

ОТВЕТ:  $e^{-\frac{3}{2}t}(18t^2 + 2t + 1)$ .

4.  $x'' - 2x' = e^t(t^2 + t - 3); x(0) = 2, x'(0) = 2$ .

ОТВЕТ:  $e^t(e^t - t^2 - t + 1)$ .

5.  $x'' + 4x' + 3x = \operatorname{sh} t \sin t; x(0) = 0, x'(0) = 1$ .

ОТВЕТ:

$$-\frac{79}{170}e^{-3t} + 0,3e^{-t} - \frac{3}{85}e^t \cos t + \frac{7}{170}e^t \sin t + 0,2e^{-t} \cos t + 0,1e^{-t} \sin t.$$

6.  $x'' + 2x' + x = e^{-t}(\cos t + t); x(0) = 1, x'(0) = -1$ .

ОТВЕТ:  $2e^{-t} + \frac{1}{6}e^{-t}t^3 - e^{-t} \cos t$ .

7.  $x'' + 6x' + 8x = 2e^{-t}(\cos 3t + 1); x(0) = 2, x'(0) = 1$ .

ОТВЕТ:  $-\frac{25}{12}e^{-4t} + \frac{69}{20}e^{-2t} + \frac{2}{3}e^{-t} - \frac{1}{30}e^{-t} \cos 3t + \frac{1}{15}e^{-t} \sin 3t$ .

8.  $x'' + 2x' + 2x = 2e^{-t} \sin t; x(0) = x'(0) = 1$ .

ОТВЕТ:  $e^{-t}(3 \sin t + (1-t) \cos t)$ .

9.  $x''' - 3x' + 2x = 8te^{-t}; x(0) = x'(0) = 0; x''(0) = 1$ .

ОТВЕТ:  $2te^{-t} + te^t - e^t + e^{-2t}$ .

10.  $x''' - x'' + 4x' - 4x = 5e^{-t} \sin t; x(0) = 0; x'(0) = 0; x''(0) = 1$ .

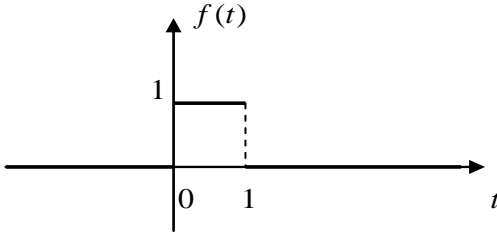
ОТВЕТ:  $\frac{13}{20} \sin 2te - \frac{1}{5} \cos 2t + e^t(\frac{5}{6} - \cos t - \frac{1}{2} \sin t)$ .

11.  $x''' + 2x'' + x' + 2e^{-2t} = 0; x(0) = 2; x'(0) = x''(0) = 1$ .

Ответ:  $4 - 3e^{-t} + e^{-2t}$ .

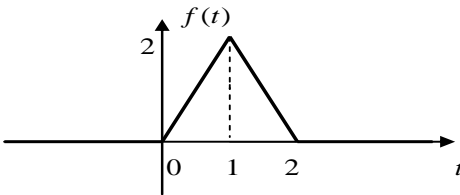
Найти частные решения дифференциальных уравнений с кусочно-непрерывными правыми частями:

12.  $x'' + 2x' + 5x = f(t); x(0) = 1; x'(0) = 0$ .



Ответ:  $0,4e^{-t}(2 \cos 2t + \sin 2t) + 0,2 + 0,04((2 \cos 2(t-1) - 1,5 \sin 2(t-1))e^{-(t-1)} + 5(t-1) - 2)\eta(t-1)$ .

13.  $x'' + 4x = f(t); x(0) = x'(0) = 0$ .



Ответ:  $\frac{1}{2}(t - \frac{1}{2} \sin 2t)\eta(t) - ((t-1) - \frac{1}{2} \sin 2(t-1))\eta(t-1) + \frac{1}{2}((t-2) - \frac{1}{2} \sin 2(t-2))\eta(t-2)$ .

14.  $x'' + 4x' + 4x = 2e^{-t}(1 - \eta(t-1)); x(0) = 1; x'(0) = 0$ .

Ответ:  $e^{-2t} + 2e^{-t} - 2\eta(t-1)(e^{-t} - te^{-2t-1})$ .

15.  $x'' + 4x = \sin t(1 - \eta(t - \pi)); x(0) = 0; x'(0) = 1$ .

Ответ:  $\frac{1}{3} \sin 2t + \frac{1}{3} \sin t + \eta(t - \pi)(\frac{1}{3} \sin t + \frac{1}{6} \sin 2t)$ .

16.  $x'' + x = f(t); x(0) = x'(0) = 0$ .

$$f(t) = \begin{cases} 2, & 0 < t < 1, \\ 4, & t > 1, \\ 0, & t < 0. \end{cases}$$

Ответ:  $(2 - \cos t)\eta(t) + (2 - 2\cos(t-1))\eta(t-1)$ .

17.  $x'' + 9x = f(t); x(0) = 0; x'(0) = 1$ .

$$f(t) = \begin{cases} t-1, & 1 < t < 2, \\ -t+3, & 2 < t < 3, \\ 0, & t < 0, t > 3. \end{cases}$$

Ответ:  $\frac{1}{3} \sin 3t\eta(t) + \frac{1}{9}((t-1) - \frac{1}{3} \sin 3(t-1))\eta(t-1) -$   
 $-\frac{2}{9}((t-2) - \frac{1}{3} \sin 3(t-2))\eta(t-2) + \frac{1}{9}((t-3) - \frac{1}{3} \sin 3(t-3))\eta(t-3)$ .

Решить системы уравнений:

18.  $\begin{cases} x' + y = 0, \\ y' + x = 0; \end{cases} \quad x(0) = 1; y(0) = -1$ .

Ответ:  $x(t) = e^t; y(t) = -e^t$ .

19.  $\begin{cases} x + x' = y + e^t, \\ y + y' = x + e^t; \end{cases} \quad x(0) = y(0) = 1$ .

Ответ:  $x(t) = e^t; y(t) = e^t$ .

20.  $\begin{cases} x'' - y' - 2x + 2y = 1 - 2t, \\ x'' + 2y' + x = 0; \end{cases} \quad x(0) = y(0) = x'(0) = 0$ .

Ответ:  $x(t) = 2(1 - e^{-t} - te^{-t}), y(t) = 2 - t - 2e^{-t} - 2te^{-t}$ .

21.  $\begin{cases} x'' - 3x' + 2x + y' - y = 0, \\ -x' + x + y'' - 5y' + 4y = 0; \end{cases} \quad x(0) = x'(0) = y'(0) = 0; y(0) = 1$ .

Ответ:  $x(t) = \frac{1}{4}(e^t - e^{3t} + 2te^{3t}); y(t) = \frac{1}{4}(5e^t - e^{3t} - 2te^{3t})$ .

$$22. \begin{cases} x' + 2x + y = \sin t, \\ y' - 4x - 2y = \cos t; \end{cases} \quad x(0) = 0; y(0) = 1.$$

ОТВЕТ:  $x(t) = 2 \sin t - 3t, y(t) = 6t + 3 - 2 \cos t - 3 \sin t.$

$$23. \begin{cases} 2x'' - x' + 9x - y'' - y' - 3y = 0, & x(0) = x'(0) = 1, \\ 2x'' + x' + 7x - y'' + y' - 5y = 0; & y(0) = y'(0) = 0. \end{cases}$$

$$x(t) = \frac{1}{3}(e^t + 2 \cos 2t + \sin 2t);$$

ОТВЕТ:

$$y(t) = \frac{1}{3}(2e^t - 2 \cos 2t - \sin 2t).$$

$$24. \begin{cases} x' + 2x + 4y = \frac{1}{2} \sin 2t, \\ y'' - x - 3y = -t; \end{cases} \quad x(0) = y(0) = x'(0) = 0; y'(0) = 1.$$

$$x(t) = -2t - \frac{7}{36} \sin 2t + \frac{28}{9} \sin t - \frac{13\sqrt{2}}{36} \operatorname{sh} \sqrt{2}t;$$

ОТВЕТ:

$$y(t) = t + \frac{1}{36} \sin 2t - \frac{7}{9} \sin t + \frac{13\sqrt{2}}{36} \operatorname{sh} \sqrt{2}t.$$

$$25. \begin{cases} x' - x + 2y = 0, \\ x'' - 2y' = 2t - \cos 2t; \end{cases}$$

$$x(0) = 0; y(0) = \frac{1}{2}; x'(0) = -1; y'(0) = 0.$$

$$x(t) = -6 - 4t - t^2 + \frac{100}{17} e^{\frac{t}{2}} + \frac{2}{17} \cos 2t + \frac{1}{34} \sin 2t;$$

ОТВЕТ:

$$y(t) = -1 - t - \frac{t^2}{2} + \frac{25}{17} e^{\frac{t}{2}} + \frac{1}{34} \cos 2t + \frac{9}{68} \sin 2t.$$

## 2. Применение формулы Дюамеля для решения дифференциальных уравнений с постоянными коэффициентами.

При решении дифференциальных уравнений иногда удобно использовать формулу Дюамеля. В этом случае не требуется находить изображение правой части.

Пусть требуется найти частное решение дифференциального уравнения

$$L[x] = f(t) ; x(0) = x'(0) = \dots = x^{(n-1)}(0) = 0, \quad (7.7)$$

где  $L[x] = x^{(n)} + a_1 x^{(n-1)} + a_2 x^{(n-2)} + \dots + a_{n-1} x' + a_n x$ .

Рассмотрим вспомогательную задачу

$$L[x] = 1, x(0) = x'(0) = \dots = x^{(n-1)}(0) = 0. \quad (7.8)$$

Если  $x_1(t)$  - решение задачи (7.8), то при помощи интеграла Дюамеля можно найти решение  $x(t)$  задачи (7.7) с любой правой частью  $f(t)$  и нулевыми начальными условиями:

$$x(t) = \int_0^t f(\tau) x_1'(t-\tau) d\tau \text{ или } x(t) = \int_0^t x_1(\tau) f'(t-\tau) d\tau. \quad (7.9)$$

Замечание. Задачу с ненулевыми начальными условиями заменой искомой функции всегда можно свести к задаче с нулевыми начальными условиями.

Пример 1. Найти решение уравнения  $x'' - x = \frac{1}{1+e^t}$ ,

удовлетворяющее начальным условиям  $x(0) = x'(0) = 0$ .

Решение. Найдем решение  $x_1(t)$  задачи

$x_1'' - x_1 = 1, x_1(0) = x_1'(0) = 0$ . Составим операторное уравнение

$$p^2 X_1(p) - X_1(p) = \frac{1}{p}. \text{ Отсюда } pX_1(p) = \frac{1}{p^2 - 1}, \text{ поэтому}$$

$x_1'(t) = \text{sh } t$ . По формуле (9) получим:

$$x(t) = \int_0^t \frac{1}{1+e^\tau} \text{sh}(t-\tau) d\tau = \int_0^t \frac{e^{t-\tau} - e^{-t+\tau}}{2(1+e^\tau)} d\tau = \frac{e^t}{2} \int_0^t \frac{e^{-\tau}}{1+e^\tau} d\tau -$$

$$\begin{aligned}
& -\frac{e^{-t}}{2} \int_0^t \frac{d(e^\tau + 1)}{1 + e^\tau} = -\frac{e^{-t}}{2} \ln \frac{e^t + 1}{2} - \frac{e^t}{2} \int_0^t \frac{e^{-\tau} de^{-\tau}}{e^{-\tau} + 1} = -\frac{e^{-t}}{2} \ln \frac{e^t + 1}{2} + \\
& -\frac{e^t}{2} (e^t - 1) + \frac{e^t}{2} \int_0^t \frac{d(e^{-\tau} + 1)}{e^{-\tau} + 1} = -\frac{e^{-t}}{2} \ln \frac{e^t + 1}{2} - \frac{1}{2} + \frac{e^t}{2} + \frac{e^t}{2} \ln \frac{e^{-t} + 1}{2} = \\
& = \operatorname{sh} t \ln \frac{e^t + 1}{2} + \frac{1}{2} [-te^t + e^t - 1].
\end{aligned}$$

Пример 2. Решить дифференциальное уравнение с нулевыми начальными условиями, т.е.  $y(0) = 0$ ,  $y'(0) = 0$ .

$$y'' + 2y' + y = \frac{e^{-t}}{1+t^2}.$$

Решение. Решаем сначала уравнение  $y'' + 2y' + y = 1$  операционным методом:

$$y(t) \Leftrightarrow Y(p); \quad y'(t) \Leftrightarrow pY(p); \quad y''(t) \Leftrightarrow p^2Y(p); \quad \frac{1}{p} \Leftrightarrow 1;$$

$$p^2Y(p) + 2pY(p) + Y(p) = \frac{1}{p};$$

$$Y(p) = \frac{1}{p(p+1)^2} \text{ разложим на простейшие дроби:}$$

$$\frac{1}{p(p+1)^2} = \frac{A}{p} + \frac{B}{p+1} + \frac{C}{(p+1)^2};$$

$$1 = A(p+1)^2 + Bp(p+1) + Cp;$$

$$p=0, \quad A=1;$$

$$p=-1, \quad C=-1;$$

$$p=1, \quad 1=4+2B-1, \quad B=-1.$$

$$Y(p) = \frac{1}{p} - \frac{1}{p+1} - \frac{1}{(p+1)^2}.$$

Используя теорему линейности и формулы соответствия, получим:

$$y_1 t = 1 - e^{-t} - te^{-t}, \quad y_1' t = e^{-t} - e^{-t} + te^{-t} = te^{-t}.$$

Применяя формулу Дюамеля, имеем:

$$\begin{aligned} y t &= \int_0^t t - \tau e^{-t+\tau} \cdot \frac{e^{-\tau}}{1+\tau^2} d\tau = e^{-t} \cdot \int_0^t \frac{t-\tau}{1+\tau^2} d\tau = \\ &= e^{-t} \cdot t \int_0^t \frac{d\tau}{1+\tau^2} - e^{-t} \int_0^t \frac{\tau}{1+\tau^2} d\tau = e^{-t} \cdot t \cdot \arctg \tau \Big|_0^t - \frac{1}{2} e^{-t} \cdot \ln |1+\tau^2| \Big|_0^t = \\ &= e^{-t} \cdot t \cdot \arctg t - \frac{1}{2} e^{-t} \ln |1+t^2|. \end{aligned}$$

Таким образом, решением данного уравнения будет функция  $y t = e^{-t} t \arctg t - \frac{1}{2} e^{-t} \ln |1+t^2|$ .

**Упражнения.** С помощью интеграла Дюамеля найти решения уравнений, удовлетворяющие заданным начальным условиям:

$$29. x'' - x' = \frac{e^{2t}}{(1+e^t)^2}; \quad x(0) = x'(0) = 0.$$

$$\text{Ответ: } \frac{1}{2}(e^t - 1) - \ln \frac{1+e^t}{2}.$$

$$30. x'' + 2x' + x = \frac{e^{-t}}{1+t}; \quad x(0) = x'(0) = 0.$$

$$\text{Ответ: } e^{-t}((t+1)\ln(t+1) - t).$$

$$31. x'' - x' = \frac{e^{2t}}{2+e^t}; \quad x(0) = x'(0) = 0.$$

$$\text{Ответ: } (e^t + 2) \ln \frac{2+e^t}{3} - e^t + 1.$$



$$32. x'' - x' = \frac{1}{1 + e^t}; x(0) = x'(0) = 0.$$

$$\text{Ответ: } e^t - 1 - (t + \ln 2)(e^t + 1) + (e^t + 1) \ln(e^t + 1).$$

$$33. x'' - x = \frac{1}{3 + e^t}; x(0) = x'(0) = 0.$$

$$\text{Ответ: } \frac{1}{3}(e^t - 1) - \frac{t}{9}e^t + \frac{1}{9}e^t \ln \frac{e^t + 3}{4}.$$

$$34. x'' + x = \frac{1}{1 + \cos^2 t}; x(0) = x'(0) = 0.$$

$$\text{Ответ: } \cos t \operatorname{arctg}(\cos t) - \frac{\pi}{4} \cos t - \frac{1}{2\sqrt{2}} \sin t \ln \left| \frac{\sin t - \sqrt{2}}{\sin t + \sqrt{2}} \right|.$$

$$35. x'' - x = tht; x(0) = x'(0) = 0.$$

$$\text{Ответ: } -\operatorname{sh} t + 2 \operatorname{ch} t (\operatorname{arctg} e^t - \frac{\pi}{4}).$$

$$36. x''' + x' = \frac{1}{2 + \sin t}; x(0) = x'(0) = x''(0) = 0.$$

Ответ:

$$\ln 2 \cos t - \cos t \ln(2 + \sin t) - t \sin t + \frac{2}{\sqrt{3}} (2 \sin t + 1) (\operatorname{arctg} \frac{2 \operatorname{tg} \frac{t}{2} + 1}{\sqrt{3}} - \frac{\pi}{6}).$$

### 3. Применение преобразования Лапласа при расчете электрических цепей

Методы операционного исчисления широко используются при расчетах процессов, протекающих в электрических цепях.

Пусть  $i(t)$  и  $u(t)$ , соответственно, ток и напряжение в цепи. Применение операторного метода основано на справедливости законов Кирхгофа для операторного тока  $I(p) = i(t)$  и напряжения  $U(p) = u(t)$ . На основании закона Ома для основных элементов электрической цепи могут быть записаны следующие соотношения:

$$u_R(t) = Ri(t)$$

для сопротивления  $R$ ,

$$u_L(t) = L \frac{di(t)}{dt}$$

для индуктивности  $L$  и

$$u_C(t) = \frac{1}{C} \int_0^t i(\tau) d\tau + u_C(0)$$

для емкости  $C$ . Переходя к изображениям, отсюда получаем

$$U_R(p) = RI(p), U_L(p) = pLI(p) - Li(0),$$

$$U_C(p) = \frac{1}{pC} I(p) + \frac{1}{p} u_C(0).$$

Используя закон Ома в операторной форме, для произвольного участка цепи можем записать

$$U(p) = Z(p)I(p), \quad (7.10)$$

где  $Z(p)$  - операторное сопротивление указанного участка цепи. Для участков с сопротивлением  $R$ , индуктивностью  $L$  или емкостью  $C$  при нулевых начальных условиях операторное сопротивление имеет, соответственно вид:

$$Z_R(p) = R, Z_L(p) = Lp, Z_C(p) = \frac{1}{Cp}.$$

При ненулевых начальных условиях к имеющимся в цепи источникам э.д.с. добавляются дополнительные источники. Величины э.д.с. дополнительных источников определяются запасами энергии в индуктивности и емкости и равны в операторном виде, соответственно,  $Li(0)$  и  $-\frac{1}{p} u_C(0)$ .

Соотношение (7.10) является основным для расчетов заданного участка цепи в операторной форме.

Пример 1. Найти ток  $i(t)$  в цепи при подключении постоянной э.д.с.  $e(t) = E$ . Начальные условия нулевые.

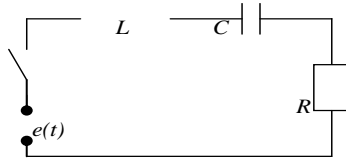


Рис. 28.

Решение. Так как  $e(t) = E = \frac{E}{p}$ , то, используя соотношение (7.10), находим:

$$Z(p)I(p) = E / p, \quad (7.11)$$

где операторное сопротивление  $Z(p)$  цепи имеет вид

$$Z(p) = Z_L(p) + Z_C(p) + Z_R(p) = Lp + \frac{1}{Cp} + R,$$

в силу нулевых начальных условий. Подставляя полученное выражение для  $Z(p)$  в (2), находим

$$I(p) = \frac{E}{pZ(p)} = \frac{E}{Lp^2 + Rp + \frac{1}{Cp}} = \frac{E}{L} \frac{1}{(p + \frac{R}{2L})^2 + (\frac{1}{LC} - \frac{R^2}{4L^2})}. \quad (7.12)$$

Для отыскания оригинала  $i(t)$  следует рассмотреть три случая в зависимости от вида корней квадратного трехчлена в правой части выражения (7/12)

Пусть  $\frac{1}{LC} > \frac{R^2}{4L^2}$ , тогда по таблице изображений находим

$$i(t) = \frac{E}{(\sqrt{\frac{1}{LC} - \frac{R^2}{4L^2}})L} e^{-\frac{R}{2L}t} \sin(\sqrt{\frac{1}{LC} - \frac{R^2}{4L^2}}t).$$

Пусть  $\frac{1}{LC} = \frac{R^2}{4L^2}$ , тогда по таблице изображений

находим  $i(t) = \frac{E}{L} t e^{-\frac{R}{2L}t}$ .

Если  $\frac{1}{LC} < \frac{R^2}{4L^2}$ , то находим

$$i(t) = \frac{E}{\left(\sqrt{\frac{R^2}{4L^2} - \frac{1}{LC}}\right)L} e^{-\frac{R}{2L}t} \operatorname{sh}\left(\sqrt{\frac{R^2}{4L^2} - \frac{1}{LC}}\right)t.$$

При расчете электрических цепей, когда воздействие на схему представляет собой функцию произвольного вида, полезно использовать интеграл Дюамеля. Сначала определяется переходная характеристика цепи - закон изменения напряжения или тока при подаче на вход системы единичного воздействия  $e(t) = \eta(t)$ . В этом случае, из соотношения (7.10) находим операторный ток  $I_1(p) = \frac{1}{p}Z(p)$ , где  $Z(p)$  операторное сопротивление всей цепи.

Если теперь на вход схемы подается произвольное  $e(t)$ , то операторный ток  $I(p)$  имеет вид

$$I(p) = \frac{U(p)}{Z(p)} = pI_1(p)U(p),$$

где  $U(p) = e(t)$ . Применяя формулу Дюамеля, окончательно находим:

$$\begin{aligned} i(t) &= e(0)i_1(t) + \int_0^t e'(\tau)i_1(t-\tau)d\tau = e(0)i_1(t) + \int_0^t e'(t-\tau)i_1(\tau)d\tau = \\ &= e(0)i_1(t) + e' * i_1. \end{aligned} \quad (7.13)$$

Пример 3. Найти ток в  $RL$ - цепи при подключении э.д.с.  $e(t) = e^{mt}$ .

Решение. Сначала определяем переходную характеристику цепи, в данном случае ток  $i_1(t)$ , возникающий в  $RL$ -цепи при

подключении э.д.с.  $e(t) = \eta(t)$ . Имеем  $i_1(t) = \frac{1}{R}(1 - e^{-\frac{R}{L}t})$ .

Для определения тока  $i(t)$  воспользуемся формулой (4). Предварительно вычислим второе слагаемое:

$$\begin{aligned}
 e' * i_1 &= \int_0^t e'(t-\tau) i_1(\tau) d\tau = \frac{\mu}{R} \int_0^t e^{\mu(t-\tau)} (1 - e^{-\frac{R}{L}\tau}) d\tau = \\
 &= \frac{\mu}{R} e^{\mu t} \int_0^t (e^{-\mu\tau} - e^{-\tau(\mu + \frac{R}{L})}) d\tau = \frac{\mu}{R} e^{\mu t} \left( -\frac{1}{\mu} e^{-\mu\tau} \Big|_0^t + \frac{1}{\mu + \frac{R}{L}} - \frac{1}{\mu} e^{-\tau(\mu + \frac{R}{L})} \Big|_0^t \right) = \\
 &= \frac{1}{L(\mu + \frac{R}{L})} (e^{\mu t} - e^{-\frac{R}{L}t}).
 \end{aligned}$$

Окончательно находим:

$$i(t) = e(0) i_1(t) + e' * i_1 = \frac{1}{R} (1 - e^{-\frac{R}{L}t}) + \frac{R/L}{\mu + \frac{R}{L}} (e^{\mu t} - e^{-\frac{R}{L}t}).$$

### Упражнения.

1. Найти ток  $i(t)$  в  $RC$ -цепи (последовательно включены сопротивление  $R$  и емкость  $C$ ) при подключении постоянной э.д.с.  $e(t) = E$ , если  $u_C(0) = u_0$ .

2. Найти ток  $i(t)$  в  $RL$ -цепи (последовательно включены сопротивление  $R$  и индуктивность  $L$ ) при подключении постоянной э.д.с.  $e(t) = E$ .

3. Найти ток  $i(t)$  в цепи, изображенной на рис.4, при подключении постоянной э.д.с.  $e(t) = E$ , если  $u_C(0) = u_0$ .

4. Найти ток в  $RL$ -цепи при включении синусоидальной э.д.с.  $e(t) = E \sin \omega t$ .

5. Найти ток в  $RC$ -цепи, в которую при нулевых начальных условиях подключена  $e(t) = Ete^{-\frac{1}{CR}t}$ .

Ответы:

$$1. \frac{E - u_0}{R} e^{-\frac{1}{CR}t} \quad 2. \frac{E}{R} (1 - e^{-\frac{R}{L}t}).$$

$$3. \frac{E - u_0}{\left(\sqrt{\frac{1}{LC} - \frac{R^2}{4L^2}}\right)L} e^{-\frac{R}{2L}t} \sin\left(\sqrt{\frac{1}{LC} - \frac{R^2}{4L^2}}t\right) \text{ при } \frac{1}{LC} > \frac{R^2}{4L^2};$$

$$\frac{E - u_0}{L} t e^{-\frac{R}{2L}t} \text{ при } \frac{1}{LC} = \frac{R^2}{4L^2};$$

$$\frac{E - u_0}{\left(\sqrt{\frac{R^2}{4L^2} - \frac{1}{LC}}\right)L} e^{-\frac{R}{2L}t} \operatorname{sh}\left(\sqrt{\frac{R^2}{4L^2} - \frac{1}{LC}}t\right) \text{ при } \frac{1}{LC} < \frac{R^2}{4L^2}.$$

$$4. \frac{E}{R^2 + L^2\omega^2} (L\omega e^{-\frac{R}{L}t} + R \sin \omega t - L\omega \cos \omega t).$$

$$5. \frac{E}{R} e^{-\frac{1}{CR}t} \left(t - \frac{t^2}{2}\right).$$

#### 4. Применение преобразования Лапласа при решении уравнений с частными производными

Операционный метод применим не только при решении обыкновенных дифференциальных уравнений, но и некоторых уравнений с частными производными, например, линейных уравнений с постоянными коэффициентами в случае, когда неизвестная функция зависит от двух переменных. С помощью преобразования Лапласа такое уравнение сводится к обыкновенному дифференциальному уравнению с параметром. Решая это уравнение и применяя к его решению обратное преобразование Лапласа по параметру, получаем решение исходной задачи.

Рассмотрим примеры.

Пример 1. Стержень длины  $l$  находится в состоянии покоя и один его конец закреплен, а к свободному концу приложена сила  $A \sin \omega t$  направленная по оси стержня. Найти продольные колебания стержня  $u(x, t)$  при заданных начальных и граничных условиях:

$$u(x, 0) = 0, \quad \frac{\partial u(x, 0)}{\partial t} = 0$$

$$u(0, t) = 0, \quad \frac{\partial u(l, t)}{\partial x} = \frac{A}{E} \sin \omega t, \quad (7.14)$$

где  $E$  – модуль упругости (по закону Гука сила, действующая вдоль стержня, равна  $A \sin \omega t = E \frac{\partial u}{\partial x}$ , поэтому

$$\left. \frac{\partial u}{\partial x} \right|_{x=l} = \frac{A}{E} \sin \omega t).$$

Уравнение колебания стержня имеет вид

$$\frac{\partial^2 u}{\partial t^2} = a^2 \frac{\partial^2 u}{\partial x^2}, \quad (7.15)$$

где  $a$  – коэффициент, зависящий от материала стержня. Имеем

$$u(x, t) \Leftrightarrow U(x, p); \quad \frac{\partial^2 u(x, t)}{\partial t^2} \Leftrightarrow p^2 U(x, p) - pu(x, 0) - \frac{\partial u(x, 0)}{\partial t},$$

или

$$\frac{\partial^2 u(x, t)}{\partial t^2} \Leftrightarrow p^2 U(x, p), \quad \text{и} \quad \frac{\partial^2 u(x, t)}{\partial x^2} \Leftrightarrow \frac{d^2 U(x, p)}{dx^2}.$$

Операторное уравнение, соответствующее уравнению (7.15) имеет вид

$$\frac{d^2 U(x, p)}{dx^2} - \frac{p^2}{a^2} U(x, p) = 0. \quad (7.16)$$

Из (7.14) получаем граничные условия для уравнения (7.16)

$$u(x, t)|_{x=0} = 0 \Leftrightarrow U(x, p)|_{x=0} = 0;$$

$$\left. \frac{\partial u}{\partial x} \right|_{x=l} = \frac{A}{E} \sin \omega t \Leftrightarrow \left. \frac{\partial U(x, p)}{\partial x} \right|_{x=l} = \frac{A}{E} \cdot \frac{\omega}{p^2 + \omega^2}. \quad (7.17)$$

Интегрируя уравнение (7.16), получаем

$$U(x, p) = \bar{c}_1 e^{-\frac{p}{a}x} + \bar{c}_2 e^{\frac{p}{a}x} \quad \text{или} \quad U(x, p) = c_1 \operatorname{ch} \frac{p}{a}x + c_2 \operatorname{sh} \frac{p}{a}x.$$

Пользуясь граничными условиями (7.17), определяем произвольные постоянные. Имеем  $c_1 = 0$  и

$$c_2 = \frac{Aa\omega}{E} \cdot \frac{1}{p(p^2 + \omega^2) \operatorname{ch} \frac{p}{a}l}.$$

Таким образом, операторное уравнение (7.16) имеет решение

$$U(x, p) = \frac{Aa\omega}{E} \cdot \frac{\operatorname{sh} \frac{x}{a}p}{p(p^2 + \omega^2) \operatorname{ch} \frac{l}{a}p}.$$

Обозначим  $A(p) = \operatorname{sh} \frac{x}{a}p$  и  $B(p) = p(p^2 + \omega^2) \operatorname{ch} \frac{l}{a}p$ .

Тогда  $U(x, p) = \frac{Aa\omega}{E} \cdot \frac{A(p)}{B(p)}$  и

$$B'(p) = (p^2 + \omega^2) \operatorname{ch} \frac{l}{a}p + 2p^2 \operatorname{ch} \frac{l}{a}p + \frac{l}{a}p(p^2 + \omega^2) \operatorname{sh} \frac{l}{a}p.$$

Решая уравнение  $B(p) = 0$  и принимая во внимание, что  $\operatorname{ch} \frac{l}{a}p = \cos i \frac{l}{a}p$ , находим нули функции  $B(p)$ . Имеем

$$p = 0, p_k = \pm i\omega_k, p = \pm i\omega, \quad \text{где} \quad \omega_k = \frac{\pi a}{l} \left(k - \frac{1}{2}\right) (k = 1, 2, \dots).$$

Функция  $U(x, p)$  имеет простые полюсы  $p = 0, p = \pm i\omega, p_k = \pm i\omega_k (k = 1, 2, \dots)$ , определяющиеся нулями функции  $B(p)$  (предполагаем, что условие резонанса отсутствует, то есть  $\omega_k \neq \omega$ ). Оригинал  $u(x, t)$  для изображения



$U(x, p)$  находим по теореме разложения. Имеем

$$u(x, t) = \frac{Aa\omega}{E} \left( \left. \left( \frac{A(p)}{B'(p)} e^{pt} \right) \right|_{p=0} + 2 \operatorname{Re} \left( \frac{A(i\omega)}{B'(i\omega)} e^{i\omega t} + \sum_{k=1}^{\infty} \frac{A(i\omega_k)}{B'(i\omega_k)} e^{i\omega_k t} \right) \right).$$

Подставляя в это равенство значения функций  $A(p)$  и  $B'(p)$  в полюсах, получаем

$$u(x, t) = \frac{Aa\omega}{E} 2 \operatorname{Re} \left( \frac{i \sin \frac{\omega}{a} x}{-2\omega^2 \cos \frac{\omega l}{a}} e^{i\omega t} + \sum_{k=1}^{\infty} \frac{i \sin \frac{\omega_k}{a} x e^{i\omega_k t}}{\frac{l}{a} i\omega_k (\omega^2 - \omega_k^2) i \sin \frac{l}{a} \omega_k} \right).$$

Таким образом, искомое решение имеет вид

$$u(x, t) = \frac{Aa\omega}{E} \left( \frac{\sin \frac{\omega}{a} x \sin \omega t}{\omega^2 \cos \frac{\omega l}{a}} + \frac{2a}{l} \sum_{k=1}^{\infty} (-1)^k \frac{\sin \frac{\omega_k}{a} x \sin \omega_k t}{(\omega_k^2 - \omega^2) \omega_k} \right),$$

где  $\omega_k = \frac{\pi a}{l} \left( k - \frac{1}{2} \right)$ ,  $k = 1, 2, \dots$

Пример 2. Найти решение уравнения, удовлетворяющее заданным условиям

$$\frac{\partial^2 u}{\partial x^2} - \frac{\partial u}{\partial y} + u = x, 0 < x < \infty, 0 < y < \infty, \quad (7.18)$$

$$u(0, y) = y, \quad (7.19)$$

$$\frac{\partial u(0, y)}{\partial x} = 0. \quad (7.20)$$

Решение. Предположим, что функция  $u(x, y)$  и ее частные производные являются оригиналами по переменной  $x$ . Применим к (7.18) преобразование Лапласа по  $x$  при каждом значении  $y$ . Учитывая, что  $u(x, y) \Leftrightarrow U(p, y)$ ,

$\frac{\partial^2 u(x, y)}{\partial x^2} \Leftrightarrow p^2 U(p, y) - pu, \frac{\partial u}{\partial y} \Leftrightarrow \frac{\partial U}{\partial y}, x \Leftrightarrow \frac{1}{p^2}$ , получим для функции  $U(p, y)$  обыкновенное дифференциальное уравнение с параметром  $p$ :

$$\frac{dU(p, y)}{dy} - (p^2 + 1)U(p, y) = -py - \frac{1}{p^2}, 0 < y < \infty. \quad (7.21)$$

Все условия задачи уже использованы. Но из всех решений уравнения (7.21) нам понадобится только такое, которое как функция параметра  $p$  является изображением по Лапласу. Найдем сначала общее решение уравнения (7.21). Для этого в данном случае можно снова применить преобразование Лапласа (то, что любое решение (7.21) является оригиналом, очевидно). Получим алгебраическое уравнение:

$$(q - (p^2 + 1))V(p, q) = -\frac{p}{q^2} - \frac{1}{p^2 q} + U(p, 0);$$

$$V(p, q) = \frac{-p - q/p^2}{q^2(q - (p^2 + 1))} + \frac{U(p, 0)}{q - (p^2 + 1)} = \quad (7.22)$$

$$= \left( \frac{p}{(p^2 + 1)^2} + \frac{1}{p^2(p^2 + 1)} \right) \frac{1}{q} + \frac{p}{(p^2 + 1)} \frac{1}{q^2} + \left( -\frac{p}{(p^2 + 1)^2} - \frac{1}{p^2(p^2 + 1)} + U(p, 0) \right) \cdot \frac{1}{q - (p^2 + 1)}.$$

До сих пор функция  $U(p, 0)$  была произвольной. Выберем теперь ее таким образом, чтобы выражение в последних скобках равнялось нулю. В противном случае функция  $U(p, y)$  будет содержать слагаемое  $e^{(p^2 + 1)y}$ , которое при  $y > 0$  не является изображением по Лапласу. Учитывая сказанное, получаем из (7.22)

$$U(p, y) = \frac{p}{(p^2+1)^2} + \frac{1}{p^2(p^2+1)} + \frac{p}{(p^2+1)} y = -\frac{1}{2} \left( \frac{1}{p^2+1} \right)' + \frac{1}{p^2} - \frac{1}{p^2+1} + \frac{p}{(p^2+1)} y.$$

Найдем оригинал по изображению, получим

$$u(x, y) = \frac{1}{2} x \sin x + x - \sin x + \cos x \cdot y.$$

Легко проверить, что полученная функция и в самом деле является решением задачи (7.18), (7.19), (7.20). Вопрос о единственности решения этой задачи остается открытым.

### Упражнения.

1. Найти решения волнового уравнения

$$\frac{\partial^2 u(x, t)}{\partial t^2} = a^2 \frac{\partial^2 u(x, t)}{\partial x^2}$$

при следующих граничных и начальных условиях ( $n$  - натуральное число):

а)  $u(0, t) = u(l, t) = 0, u(x, 0) = A \sin \frac{n\pi x}{l}, \frac{\partial u(x, 0)}{\partial t} = 0, 0 \leq x \leq l;$

б)  $u(0, t) = u(l, t) = 0, u(x, 0) = 0, \frac{\partial u(x, 0)}{\partial t} = B \sin \frac{n\pi x}{l}, 0 \leq x \leq l;$

в)  $u(0, t) = u(l, t) = 0, u(x, 0) = Ax(l-x), \frac{\partial u(x, 0)}{\partial t} = 0, 0 \leq x \leq l;$

г)  $\frac{\partial u(0, t)}{\partial x} = \frac{\partial u(l, t)}{\partial x} = 0, u(x, 0) = A \cos \frac{n\pi x}{l}, \frac{\partial u(x, 0)}{\partial t} = 0, 0 \leq x \leq l;$

д)  $\frac{\partial u(0, t)}{\partial x} = \frac{\partial u(l, t)}{\partial x} = 0, u(x, 0) = 0, \frac{\partial u(x, 0)}{\partial t} = B \cos \frac{n\pi x}{l}, 0 \leq x \leq l.$

2. Найти решение уравнения теплопроводности

$$\frac{\partial^2 u(x, t)}{\partial x^2} = a^2 \frac{\partial u(x, t)}{\partial t}$$

при следующих граничных и начальных условиях ( $n$  - натуральное число):

$$\text{а) } u(0, t) = u(l, t) = 0, u(x, 0) = A \sin \frac{n\pi x}{l}, 0 \leq x \leq l;$$

$$\text{б) } u(0, t) = A, u(l, t) = 0, u(x, 0) = \frac{A}{l}(l - x), 0 \leq x \leq l;$$

$$\text{в) } u(0, t) = 0, \frac{\partial u(l, t)}{\partial x} = 0, u(x, 0) = A \sin \frac{(2n-1)\pi x}{2l}, 0 \leq x \leq l;$$

$$\text{г) } u(0, t) = A, \lim_{x \rightarrow \infty} u(x, t) = 0, u(x, 0) = 0, x \geq 0;$$

$$\text{д) } \frac{\partial u(0, t)}{\partial x} = 0, u(l, t) = A, u(x, 0) = 0, 0 \leq x \leq l.$$

Ответы: 1.

$$\text{а) } U(x, p) = \frac{Ap}{p^2 + \frac{n^2 \pi^2 a^2}{l^2}} \sin \frac{n\pi x}{l}; u(x, t) = A \cos \frac{n\pi at}{l} \sin \frac{n\pi x}{l};$$

$$\text{б) } U(x, p) = \frac{B}{p^2 + \frac{n^2 \pi^2 a^2}{l^2}} \sin \frac{n\pi x}{l}; u(x, t) = \frac{Bl}{n\pi a} \sin \frac{n\pi at}{l} \sin \frac{n\pi x}{l};$$

$$\text{в) } U(x, p) = 2Aa^2 \left( \frac{e^{-\frac{p}{a}x} + e^{-\frac{p}{a}(l-x)}}{1 + e^{-\frac{p}{a}l}} - 1 \right) \frac{1}{p^3} + A \frac{x(l-x)}{p};$$

$$u(x, t) = A(x(l-x) - a^2 t^2 + \sum_{n=0}^{\infty} (-1)^n \eta(t - \frac{nl+x}{a})(t - \frac{nl+x}{a})^2 + \sum_{n=0}^{\infty} (-1)^{n-1} \eta(t - \frac{nl-x}{a})(t - \frac{nl-x}{a})^2).$$

$$\text{г) } U(x, p) = \frac{Ap}{p^2 + \frac{n^2 \pi^2 a^2}{l^2}} \cos \frac{n\pi x}{l}; u(x, t) = A \cos \frac{n\pi at}{l} \cos \frac{n\pi x}{l};$$

$$\text{д)} U(x, p) = \frac{B}{p^2 + \frac{n^2 \pi^2 a^2}{l^2}} \cos \frac{n\pi x}{l}; u(x, t) = \frac{Bl}{n\pi a} \sin \frac{n\pi at}{l} \cos \frac{n\pi x}{l}.$$

$$2. \text{а)} U(x, p) = \frac{A}{p^2 + \frac{n^2 \pi^2}{a^2 l^2}} \sin \frac{n\pi x}{l}; u(x, t) = A e^{-\frac{n^2 \pi^2}{a^2 l^2} t} \sin \frac{n\pi x}{l};$$

$$\text{б)} U(x, p) = \frac{A}{lp} (l-x); u(x, t) = \frac{A}{l} (l-x) \eta(t);$$

$$\text{в)} U(x, p) = \frac{A}{p + \frac{(2n-1)^2 \pi^2}{4a^2 l^2}} \sin \frac{(2n-1)\pi x}{2l};$$

$$u(x, t) = A e^{-\frac{(2n-1)^2 \pi^2}{4a^2 l^2} t} \sin \frac{(2n-1)\pi x}{2l};$$

$$\text{г)} U(x, p) = \frac{A}{p} e^{-a\sqrt{p}x}; u(x, t) = A \operatorname{Erf}\left(\frac{ax}{2\sqrt{t}}\right);$$

$$\text{д)} U(x, p) = \frac{A \operatorname{ch} a\sqrt{px}}{p \operatorname{ch} a\sqrt{pl}}; u(x, t) =$$

$$= A \left(1 + \frac{4}{\pi} \sum_{n=1}^{\infty} \frac{(-1)^n}{2n-1} e^{-\left(\frac{2n-1}{2}\right)^2 \frac{\pi^2}{a^2 l^2} t} \cos \frac{(2n-1)\pi}{2l} x\right)$$

**Таблица изображений основных функций**

№	$f(t)$	$F(p)$	№	$f(t)$	$F(p)$
1	$\eta(t)$	$\frac{1}{p}$	6	$\sin \beta t$	$\frac{\beta}{p^2 + \beta^2}$
2	$\frac{t^n}{n!}$	$\frac{1}{p^{n+1}}$	7	$\operatorname{ch} \beta t$	$\frac{p}{p^2 - \beta^2}$
3	$e^{\alpha t}$	$\frac{1}{p - \alpha}$	8	$\operatorname{sh} \beta t$	$\frac{\beta}{p^2 - \beta^2}$
4	$\frac{t^n}{n!} e^{\alpha t}$	$\frac{1}{(p - \alpha)^{n+1}}$	9	$e^{\alpha t} \cos \beta t$	$\frac{p - \alpha}{(p - \alpha)^2 + \beta^2}$
5	$\cos \beta t$	$\frac{p}{p^2 + \beta^2}$	10	$e^{\alpha t} \sin \beta t$	$\frac{\beta}{(p - \alpha)^2 + \beta^2}$

### БИБЛИОГРАФИЧЕСКИЙ СПИСОК

1. Пискунов Н.С. Дифференциальные и интегральные исчисления: в 2 т. Т.2 / Н.С. Пискунов. М.: Наука, 2001. 576 с.
2. Романовский П.И. Ряды Фурье. Теория поля. Аналитические и специальные функции. Преобразование Лапласа / П.И. Романовский. М.: Наука, 1980. 336 с.
3. Краснов М.Л. Функции комплексного переменного. Операционное исчисление. Теория устойчивости: учеб пособие / М.Л. Краснов, А.И. Киселев, Г.И. Макаренко. М.: Наука, 1981. 302 с.
4. Данко П.Е. Высшая математика в упражнениях и задачах: в 2 ч. Ч. 2 / П.Е. Данко, А.Г. Попов, Т.Я. Кожевникова. – М.: «Оникс 21век» «Мир и образование», 2003.
5. Ефимов А.В. Сборник задач по математике для вузов: в 3 ч. Ч.2 / А.В. Ефимов, Б.П. Демидович; под ред. А.В. Ефимова. - М.: Наука, 1986. 368 с.

## СОДЕРЖАНИЕ

ВВЕДЕНИЕ.....	3
КОМПЛЕКСНЫЕ ЧИСЛА И ДЕЙСТВИЯ НАД НИМИ.....	3
1. Алгебраическая форма комплексных чисел.....	3
2. Геометрическая интерпретация комплексных чисел.....	5
§ 1. ЛИНИИ И ОБЛАСТИ НА КОМПЛЕКСНОЙ ПЛОСКОСТИ.....	9
1.1. Комплекснозначные функции действительного переменного.....	9
1.2. Линии.....	10
1.3. Области.....	10
§ 2. ФУНКЦИЯ КОМПЛЕКСНОГО ПЕРЕМЕННОГО, ЕЕ ГЕОМЕТРИЧЕСКИЙ СМЫСЛ. ОСНОВНЫЕ ЭЛЕМЕНТАРНЫЕ ФУНКЦИИ.....	18
2.1. Понятие функции комплексного переменного.....	18
2.2. Предел. Непрерывность.....	19
2.3. Основные элементарные функции комплексной переменной.....	20
§ 3. ПРОИЗВОДНАЯ ФУНКЦИИ КОМПЛЕКСНОГО ПЕРЕМЕННОГО. АНАЛИТИЧЕСКИЕ И ГАРМОНИЧЕСКИЕ ФУНКЦИИ.....	31
3.1. Производная. Формулы для вычисления производной.....	31
3.2. Аналитические и гармонические функции.....	31
§ 4. ИНТЕГРАЛ ОТ ФУНКЦИИ КОМПЛЕКСНОГО ПЕРЕМЕННОГО. ТЕОРЕМА КОШИ, ИНТЕГРАЛЬНАЯ ФОРМУЛА КОШИ.....	40
4.1. Интеграл от функции комплексного переменного....	40
4.2. Теорема Коши. Интегральная формула Коши.....	41
§ 5. СТЕПЕННЫЕ РЯДЫ С ПОЛОЖИТЕЛЬНЫМИ И ОТРИЦАТЕЛЬНЫМИ ПОКАЗАТЕЛЯМИ. РАЗЛОЖЕНИЕ ФУНКЦИИ В РЯДЫ ТЕЙЛОРА И ЛОРАНА.....	51
5.1. Ряды Тейлора.....	51

5.2.Ряды Лорана.....	53
§6. ИЗОЛИРОВАННЫЕ ОСОБЫЕ ТОЧКИ. ВЫЧЕТЫ И ИХ ПРИЛОЖЕНИЯ.....	70
6.1. Изолированные особые точки.....	70
6.2.Вычеты.....	74
6.3. Приложение теории вычетов.....	78
§7. ОПЕРАЦИОННОЕ ИСЧИСЛЕНИЕ.....	99
7.1. Основные понятия и определения.....	100
7.2. Основные теоремы преобразования Лапласа.....	108
7.3. Формулы обращения Лапласа.....	129
7.4. Применение преобразования Лапласа.....	139
БИБЛИОГРАФИЧЕСКИЙ СПИСОК.....	165

Учебное издание

Глушко Елена Георгиевна  
Дубровская Алевтина Петровна

ЭЛЕМЕНТЫ ТЕОРИИ ФУНКЦИЙ  
КОМПЛЕКСНОГО ПЕРЕМЕННОГО

В авторской редакции

Компьютерный набор Е.Г. Глушко

Подписано к изданию 25.05.2011.  
Объем данных 6,5 Мб

ГОУВПО «Воронежский государственный  
технический университет»  
394026 Воронеж, Московский просп., 14